

2024年度全国通訳案内士試験

第1次筆記試験

<一般常識>の傾向と対策

(2024年6月23日)

ハロ一通訳アカデミー

植山源一郎

目次

1	2024年度<ガイドライン>
2	問題作成委員、配点構成、問題数
3	<合格への道><無料学習サイト>
4	2023年度(令和5年度)の問題分析
5	2022年度(令和4年度)の問題分析
6	2021年度(令和3年度)の問題分析
7	2020年度(令和2年度)の問題分析
8	2019年度(令和元年度)の問題分析
9	2018年度(平成30年度)の問題分析
10	2023年度問題
15	2023年度問題の解答
16	令和6年(2024年)版「観光白書」から出題が予想される最重要事項
26	モデル観光地11地域に関する観光庁資料
29	2015年度～2023年度に2回～8回出題された重要項目
29	2015年度～2023年度に1回出題された重要項目
31	日本の世界遺産
33	奄美大島、徳之島、沖縄島北部および西表島
34	北海道北東北の縄文遺跡群
35	百舌鳥・古市古墳群
37	長崎と天草地方の潜伏キリシタン関連遺産
38	「神宿る島」宗像・沖ノ島と関連遺産群
42	日本の無形文化遺産
43	外国人に人気の日本の観光スポットランキング<ベスト30>
44	オリンピック
45	日本の城
45	クルーズトレイン(レストラン列車)
46	日本遺産
48	ラグビーワールドカップ
49	FIFAワールドカップ
49	大相撲
49	交通系ICカード全国相互利用サービス
50	浮世絵
50	MICE
51	映画・アニメ
51	民泊
53	能舞台
54	最重要事項のまとめ
	<予想問題>
57	予想問題(日本国憲法)
58	予想問題(選挙制度)
59	予想問題(裁判、内閣と行政、経済論、経済史)
60	予想問題(金融)(財政)(経済)
	<過去問>
62	2022年度問題
68	2021年度問題
73	2020年度問題
81	2019年度問題
88	2018年度問題
93	2017年度問題
100	2016年度問題

<ガイドライン>

●2024 年度<ガイドライン>

<2024 年度の変更点>

「国家中国語能力試験推進委員会が実施する華語文能力測驗(TOCFL)のLevel6 精通級(C2)に合格した者が、中国語による全国通訳案内士試験を受験する場合は、外国語筆記試験(中国語)を免除する。」が追加されたのみであった。

<試験全体について>

日本地理、日本歴史及び一般常識についての筆記試験は、外国人観光旅客が多く訪れている又は外国人観光旅客の評価が高い観光資源に関連する地理、歴史並びに産業、経済、政治及び文化についての主要な事柄(日本と世界との関わりを含む。)のうち、**外国人観光旅客の関心の強いものについての基礎的な知識(?)**を問うものとする。

(1)免除規定:「一般常識」科目については、特に免除規定はない。

(2)試験方法

・試験は、現代の日本の産業、経済、政治及び文化についての主要な事柄(日本と世界との関わりを含む。)のうち、外国人観光旅客の関心の強いものについての基礎的な知識(例えば、**試験実施年度の前年度に発行された「観光白書」**のうち、外国人観光旅客の誘客に効果的な主要施策及び旅行者の安全・安心確保に必要となる知識、並びに新聞(一般紙)の1面等で大きく取り上げられた時事問題等)を問うものとする。

・試験の方法は、**多肢選択式(マークシート方式)**とする。

・試験の満点は、**50点**とする。

・問題の数は、**20問程度**とする。

・試験時間は、**20分**とする。

(2018年、2019年は**20問**。2020年は**23問**、2021年は**20問**、2022年は**20問**、2023年は**19問**)

(3)合否判定

・合否判定は、原則として**30点(60%)**を合格基準点として行う。

・実際の平均点が合格基準点から著しく乖離した科目については、当該科目の試験委員と試験実施事務局から構成される検討会を開催する。この調整は、平均点の乖離度及び得点分布を考慮して行う。なお、過去数年間、合格基準点が下げられることはあっても上げられることはなかった。

●そもそも、「合格基準点」とは何か？

全国通訳案内士試験は、1949年から約75年の歴史を持つ試験だが、長年に渡り、「**難問、奇問、珍問の通訳案内士試験**」の異名を誇ってきた。下記は、その件で、私が「AERA」から取材を受けた記事である。

・**問題がニッチすぎる？難問奇問珍問の国家資格「通訳案内士」**

マスコミに叩かれるようになって初めて、観光庁も思い腰を上げ、「ガイドライン」→「合格基準点」の設定、改正を重ねてきたが、その際、**<合格基準点＝出題者が、その科目の平均点となるように作成する基準点>**ということが大前提となってきた。つまり、**平均点を取れば、合格**ということである。

●一番の問題点は、**現場の通訳案内士が実際に必要とされる(観光)知識から乖離していること**である。

●「一般常識」が「一般常識」と「通訳案内の実務」に二分割された理由、過去3年間の問題の易化の理由**マスコミの批判を受けて**、観光庁は、**2016年9月の第18回「通訳案内士制度のあり方に関する検討会」**から、本格的に「**試験制度の見直し**」に着手し、「**地理、歴史、一般常識の出題範囲を明確化すべき**」「**現在の合格者は旅行の現場で全く使いものにならないので、旅程管理を含む通訳案内の実務に関する問題を出題すべき**」との委員の意見を踏まえて、「一般常識」は、**通訳案内士として知っておくべき「一般常識」と合格後に現場で必要とされる「通訳案内の実務」**に二分割された。問題の難易度は、2018年度→2019年度と一旦易化したが、2020年度は難化し、2021年度、2022年度はやや易化した。**2023年度は、問題の内容、切り口が、2022年度と異なり、出題者が変更したと推定される。**

問題作成委員

●問題作成委員

2018年度から2020年度までの出題形式、内容、配点構成を分析すると、
〈一般常識〉の問題作成委員は、2グループ(1グループ2名)が担当したと考えられる。

【Aグループ】2018年度～2019年度を担当

【Bグループ】2020年度～2022年度を担当

【Cグループ】2023年度を担当

【Cグループ】が、2024年度を担当するかどうかは、不明であるが、直近(6年分)の既出問題(2018年度、2019年度、2020年度、2021年度、2022年度、2023年度)の出題傾向はよく見ておくことが大切である。

年度別の大問、小問の配点構成、問題数

●2018年度

2点×22題+3点×2題=50点

問題数:20題

●2021年度/2022年度

2点×10題+3点×10題=50点

問題数:20題

●2019年度

2点×10題+3点×10題=50点

問題数:20題

●2023年度

2点×7題+3点×12題=50点

問題数:19題

●2020年度

2点×19題+3点×4題=50点

問題数:23題

●年度別〈正解の番号の個数〉

正解の番号	2018年度	2019年度	2020年度	2021年度	2022年度	2023年度
①	4	4	6	6	7	4
②	6	7	7	2	4	4
③	3	4	6	5	5	6
④	9	5	4	7	4	5
⑤	2					

※2018年度に、⑤が少ないのは、5択の問題が10問のみで、他はすべて4択の問題であったことが理由である。

※〈一般常識〉の正解の番号には、規則性がなく、「迷ったら、〇番を選べ!」とは言いにくい。

<合格への道>

(1) 孫氏の兵法に曰く、「彼を知り己を知れば百戦殆からず」と申します。
まず、既出問題を見て、出題傾向、自分の強い分野、弱い分野を知ることがすべての出発点になります。

● [<一般常識>問題\(2016年度～2023年度\)](#)

(2) 次に<合格体験記>を読むことにより、合格者の足跡をたどり、合格への道のりを追体験してください。

<合格体験記>は合格への道筋を示してくれます。

また、勉強に行き詰まったときに<合格体験記>を読むと、必ず道が開けます。

● [<最終合格体験記>のまとめ\(2019年度～2023年度\)](#)

2023年度1次筆記試験<1次レポート><合格体験記>もご参照ください。

● [2023年度1次試験<1次レポート>](#)

● [2023年度1次試験<合格体験記>](#)

<無料学習サイト>

本資料とともに、下記の<無料学習サイト・資料>も有効活用していただきたい。

● [マラソンセミナー<一般常識>動画学習コーナー](#)

● [マラソンセミナー<一般常識>音声学習コーナー](#)

● [第1次邦文試験対策<特訓1800題>テキストデータ](#)

● [<FlashcardsDeluxe>による学習法](#) → [<特訓1800題>](#)を4択問題形式で学習できます。

2023年度(令和5年度)の問題分析				
大問	問題番号	出題内容	観光白書(完全版)の出典ページ/関連ページ 関連法など	重要度
1	1	訪日外国人観光客数/国際観光収入	令和5年版(3)(7)	★★★
2	2	持続可能な観光の実現	令和5年版(61)(64)(111)(119)	★★
3	3	2021年の日本人国内旅行の状況	令和4年版(13)/令和5年版(15)	★★
4	4	日本の宿泊業の概要	令和5年版(20)	★★
5	5	2021年コロナ禍における観光関連企業の売上高及び利益状況	令和4年版(34)	★
6	6	地方における高付加価値なインバウンド観光地づくりモデル観光地	令和5年版(65)(100)(137)	★
7	7	労働生産性	令和5年版(31)(32)(43)(44)(46)	★★
8	8	高度外国人材を増やす新たな受入策	令和5年版(68)	★
9	9	出生時育児休業(産後パパ育休)	育児・介護休業法	
	10			
10	11	LGBT(性的マイノリティ)対策	いじめ防止対策推進法	
11	12	マイナンバーカード	マイナンバーカード	★★
12	13	国民の祝日に関する法律	国民の祝日に関する法律	★★
13	14	沖縄国際海洋博覧会	沖縄国際海洋博覧会	★
	15	美ら海水族館	美ら海水族館	★
14	16	明治神宮	明治神宮	★
15	17	有楽町線・南北線の延伸	有楽町線・南北線の延伸	
16	18	世界文化遺産登録候補(彦根城)	彦根城	★★
17	19	伝統的酒造り	令和5年版(91)(128)	★★

- 19問中、9問(47.4%)が観光白書から出題された。
令和4年版より2題、令和5年版より7題が出題された。

2022年度(令和4年度)の問題分析				
大問	問題番号	出題内容	観光白書(完全版)の出典ページ 関連ページ	重要度
1	1	訪日外国人による旅行消費額(定番の問題)	令和4年版(9ページ)	★★★
2	2	訪日外国人旅行者数(国別)(定番の問題)	令和元年版(11ページ)	
	3	CIQは何の略か(Customs,Immigation,Quarantine)	令和4年版(9ページ)	★★
3	4	デジタル・トランスフォーメーション(DX)	令和4年版(96ページ)	★
4	5	パリ協定→温室効果ガス排出削減		★
5	6	アクティビティ	令和4年版(82ページ)	★
	7	アドベンチャーツーリズム	令和4年版(82ページ)	★★
6	8	ユニバーサルツーリズム	令和3年版(99ページ)	★
	9	心のバリアフリー	令和3年版(99ページ)	★
7	10	ダークツーリズム(記憶の継承)		★
8	11	住宅宿泊事業者が注意すべき点		
9	12	海底火山噴火の被害国		★★
10	13	2025年日本国際博覧会	令和4年版(29ページ)	★★
11	14	偽札防止の技術		
12	15	ユニークベニューの利活用法	令和4年版(156ページ)	★
13	16	エイサーが行われる時期(益)		
14	17	どんど焼き		
15	18	日光東照宮の神仏習合の特徴		★
16	19	健康的な食生活を支える栄養バランス		★
17	20	「和食:日本人の伝統的な食文化」無形文化遺産		★★★

- 20問中、10問(50%)が観光白書から出題された。
令和元年版より1題、令和3年版より2題、令和4年版より7題が出題された。

2021年度(令和3年度)の問題分析				
大問	問題番号	出題内容	観光白書(完全版)の出典ページ 関連ページ	重要度
1	1	訪日外国人旅行者数(定番の問題)	令和3年版(9ページ)	★★★
2	2	日本の人口動態		
3	3	ラグビーワールドカップ日本大会	令和2年版(71~73ページ)	★
4	4	2020年に文化観光推進法が成立・交付された	令和3年版(88ページ)	
5	5	訪日外国人旅行者が「旅行中に困ったこと」	令和元年版(39ページ)	★
6	6	MICEの機会にプレジャーを促進することの重要性	令和2年版(22ページ)	★★
7	7	Living History(生きた歴史体感プログラム)促進事業の目的	令和3年版(129/189ページ)	★
8	8	「人間国宝」は「重要無形文化財」の保持者である。		★
9	9	日本で一番寺院が多い都道府県(=愛知県)		★
10	10	「パッケージツアー」は、旅行業法上何というか。		★
	11	「ウポポイ」の正式名称(=民族共生象徴空間)	令和3年版(213ページ)	
11	12	ホテル・旅館を所管する省(=厚生労働省)		★
	13	空港の出入国管理を所管する省(=法務省)		★
12	14	国連サミットで採択された「持続可能な開発目標」関連問題		
	15	国連サミットで採択された「持続可能な開発目標」関連問題		
13	16	働きながら休暇を取る過ごし方(=ワーケーション)	令和3年版(57ページ)	★
14	17	「日本版 MaaS」とは	令和3年版(123ページ)	★
15	18	「日本遺産」とは	令和3年版(129ページ)	★
	19	2020年に無形文化遺産に新たに登録されたもの		★★
	20	世界自然遺産に登録勧告する機関の略称(IUCN)		

- 20問中、10問(50%)が観光白書から出題された。
令和元年版より1題、令和2年版より2題、令和3年版より7題が出題された。

2020年度(令和2年度)の問題分析				
大問	問題番号	出題内容 (18番を除き、すべて観光関連の問題である)	観光白書(完全版)の 出典ページ 関連ページ	重要度
1	1	オリンピック東京大会の選手村の場所		
	2	首都高速道路の高架構造の地下化		
	3	コンセッション方式 とは(Concession)		
2	4	ICCA の国別国際会議の開催件数	令和元年版 18ページ	
	5	国際観光旅客税 (2019年大問2に出題されている)		★★★★
	6	「明日の日本を支える観光ビジョン」 (←令和元年観光白書のはじめにが出題のきっかけ)		★★
3	7	2019年の訪日外国人旅行者一人当たりの宿泊費	令和2年版 15ページ	★
	8	日本の旅行収支	令和2年版 16ページ	★
	9	訪日外国人の旅行消費額の構成比	令和2年版 13ページ	★
	10	訪日外国人旅行者の宿泊日数		★
	11	訪日外国人旅行者の都道府県別延べ宿泊数	令和元年版 272ページ	
4	12	統合型リゾート (2017年大問6に関連問題) コラム I-1 からの出題。	令和元年版 20ページ	★★★★
5	13	観光地域づくり法人(DMO) Destination Management/Marketing Organization コラム I-5 からの出題。	令和元年版 50～51ページ	★
	14	スマート・ベニュー(Smart venue)		
	15	ディスカバー農山漁村の宝	令和元年版162、240ペー	
6	16	国立公園満喫プロジェクト	令和元年版 126ページ	
7	17	働き方改革に関する法律	令和2年版 201ページ	
8	18	プライドパレード(Pride Parade) (文化に関する問題)		
9	19	2018年の国際旅行者数	令和元年版 4ページ	★
	20	2018年の国際旅行者数の多い国	令和2年版 6ページ	★
	21	2018年に国際収支の最も大きかった国(米国)	令和2年版 8ページ	★
	22	2018年に国際観光支出が最も大きかった国(中国)	令和2年版 9ページ	★
10	23	観光における危機管理(海外危険度レベル)	外務省のホームページ	★

●問題分析

- ① [ガイドライン](#)には、「現代の日本の産業、経済、政治及び文化についての主要な事柄(日本と世界との関わりを含む。)のうち、外国人観光旅客の関心の強いものについての基礎的な知識を問う」とあるが、近年(特に、2019年度、2020年度)、これを無視、逸脱し、産業、経済、政治及び文化については、ほとんど問われることがなくなってきた。
- ② 出典としては、[令和元年版「観光白書」](#)から 7 題、[令和2年版「観光白書」](#)から 7 題の計 14 題が出題された。
- ③ [令和元年版「観光白書」\(要旨版\)](#)からは、問題番号 4 と 19 の 2 題のみだった。
- ④ [令和元年版「観光白書」\(完全版\)](#)からは、[コラム](#)から 2 題出題された。[コラム](#)は完全版のみに掲載。

●対策

- ① 2021年度対策としては、[令和2年版「観光白書」](#)、[令和3年版「観光白書」](#)の両方を見ておく必要がある。
- ② 令和2年版「観光白書」については、下記の六つの[コラム](#)が最重要である。

[コラム I-1](#) [コラム I-2](#) [コラム I-3](#) [コラム I-4](#) [コラム I-5](#) [コラム I-6](#)

2019年度(令和元年度)の問題分析				
大問	問題番号	出題内容	重要度	準備することにより正解できる可能性
1	1	2018年の訪日外国人旅行者が多い居住国・地域	★★★★	◎
	2	2018年のタイからの訪日外国人旅行者数	★★★★	◎
	3	2018年の訪日外客の旅行消費額の費目別構成比1位と2位	★★★★	◎
	4	2018年の訪日外客の旅行消費額と一人あたりの旅行支出額	★★★★	◎
	5	2018年の国・地域別訪日外客の旅行消費額	★★	◎
2	6	2019年1月から導入された 国際観光旅客税	★	△
3	7	旅行業法改正による旅行サービス手配業者の登録義務	★★★★	◎
4	8	訪日外客の査証(ビザ)	★	△
5	9	2018年に ユネスコ世界遺産 に登録されたもの(潜伏キリシタン)	★★★★	◎
	10	2018年に ユネスコ無形文化遺産 に登録された「来訪神」	★★	○
6	11	JR 山手線・京浜東北線の田町～品川間に誕生する新駅の駅名	★★★★	◎
7	12	迎賓館赤坂離宮 に関する問題	★	△
8	13	EPA(経済連携協定) に関する問題		
9	14	文化庁の移転 に関する問題		
10	15	2019年のラグビーワールドカップ の開催都市		
	16	「 オリンピズム 」の理想に関する問題		
11	17	国際博覧会 に関する問題	★★	△
	18	2020年の 登録博覧会 の開催地に関する問題	★	△
12	19	重要伝統的建造物群保存地区 に関する問題	★★	○
	20	直近で選定された 重要伝統的建造物群保存地区	★	△

- 訪日外国人旅行者に関する問題(1～5)は、毎年出題される定番問題である。
2021年度は、2020年度の実績数値を問われるので、しっかり確認しておくこと。
- 準備することにより正解できる可能性のある問題が、全体の50.0%を占める。これはどうしても得点しなければいけない問題である。ここで、50点×50%=25点を確保する。
- 重要度の高い問題(★★★★、★★、★)は、2021年度も出題が予想されるので、しっかり準備しておくこと。

2018年度(平成30年度)の問題分析				
大問	問題番号	出題内容	難易度	準備することにより正解できる可能
1	1	2017年の訪日外国人旅行者数(2,869万人=庭でロックンロール)		◎
	2	2017年の訪日外客による消費額(国別第二位)(オーストラリア)		◎
	3	2017年の訪日外客の百貨店で最も人気の高い商品(化粧品)	★	
2	4	2017年の出国日本人数(1,789万人=イナ、(私も)早く、行きたい)		◎
3	5	「神宿る島」宗像・沖ノ島と関連遺産群が存在する県名(福岡県)		◎
4	6	JR各社とJCカード乗車券の正しい組み合わせ(JR九州=SUGOCA)	★★	
	7	2017年に訪日外客のクルーズ船が一番多く寄港した港(博多)		○
	8	レストラン列車に関する問題(TOHO EMOTION)	★★	
5	9	労働基準法の(36)協定		△
	10	(裁量)労働制		△
	11	改正民法により、18歳以上であれば、できるようになること	★	
6	12	2022年に開催される冬季オリンピックの開催都市名(北京)		◎
	13	FIFAワールドカップに関する問題	★	
	14	大相撲に関する問題	★	
7	15	国宝に指定されている城(松本城)		◎
	16	藤井聡太棋士に関する問題	★★★★	
	17	公的施設の公開に関する問題	★★★★	
	18	映画、ドラマ、アニメ等の作品名とその作品の「聖地」との組合せ	★	
	19	江戸時代を代表する浮世絵師とその作品の組合せ		◎
	20	日本食に関する問題	★	

難問比率は、50.0%。

- 準備することにより正解できる可能性のある問題が、全体の50.0%を占める。これはどうしても得点しなければいけない問題である。ここで、 $50 \times 50\% = 25$ 点を確保する。
- 難易度の高い問題(★、★★、★★★★)は、①消去法、②論理的推論、③第六感(女性が男性よりも優れている?)、④靈感(壺や多宝塔を買ってはいけない!)、により、最低、25%の正答率(デタラメでも、四択の一つが当たる確率)を狙う。ここで、 $50 \times 25\% = 12 \sim 13$ 点を確保する。
- 上記の合計(25点+12~13点=32点~33点)で、合格基準点=30点をクリアすることができる、と確信を持って勉強することが大切である。

各問題に対する解答はマークシートの解答欄にマークすること。例えば と表示のある問題に対して④と解答する場合は、マークシート の解答欄の④にマークすること。

1. 2016年3月の「**明日の日本を支える観光ビジョン**」以降、日本は2020年までに（ア）、2030年までに（イ）というインバウンドの数値目標を掲げ、その実現に努めてきた。コロナ禍に伴う落ち込みは大きいものの、2023年には各国同様、新たに回復と成長に向けて観光振興の取組みを本格化させつつある。空欄（ア）と（イ）に当てはまる組み合わせのうち正しいものはどれか。次の①～④から一つ選びなさい。 **令和5年版観光白書(3ページ)(7ページ)** (3点)

- ① ア：訪日外国人観光客 2,000 万人、国際観光収入 5 兆円
イ：訪日外国人観光客 3,000 万人、国際観光収入 8 兆円
- ② ア：訪日外国人観光客 3,000 万人、国際観光収入 5 兆円
イ：訪日外国人観光客 4,000 万人、国際観光収入 8 兆円
- ③ ア：訪日外国人観光客 4,000 万人、国際観光収入 8 兆円
イ：訪日外国人観光客 6,000 万人、国際観光収入 15 兆円
- ④ ア：訪日外国人観光客 6,000 万人、国際観光収入 8 兆円
イ：訪日外国人観光客 8,000 万人、国際観光収入 20 兆円

政府は、『観光先進国』への新たな国づくりに向けて、平成28年3月、『明日の日本を支える観光ビジョン構想会議』において、新たな観光ビジョンを策定した。『世界が訪れたくなる日本』を目指し、観光ビジョンの施策の実行に、政府一丸、官民一体となって取り組んでいます。

2. 持続可能な観光の実現に向けた「**日本版持続可能な観光ガイドライン (JSTS-D)**」の説明として正しいものはどれか。次の①～④から一つ選びなさい。 (3点)

令和5年版観光白書(61ページ)(64ページ)(111ページ)(119ページ)

- ① 地域での多面的な現状把握を可能にし、継続的なモニタリングと証拠資料（エビデンス）に基づいた観光政策や計画の策定、それらに基づく持続可能な観光地マネジメントの促進を目的としている。
- ② 貧困や飢餓の撲滅、教育、ジェンダーの平等、クリーンエネルギーの普及、経済成長、環境保全、平和構築など、17の目標と各目標に紐づく169のターゲットからなり、2030年までの達成を目指している。
- ③ 地域の取組目標となる水準の提示による観光地域づくり法人の形成・確立の促進、および関係省庁が観光地域づくり法人の形成・確立を目指す地域の情報を共有することによる支援の重点化等を目的としている。
- ④ 観光地域づくり法人の間の適切な連携を促すことで各法人間の役割分担がされた効率的な観光地域づくりを目的としている。

3. 新型コロナウイルスの感染拡大は、2020年以降、世界の観光業界に大きな影響を与えた。日本の国内市場に目を転じると、**2021年の日本人国内旅行の状況**もその例外ではなかったといえる。下線部に関する説明として正しいものはどれか。次の①～④から一つ選びなさい。 (2点)

令和4年版観光白書(13ページ)／令和5年版観光白書(15ページ)

- ① 移動制限や旅行控えが続いたものの、コロナ明けの兆しが見えてきたことから、日本人1人当たりの国内宿泊旅行・日帰り旅行の回数は、ともに前年(2020年)度の実績を約50%上回る結果となった。
- ② 移動制限や旅行控えが続いた結果、日本人1人当たりの国内宿泊旅行の回数、および1人当たりの宿泊数は、ともに前年(2020年)度の実績をやや下回る結果となった。
- ③ 移動制限や旅行控えに加え、新たな変異ウイルスの影響により、日本人1人当たりの国内宿泊旅行・日帰り旅行の回数は、ともに前年(2020年)度の実績から半減する結果となった。
- ④ 新たな変異ウイルスの影響があったものの、ワクチン接種による集団免疫の高まりから、日本人1人当たりの国内宿泊旅行の回数、および1人当たりの宿泊数は、ともに前年(2020年)度の実績をやや上回る結果となった。

4. 主要な観光関連産業の一つとして、宿泊業は重要な役割を担う。日本の宿泊業（とくに旅館、リゾートホテル、ビジネスホテル、シティホテル、簡易宿所）の概況を述べた説明として正しいものはどれか。次の①～④から一つ選びなさい。令和5年版観光白書(20ページ) (2点)

- ① 旅館、リゾートホテル、ビジネスホテル、シティホテル、簡易宿所を合計した施設数は、2015年以降、増加を続けているが、新型コロナウイルスの感染拡大により2020年および2021年は減少傾向にある。
- ② 総じてホテルの施設数は、2012年から2022年まで増加傾向にあるものの、近年シティホテルに限れば、その数は減少傾向にある。
- ③ 民泊を含む簡易宿所の施設数は、2015年以降、大きく増加傾向にあったが、新型コロナウイルスの感染拡大により最近2年ほどは急減している。
- ④ 旅館の施設数は、2012年から2022年まで、多少の上下変動はあるものの一貫して減少傾向が続いている。

5. 次の文は、2021年コロナ禍における観光関連企業の売上高及び利益状況の説明である。空欄 a と b に入る語句の組み合わせとして正しいものはどれか。次の①～④から一つ選びなさい。(3点)

令和4年版観光白書(34ページ)

宿泊業の売上高の動向をみると、規模にかかわらず厳しい状態となっている。次に、売上高から売上原価と販売費及び一般管理費を差し引いた本業で得たもうけとなる (a) については、2021年後半以降はやや持ち直しの兆しもあったが、引き続き厳しい状況に置かれている。また、一時的に発生した損益を含まない各年の経営状況を表す最も一般的な指標として用いられる (b) の動向をみると、2021年10-12月期は4産業(宿泊業、飲食サービス業、陸運業、生活関連サービス業)全てが黒字となっているが、各種支援策により下支えされていることが考えられることから、実態は依然厳しい状況であるとみられる。

- ① a 営業利益 b 当期純利益
- ② a 経常利益 b 当期純利益
- ③ a 営業利益 b 経常利益
- ④ a 売上総利益 b 経常利益

6. 観光庁では、今後のインバウンドの本格的な回復を見据え、消費額増加、地方への誘客をより重視するという観点から、訪日旅行における消費単価が高い傾向にある高付加価値旅行者の地方への誘客を促進することとした。その一環として、2022年8月19日付で公募を行った「地方における高付加価値なインバウンド観光地づくりモデル観光地」について、総合的な施策を集中的に講じるモデル観光地を選定した。この取り組みに関連する説明として正しいものはどれか。次の①～④から一つ選びなさい。令和5年版観光白書(65ページ)(100ページ)(137ページ) (3点)

- ① モデル観光地の決定は、ウリ、ヤド、ヒト、コネ、アシの5つの観点からの地方における高付加価値なインバウンド観光地づくりアクションプランに基づくものである。
- ② 高付加価値旅行者とは着地消費が一人300万円以上の訪日外国人旅行者を指し、今回選定されたモデル観光地には高額消費が期待できる首都圏の観光地が大半を占める。
- ③ 2019年の高付加価値旅行者は、訪日外国人旅行者全体の約10%(290万人)であり、消費額は全体の約20%(1兆円超)を占めていた。
- ④ 高付加価値旅行とは、日本の文化や伝統に対する興味、関心、理解度の高さを意味するため、消費額の大小の基準は設けられていない。

7. 厚生労働省「賃金構造基本統計調査」によると、宿泊業は全産業の賃金（年間賃金総支給額）より100万円以上の差がある。宿泊業の賃金が高産業の水準より低いのは、労働生産性が低いことが要因の一つであると考えられている。「労働生産性」の説明として正しいものはどれか。次の①～④から一つ選びなさい。 **令和5年版観光白書(31/32/43/44/46ページ)** (3点)
- ① 商品一単位の生産に直接・間接に必要な労働時間
 ② モノやサービスを追加的に消費する際、それがもたらす満足度
 ③ 労働環境や内容、待遇や福利厚生などにおける満足度
 ④ 従業員一人当たりの付加価値額をいい、付加価値額を従業員数で除したもの
8. 政府は、海外から優秀な人を招き入れ日本企業の競争力向上につなげるため、日本で働く高度外国人材を増やす新たな受入策を講じた。受入策の説明のうち、正しいものはどれか。次の①～④から一つ選びなさい。 **令和5年版観光白書(68ページ)** (3点)
- ① 世界大学ランキングの上位校の卒業者が就職活動で滞在できる期間を現行の90日から最長180日に延ばす。
 ② 年収2,000万円以上の研究者らは、入国時に永住権が得られる仕組みを定める。
 ③ 高度専門職として認められ、さらに一定の条件を満たした場合、外国人使用人を最大2名まで雇用することができたり、配偶者がフルタイムで働くことができる。
 ④ 高度専門職として認められた外国人材は、国籍別では2021年末時点でインドが66%、2位が中国(6%)、3位の韓国(4%)であった。
9. 近年ますます少子化の傾向が深刻化する中で、子育て支援の充実に向けた施策の一つとして2022年10月1日から育児・介護休業法が改正された。この法改正により、男性の育児休業取得を促進するため新たに「出生時育児休業（産後パパ育休）」という制度が創設され、（ア）休業を取得できるようになると共に、育児休業を（イ）に分割して取得することが可能となった。空欄（ア）および（イ）に当てはまる語句として正しいものはどれか。それぞれ次の①～④から一つ選びなさい。
 (各2点×2=4点)
- ア：① 配偶者の出産前後に2週間 ② 配偶者の出産前後に4日間
 ③ 子の出生後3か月以内に8週間まで ④ 子の出生後8週間以内に4週間まで
- イ：① 男女ともそれぞれ2回 ② 男性は2回、女性は3回 ③ 女性は3回 ④ 男女ともそれぞれ4回
10. 2017年3月、日本政府はいじめ防止基本方針の改訂を行い、LGBT（性的マイノリティ）の生徒の保護の項目がはじめて盛り込まれた。しかしこれまでのところ、日本はG7諸国の中では例外的に、LGBTへの差別禁止法が存在せず、同性婚の合法化もなされていない。これに関連する記載として正しいものはどれか。次の①～④から一つ選びなさい。 (2点)
- ① 同性婚は、2001年に世界で初めてアメリカで合法化され、これに続いて西ヨーロッパ諸国において次々と同性婚の合法化やパートナーシップ法の制度化がなされた。
 ② シンガポールは、アジアではじめて同性婚を合法化した国であり、これに続いて台湾が蔡英文政権のもとで同性婚の合法化を実現した。
 ③ 日本では、2015年に渋谷区と世田谷区でパートナーシップ制度が導入されて以降、多くの市区町村でも実施されているが、いずれも条例や要綱での実施であり、法的な拘束力はない。
 ④ 現在までのところ、アフリカ諸国の中で同性婚を合法化した国は一つも存在していない。

11. 政府は、マイナンバーカード (マイナンバーが記載された顔写真付のカード) の普及を呼び掛けており、申請した人の数は 2023 年 2 月 21 日の時点で、全国民の 7 割を超えた。このマイナンバーカードについての説明として正しいものはどれか。次の①～④から一つ選びなさい。(2 点)

- ① マイナンバーカードは、本人または代理人による受取以外にも、郵送、インターネット、宅配便などで受け取ることができる。
- ② 本人確認のための身分証明書として利用できるほか、自治体サービス、e-Tax 等の電子証明書を利用した電子申請等に利用できる。
- ③ マイナンバーカードには、本人の指紋認証の特殊な機能がついているため、拾得しても悪用はできない。
- ④ 行政のサイトを含め、インターネットサイトのログイン等の際に利用する電子証明書としては使用できない。

12. 日本の祝日は、「国民の祝日に関する法律」(昭和 23 年法律第 178 号)にもとづき、年間で計 16 日の祝日が定められている。このうち、年によって日付が移動する祝日の組み合わせとして正しいものはどれか。次の①～④から一つ選びなさい。(3 点)

- ① みどりの日と山の日
- ② 成人の日と勤労感謝の日
- ③ 敬老の日とスポーツの日
- ④ 昭和の日と文化の日

13. 2022 年は、沖縄が日本に返還されてから 50 周年を迎える年であった。ところでその返還から 3 年後、沖縄では (ア) が開催された。その跡地は、現在でも沖縄本島の北部の重要な観光資源となっており、敷地の一角には (イ) が所在している。空欄 (ア) および (イ) に当てはまる語句として正しいものはどれか。それぞれ次の①～④から一つ選びなさい。(各 3 点×2=6 点)

ア: ① 沖縄平和サミット ② 沖縄国際観光フォーラム ③ G7 沖縄サミット ④ 沖縄国際海洋博覧会

イ: ① 平和祈念公園 ② 美ら海水族館 ③ プセナ海中公園 ④ やんばる国立公園

14. 創建 100 年を超える明治神宮は、多くの日本人が初詣に参拝する神社であり、また日本の首都を代表する観光名所の一つとして、数多くの訪日外国人観光客が訪れる場所としても知られる。下線部に関する説明として正しいものはどれか。次の①～④から一つ選びなさい。(3 点)

明治神宮(2015年大問13問1に出題)

- ① のべ 10 万人を超える青年団の動員と全国からの 10 万本の献木のもと、民間からの寄付金で造営された。
- ② 社殿は第二次世界大戦中の空襲でも焼失を免れたため、現在も創建当時そのままの社殿が残っている。
- ③ 隣接する明治神宮外苑とともに、明治時代後期の 1911 年に日露戦争の勝利を記念して造営された。
- ④ 明治天皇と昭憲皇太后のご聖徳を祀る神社として、1920 年 11 月に創建された。

15. 2022 年 3 月に国土交通省は、東京地下鉄株式会社「(ア)の延伸」に係る鉄道事業許可について、申請どおり許可することを決定した。空欄 (ア) に当てはまる組み合わせとして正しいものはどれか。次の①～④から選びなさい。(3 点)

- ① 東西線・日比谷線
- ② 有楽町線・南北線
- ③ 銀座線・日比谷線
- ④ 有楽町線・半蔵門線

16. 日本国内の世界遺産は、1992年の世界遺産条約を締結以降、世界文化遺産が20か所、世界自然遺産が5か所、計25か所にのぼる。今後、日本が世界文化遺産への登録を目指しているものの一つとして（ア）がある。その理由として、江戸時代の統治の特徴をきわめてよく反映する近世城郭としての価値が高いとされる。空欄（ア）に当てはまる語句として正しいものはどれか。次の①～④から選びなさい。(3点)

- ① 彦根城 ② 二条城 ③ 大阪城 ④ 小田原城

17. 「(a)」は、500年以上前に原型が確立したとされ、杜氏(とうじ)・蔵人(くらびと)等が経験の蓄積によって探り出し、手作業のわざとして築き上げてきた日本の伝統技術である。米や麦などを蒸す、こうじを作る、もろみを発酵させるといった、手作業による一連の技術を指し、各地の風土に応じて発展し、自然や気候と深く結び付きながら伝承されてきた。日本が誇るべき伝統技術の一つとして、2021年12月に登録無形文化財に登録されており、また2022年に続き2023年3月にユネスコ無形文化遺産に提案することが決まり、早ければ2024年の無形文化遺産保護条約政府間委員会において記載の可否が審議される予定である。(2点)

令和5年版観光白書(91ページ)(128ページ)

空欄 a に入る適切な語句を次の①～④から一つ選びなさい。

- ① 伝統的こうじ菌造り ② 伝統的醸造醤油造り ③ 伝統的酒造り ④ 伝統的酵母造り

<一般常識> マークシート 解答 (2023年度)

解答番号	解答	配点
1	3	3
2	1	3
3	2	2
4	4	2
5	3	3
6	1	3
7	4	3
8	3	3
9	4	2
10	1	2
11	3	2
12	2	2
13	3	3
14	4	3
15	2	3
16	4	3
17	2	3
18	1	3
19	3	2

50

毎年、「観光白書」から出題されるが、2024年度は、令和年(2023年)版「観光白書」の下記は**特に重要である**。

- 2023年(令和5年)の訪日外国人旅行者数は、**2,506.6万人**だった。(★★★)

令和6年(2024年)版「観光白書」(6ページ)

第2章 日本の観光の動向 2021年①/2022年②/2023年①関連問題

2020年以降、新型コロナウイルス感染拡大の影響により、国内外の観光需要は大きく落ち込み、全国の観光地・産業は厳しい状況に置かれたが、**2022年10月の水際措置の大幅緩和や全国旅行支援の開始以降、需要は急速に回復し、全国各地の多くの観光地が賑わいを取り戻している。**

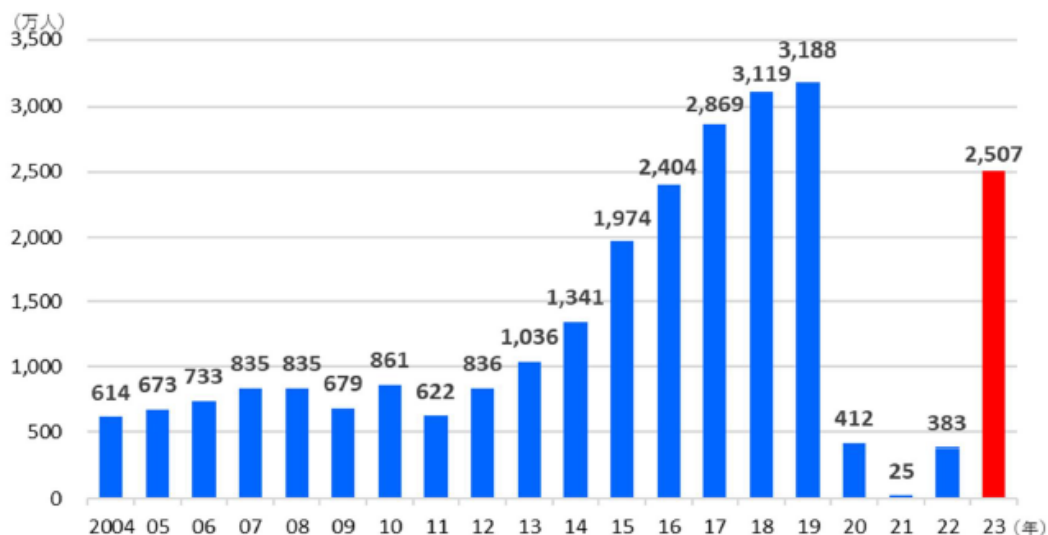
第1節 訪日旅行の状況 2021年①/2022年①/2023年①関連問題

1 訪日旅行の状況

訪日外国人旅行者数は、2019年までは、ビザの戦略的緩和や訪日外国人旅行者向け消費税免税制度の拡充、CIQ³体制の充実といった施策を進めるとともに、航空・鉄道・港湾等の交通ネットワークの充実、多言語表記をはじめとする受入環境整備、魅力的なコンテンツの造成、日本政府観光局(JNTO)等による訪日プロモーション等により、過去最高を更新していたが、2020年から2022年までの訪日外国人旅行者数は、新型コロナウイルス感染拡大に伴い、年間を通じて大きく減少した。

訪日外国人旅行者数は、2022年6月の外国人観光客の受入再開、同年10月の水際措置の大幅緩和等により徐々に回復しはじめ、2023年に入ってから東アジアを中心に大きく増加し、同年10月には2019年同月を超え、年間では2,507万人(2019年比21.4%減)となった(図表I-7)。

図表I-7 訪日外国人旅行者数の推移



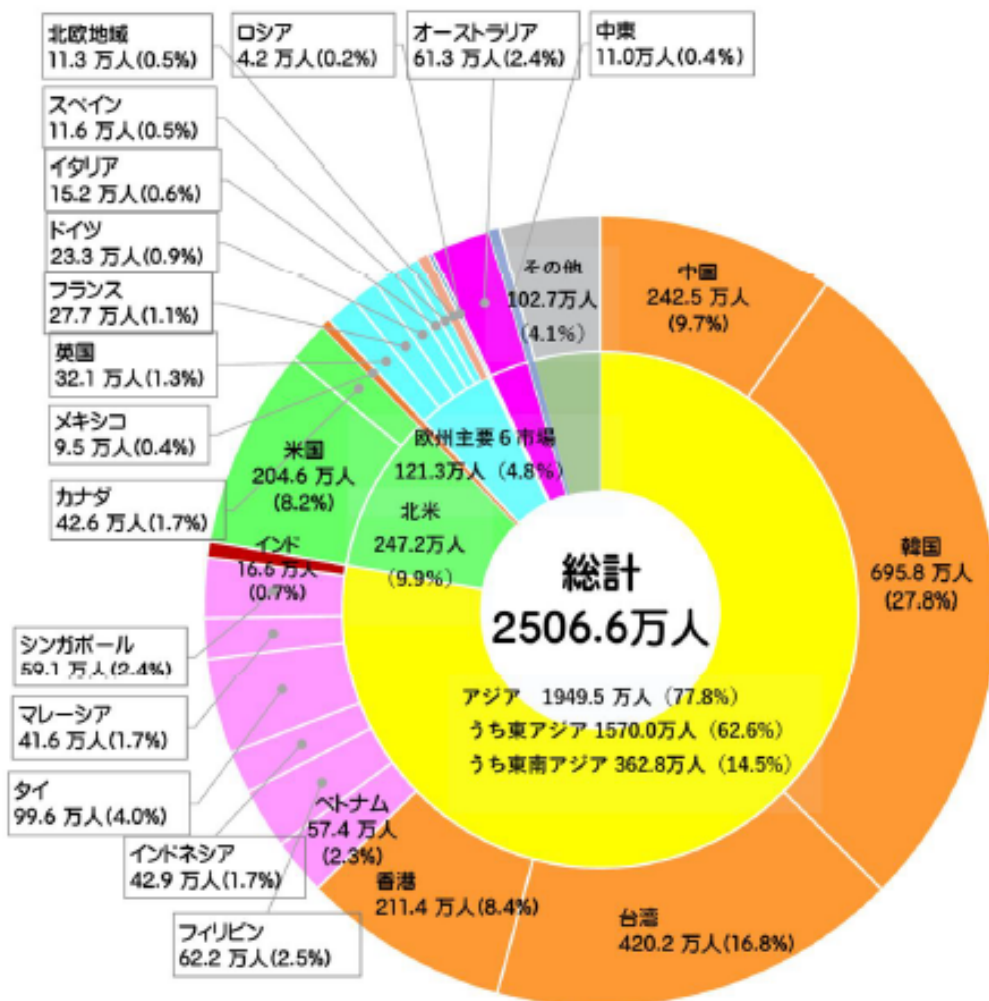
資料：日本政府観光局(JNTO)資料に基づき観光庁作成。

- 2023年(令和5年)の国籍・地域別訪日外国人旅行者数(★★★)

- ①**韓国**(695.8万人)(27.8%)
- ②**台湾**(420.2万人)(16.8%)
- ③**中国**(242.5万人)(9.7%)
- ④**香港**(211.4万人)(8.4%)
- ⑤**米国**(204.6万人)(8.2%)
- ⑥**タイ**(99.6万人)(4.0%)

●訪日外国人旅行者の内訳 2023 年(令和 5 年)

令和 6 年(2024 年)版「観光白書」(8 ページ)



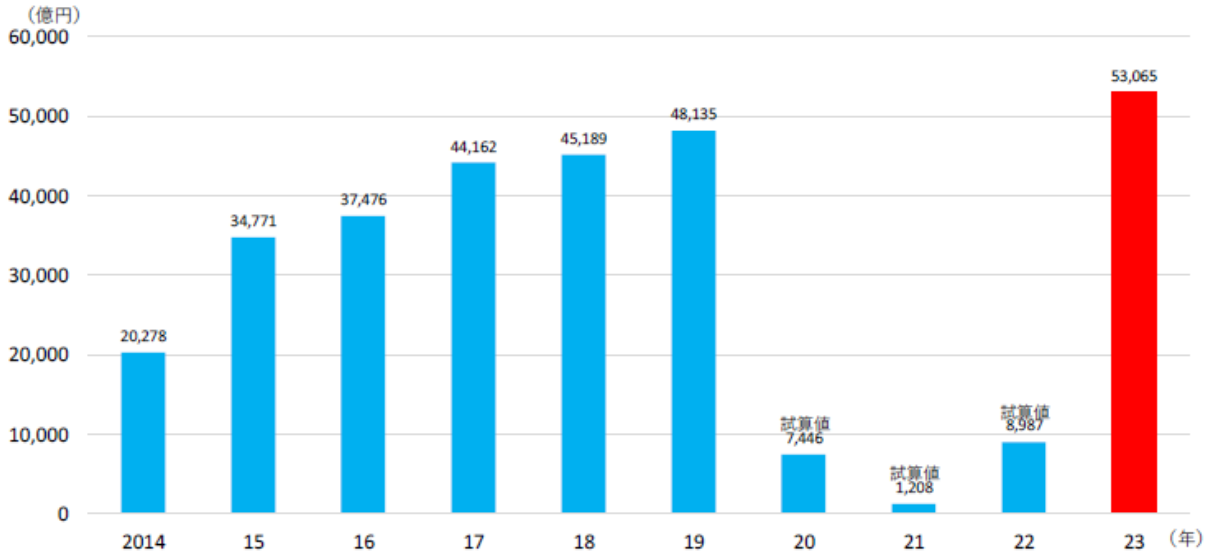
●訪日外国人旅行者による消費額の推移(★★)

- 2017 年(平成 29 年)(4兆 4,162 億円)(対前年比:17.8%増)
- 2018 年(平成 30 年)(4兆 5,189 億円)(対前年比:2.3%増)
- 2019 年(令和元年)(4兆 8,135 億円)(対前年比:6.5%増)
- 2020 年(令和 2 年)(7,446 億円)(対前年比:84.5%減)
- 2021 年(令和 3 年)(1,208 億円)(対前年比:83.8%減)
- 2022 年(令和 4 年)(8,987 億円)(対前年比:644.0%増)
- 2023 年(令和 4 年)(5兆 3,065 億円)(対 2019 年比:10.2%増)

令和6年(2024年)版「観光白書」(9ページ)

2023年の訪日外国人旅行消費額は、5兆3,065億円(2019年比10.2%増)と過去最高となった。国籍・地域別にみると、台湾が最も大きく、次いで中国、韓国、米国、香港の順であった。2019年と比較すると、中国の構成比が低下した一方、韓国や米国等の構成比が上昇した(図表I-9、図表I-10)。

図表I-9 訪日外国人旅行者による消費額の推移



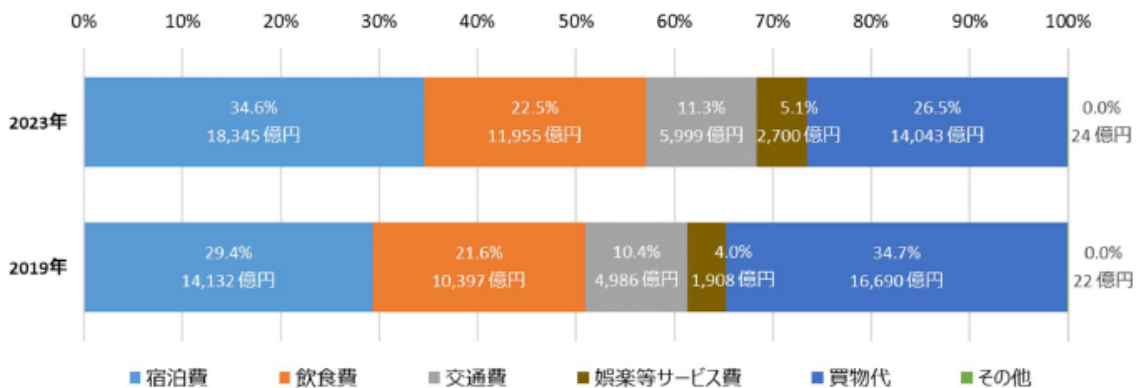
●費目別訪日外国人旅行消費額

- 2019年度:①買物代 ②宿泊費 ③飲食費 ←(2022年度①に出題された!)
- 2022年度:①宿泊費 ②買物代 ③飲食費
- 2023年度:①宿泊費 ②買物代 ③飲食費

令和6年(2024年)版「観光白書」(11ページ)

2023年の訪日外国人旅行消費額を費目別にみると、全体に占める割合では、宿泊費が34.6%と最も高かった(図表I-11)。

図表I-11 費目別にみる訪日外国人旅行消費額



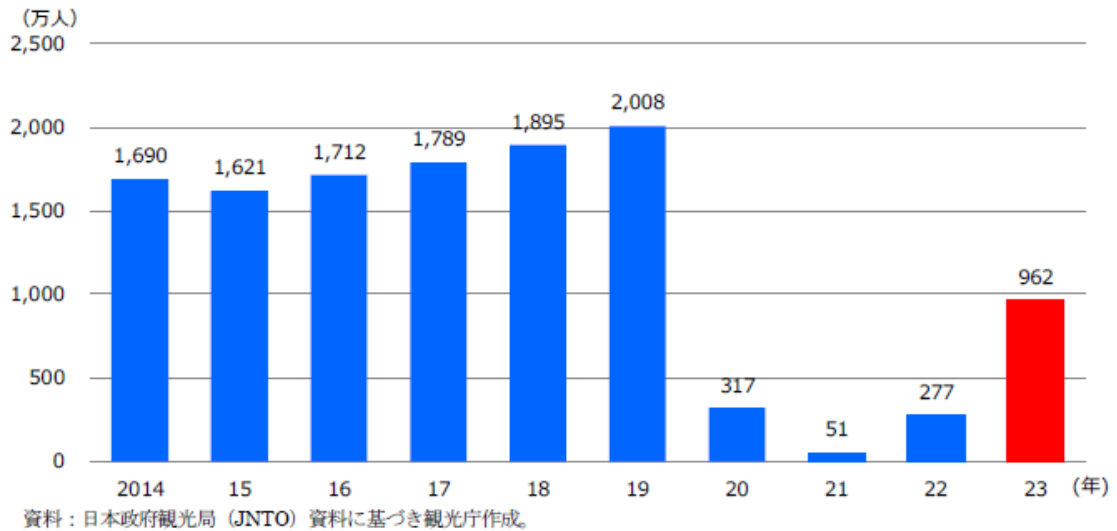
- 2023年(令和5年)の出国日本人数は、962.4万人(2019年比52.1%減)である。(★★)
 ・9624の覚え方: クロール(96)しながら、虹(24)を見た。

令和6年(2024年)版「観光白書」(10ページ)

第2節 日本人の海外旅行の状況

2023年の出国日本人数は、前年から大幅に増加し962.4万人(2019年比52.1%減)となった(図表I-14)。

図表I-14 出国日本人数の推移

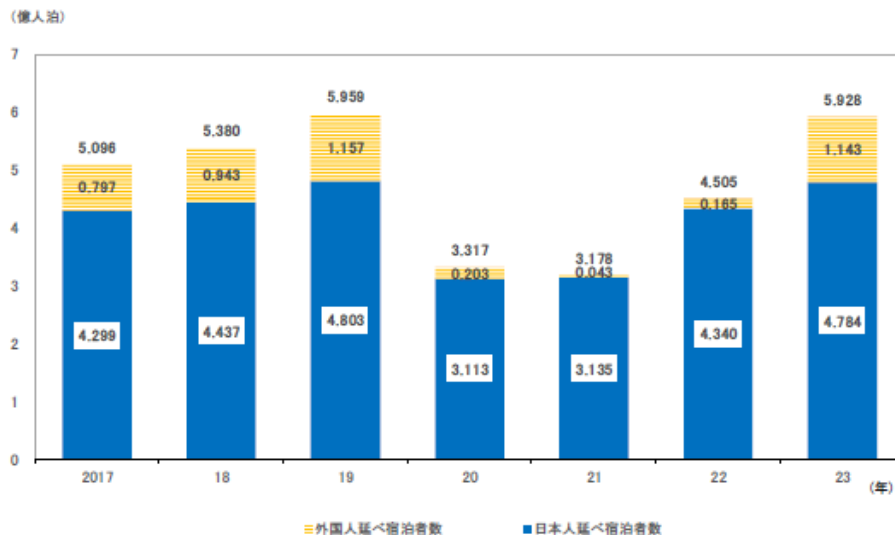


●宿泊旅行の状況

令和6年(2024年)版「観光白書」(13ページ)

日本国内のホテル、旅館等における延べ宿泊者数は、2023年は5億9,275万人泊(2019年比0.5%減)であった。このうち、日本人延べ宿泊者数は4億7,842万人泊(2019年比0.4%減)、外国人延べ宿泊者数は1億1,434万人泊(2019年比1.1%減)となった。また、延べ宿泊者数全体に占める外国人の割合は19.3%であった(図表I-19)。

図表I-19 日本人・外国人の延べ宿泊者数の推移



●観光関連産業の状況

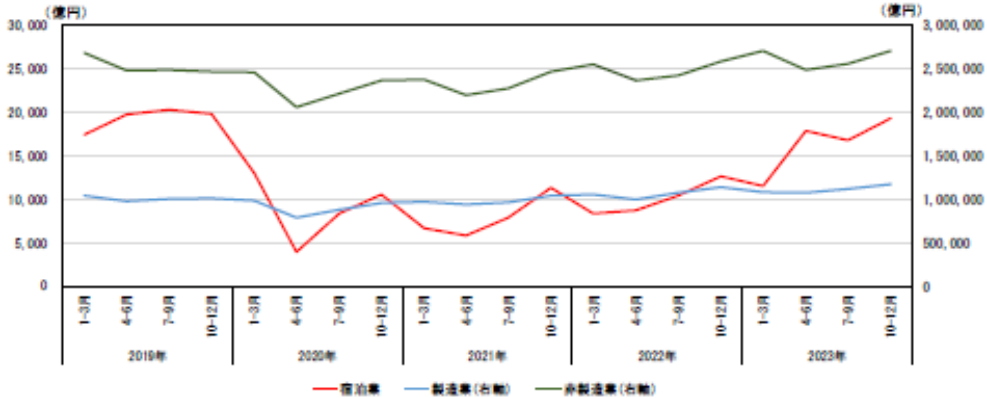
令和6年(2024年)版「観光白書」(16ページ)

第4節 観光関連産業の状況

1 企業の売上高の状況

宿泊業の売上高の推移についてみると、新型コロナウイルス感染症の影響により、2020年4-6月に製造業や非製造業と比べて大きく落ち込んだものの、以降は緩やかではあるが増加傾向にある(図表I-23)。

図表 I-23 売上高の推移



資料：財務省「法人企業統計調査」
 注1：本調査における「四半期別調査」は、資本金、出資金又は基金1,000万円以上の営利法人等を調査対象としており、本表は資本金等1,000万円以上の全ての企業規模(大企業及び中小企業)の数値。
 注2：業種分類は、日本標準産業分類に準拠している。

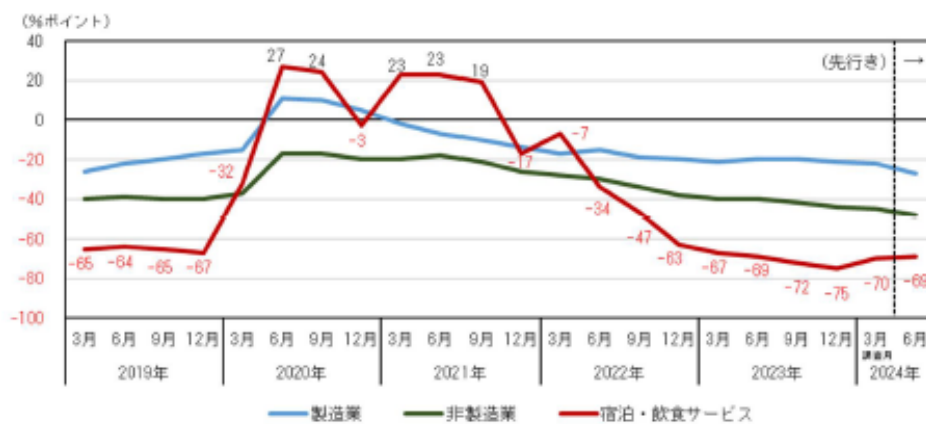
2 雇用の状況

(1) 労働需要

労働需要の推移をみるため、雇用人員判断D.I.の推移をみる。雇用人員判断D.I.はプラスにおいては、人員が過剰と考えている企業の割合が高く、マイナスにおいては、人員が不足していると考えている企業の割合の方が高いことを示している。

宿泊・飲食サービスについてみると、2022年後半以降、人員不足を感じている企業割合が高い状態が続いている(図表I-24)。

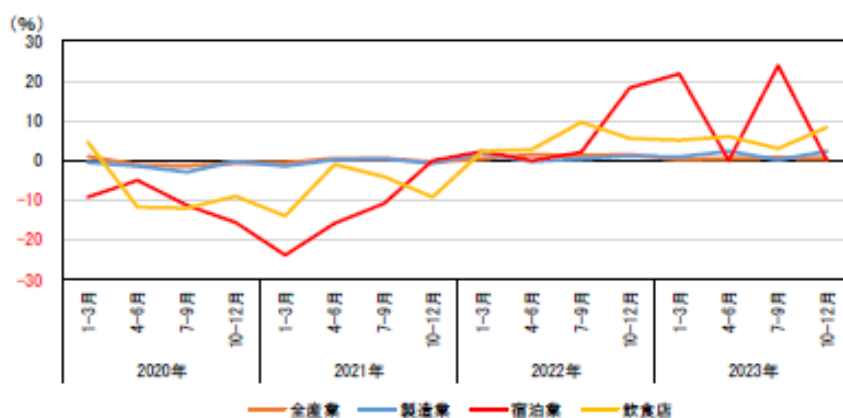
図表 I-24 企業の雇用人員判断D.I.の推移



(2) 雇用者数

産業別の雇用者数の動向をみる。宿泊業については、全産業や製造業と比較して、2020年から2021年にかけて前年同期比で大きく減少したが、2022年後半から回復傾向で推移している（図表 I-25）。

図表 I-25 雇用者数の推移（前年同期比）



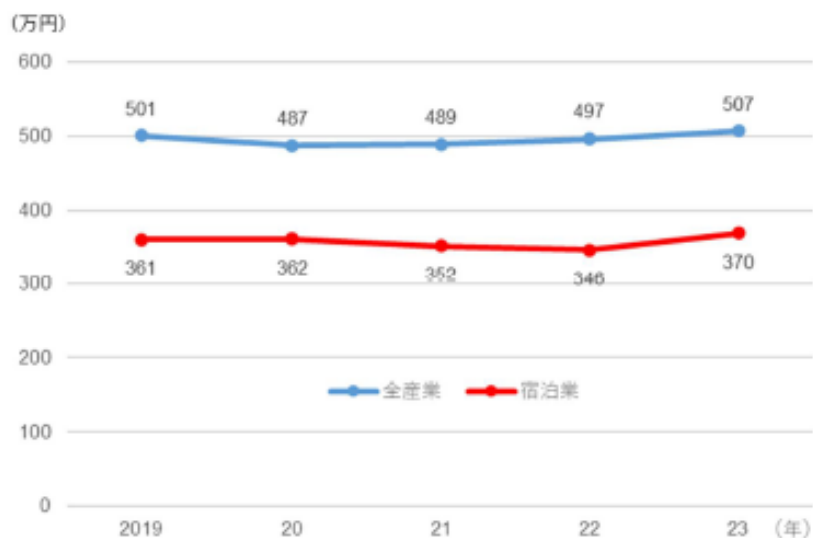
資料：総務省「労働力調査」に基づき観光庁作成。

注1：全国の産業別雇用者数を掲載。産業分類は、日本標準産業分類に準拠している。

(3) 賃金

宿泊業の賃金（年間賃金総支給額）についてみると、2019年から2023年にかけてほぼ横ばいで推移しており、全産業の水準を一貫して下回っている（図表 I-26）。

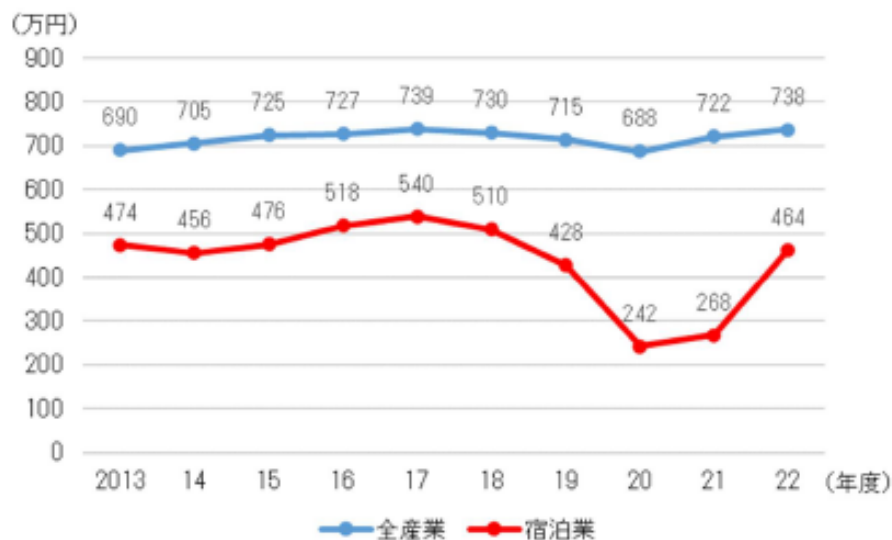
図表 I-26 賃金（年間賃金総支給額）の推移



(4) 労働生産性

労働生産性の推移をみると、宿泊業は、全産業よりも新型コロナウイルス感染症の影響を強く受け、2020年度に大きく落ち込んだ。以降は回復傾向にあるが、2022年度においても、宿泊業の労働生産性は全産業の水準を依然下回っている（図表 I-27）。

図表 I-27 労働生産性の推移



資料：財務省「法人企業統計調査」に基づき観光庁作成。
注1：本調査における「年次別調査」は、営利法人等を調査対象としており、
本表は全ての企業規模（大企業及び中小企業）の数値。
注2：業種分類は、日本標準産業分類に準拠している。
注3：労働生産性は付加価値額÷期中平均従業員数から算出。全産業は金融業、保険業を除く値。

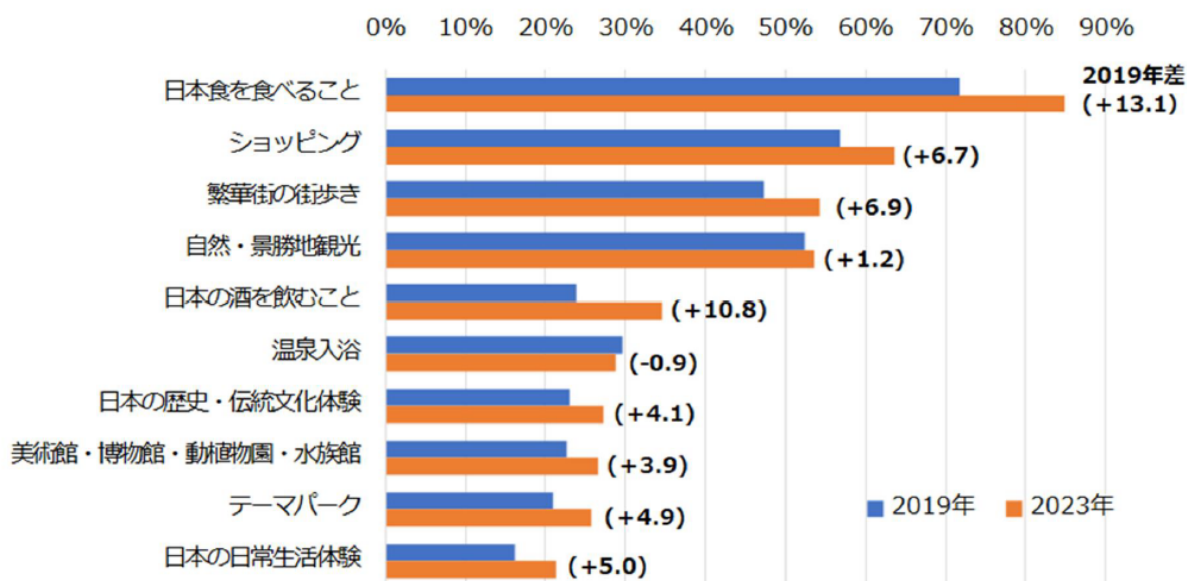
これまでの分析でみたように、観光需要が回復する一方、観光地や観光産業における人材不足や生産性の低さ等、供給面の課題が顕在化している。

●訪日外国人旅行者が訪日前に期待していたこと

令和6年(2024年)版「観光白書」(26ページ)

続いて訪日旅行における旅行志向等に着目する。観光庁「訪日外国人消費動向調査」における「訪日前に期待していたこと」をみると、2023年は「日本食を食べること」や「ショッピング」、「繁華街の街歩き」等の割合が高く、特に「日本食を食べること」については2019年から大きく増加している。また、「日本の歴史・伝統文化体験」や「日本の日常生活体験」への関心についても高まっている。日本食、日常の暮らしや文化等は重要な観光資源であり、訪日外国人旅行者にとって魅力的なコンテンツとなる可能性が高いことがうかがえる(図表I-39)。

図表 I-39 訪日外国人旅行者が訪日前に期待していたこと



資料：観光庁「訪日外国人消費動向調査」(観光・レジャー目的、2019年及び2023年)により作成。

●訪日外国人旅行者の消費動向

令和5年(2023年)版「観光白書」(28ページ)

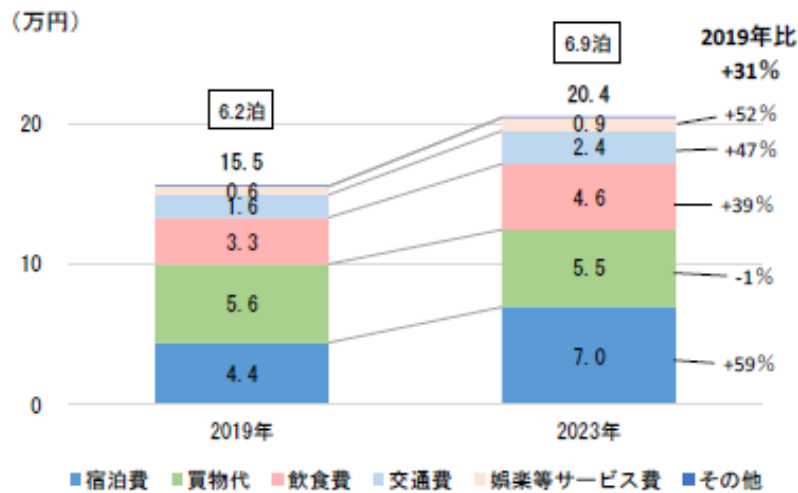
3 訪日外国人旅行者の消費動向

観光・レジャー目的の訪日外国人旅行者の消費動向について、2023年と新型コロナウイルス感染拡大前の2019年の比較を行う。

2023年における訪日外国人旅行者の一人当たり旅行支出(消費単価)は20.4万円であり、2019年の15.5万円から約3割増加している。費目別にみると、2019年と比べ宿泊費、娯楽等サービス費¹⁴、交通費¹⁵等が大きく増加している。娯楽等サービス費は他の費目と比較して消費水準は低いものの、2019年の0.6万円から2023年の0.9万円へと約50%増加しており、体験消費を含む「コト消費」の成長の兆しがみられる。

消費単価が増加した背景としては、円高・物価上昇等の影響に加え、訪日外国人旅行者の滞在の長期化が考えられる。2023年の訪日外国人旅行者の平均泊数は6.9泊であり、2019年から増加している(図表I-42)。

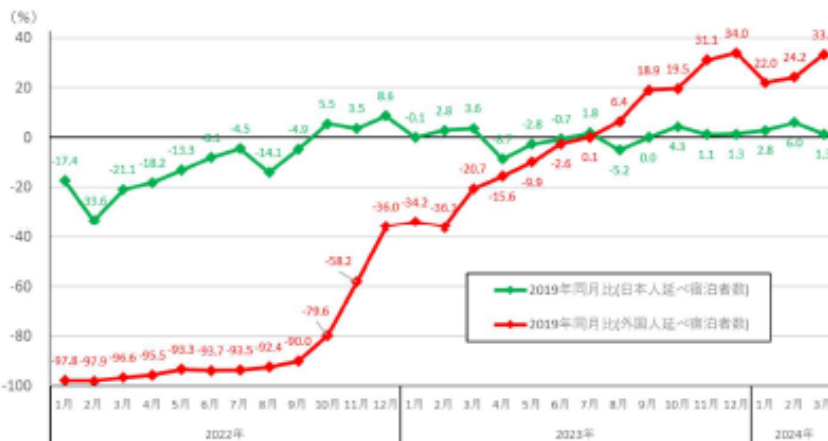
図表 I-42 消費単価及び平均泊数



資料: 観光庁「訪日外国人消費動向調査」(観光・レジャー目的、2019年及び2023年)により作成。
 注1: 枠内の数値は平均泊数を示す。
 注2: 消費単価は千の位、平均泊数は小数点第2位で四捨五入した値を表示している。

また、日本国内のホテル、旅館等における延べ宿泊者数(2019年同月比)の推移をみても、外国人延べ宿泊者数は2022年10月以降急速に回復し、2023年7月からは2019年水準を上回り好調に推移している(図表I-43)。

図表 I-43 延べ宿泊者数の推移(2019年同月比)



資料: 観光庁「宿泊旅行統計調査」
 注1: 2023年1月から2024年3月までは速報値。

●地方における高付加価値なインバウンド観光地づくり(11モデル地域)

令和6年(2024年)版「観光白書」(44ページ)

2 先進的な地域事例のとりまとめ

地方部における訪日外国人旅行者の滞在傾向や消費動向の分析を踏まえ、訪日外国人旅行者の滞在促進や消費拡大に向けた地域における具体的な取組事例について紹介する。

観光庁では、地方誘客や地方部での消費拡大に向け、訪日旅行における消費単価が高い傾向にある高付加価値旅行者の地方誘客を促進するため、2023年3月に、高付加価値なインバウンド観光地づくりに取り組む11のモデル地域を選定した。モデル地域では、他の事業とも連携の上、ウリ、ヤド、ヒト、コネ、アシの観点から総合的な施策を集中的に講じている。

地方における高付加価値なインバウンド観光地づくり(11モデル地域)



これらの地域から、地域ならではの特別な体験の提供や周遊・長期滞在の促進等、消費拡大に向けた様々な取組により、道県別のインバウンド観光指標が堅調に回復している3地域(岩手県(東北エリア)、石川県及び熊本県)を事例として取り上げる。

岩手県は、欧米や東南アジアの延べ宿泊者数の回復率が高く、日帰り客を含む訪問者数と一人当たり平均泊数がいずれも新型コロナウイルス感染拡大前よりも増加している。石川県及び熊本県は全国籍・地域別でみた外国人延べ宿泊者数の回復率が高い地域であり、石川県では特に欧米豪、熊本県では東南アジアや米国の延べ宿泊者数の増加が大きい。また、3県はいずれも新型コロナウイルス感染拡大前よりも旅行消費額が増加している。なお、岩手県については、東北地域が一体となった周遊・滞在促進等の取組が成果につながっていると考えられることから、東北エリア全体の取組等についても紹介する。

本項では、3地域におけるインバウンド観光の状況を概観した上で、戦略的なプロモーション、地域独自の観光資源を生かした特別な体験の提供、周遊・長期滞在の促進、滞在拠点としての魅力向上、持続可能な観光地づくりの観点から、特筆すべき取組を紹介する。さらに各地域の特徴や共通点を見出し、地方部における訪日外国人旅行者の誘客や消費拡大に向けて重要な取組や施策の方向性について検討する。

以下、令和6年(2024年)版「観光白書」(44～60ページ確認のこと)



令和 5 年 3 月 28 日

観 光 庁

高付加価値旅行者の誘客に向けて集中的な支援等を行う モデル観光地11地域を選定しました ～地方における高付加価値なインバウンド観光地づくり事業～

観光庁では、今後のインバウンドの本格的な回復を見据え、消費額増加、地方への誘客をより重視するという観点から、訪日旅行における消費単価が高い傾向にある高付加価値旅行者の地方への誘客を促進することとしています。

この度、令和4年8月19日付で公募を行った「地方における高付加価値なインバウンド観光地づくり モデル観光地」について、総合的な施策を集中的に講じるモデル観光地を選定しましたので、お知らせします。

【1. 事業概要】

訪日外国人旅行者は2019年に3千万人を超えていたものの、訪日外国人旅行消費額は4.8兆円（2020年目標8兆円）であり、取組の強化が必要です。

いわゆる高付加価値旅行者¹は、訪日外国人旅行者全体の約1%（29万人）に過ぎないものの、消費額の約11.5%（5,523億円）を占めていました。ただし、大都市圏での買物消費等が多く、地方での消費が少ないことから、地方への誘客を促進することにより、地方創生へ貢献することが期待されます。

このため、昨年5月に高付加価値旅行者の地方への誘客に必要な課題や取組を、ウリ（高付加価値旅行者のニーズを満たす滞在価値）、ヤド、ヒト（地方への送客、ガイド、ホスピタリティ）、コネ（海外高付加価値層とのネットワーク、情報発信）+アシの5つの観点から、「地方における高付加価値なインバウンド観光地づくりアクションプラン」として取りまとめました。

この度、本アクションプランに基づく集中的な支援を実施する「モデル観光地」を決定しましたので、お知らせします。

【2. 選定されたモデル観光地】

計11地域（別紙1参照）

【お問合せ先】

観光庁 国際観光部 国際観光課

担当：佐藤、櫻本、曾我

代表：03-5253-8111（内線：27-402、27-412）直通：03-5253-8923

メールアドレス：hqt-luxury-jta★mlit.go.jp

注：メール送信の際は「★」記号を「@」記号に置き換えてください。

¹ 着地消費 100 万円以上/人の訪日外国人旅行者

地方における高付加価値なインバウンド観光地づくり モデル観光地 11地域



モデル観光地選定地域

	東北海道エリア
1	世界に認められた手つかずの大自然 ～希少動物と人間の共生～
	八幡平エリア
2	数千年前の日本の文化が残る地
	那須及び周辺地域エリア
3	日本有数の広大な扇状地、街道が育んだ生活文化 ～訪れる人住まう人に優しいロイヤルリゾート～
	松本・高山エリア
4	日本の尾根が抱く森、雪、溢れる水と共にある生活 ～街道、城下町などが育んだ包摂性の高い社会、文化、歴史的景観～
	北陸エリア
5	日本有数の霊峰白山の恵みが育んだ多様な文化 ～北前船の交易や武家により培われた豊かな文化と持続可能な社会～
	伊勢志摩及び周辺地域エリア
6	日本神道の聖地・伊勢神宮を核とする参拝文化と一体となった自然、生活
	奈良南部・和歌山那智勝浦エリア
7	古来からの巡礼と暮らしが共存する世界有数の地域
	せとうちエリア
8	世界に類を見ない多島美と、暮らし、アートの融合
	鳥取・島根エリア
9	日本の紀元・神話の國
	鹿児島・阿蘇・雲仙エリア
10	世界有数の火山と共にある信仰・営みが調和した循環・再生の仕組み、武家の精神性
	沖縄・奄美エリア
11	琉球の精神性、自然環境、歴史的景観に触れる世界有数のブルーゾーン、well-beingの島

<継続検討>

山形（鶴岡・西川・庄内）、佐渡、山梨富士山麓エリア

2015年度～2023年度に2回～8回出題された重要項目

●8回出題

★★★[訪日外国人旅行者数](#)(2015)(2016)(2017)(2018)(2019)(2021)(2022)(2023)

●4回出題

★★★[訪日外国人消費額・動向](#)(2017)(2018)(2019)(2022)

●2回出題

<世界遺産><無形文化遺産>

- ★[和食\(無形文化遺産\)](#)(2017)(2022)
- ★[来訪神\(無形文化遺産\)](#)(2017)(2019)
- ★[明治の産業革命\(世界遺産\)](#)(2016)(2017)
- ★[和紙\(無形文化遺産\)](#)(2015)(2016)

<観光・交通>

- ★[明治神宮](#)(2015)(2023)
- ★[重要伝統的建造物群保存地区](#)(2015)(2019)
- [出国日本人数](#)(2017)(2018)
- [クルーズ船](#)(2017)(2018)
- [成田空港](#)(2015)(2016)

<文化・伝統>

- [結城紬](#)(2015)(2016)
- [西陣織](#)(2015)(2016)

<国立公園>

[尾瀬国立公園](#)(2016)(2017)

<スポーツ・イベント>

- [冬季オリンピック\(北京\)](#)(2018)(2020)
- [W杯カタール](#)(2018)(2022)
- [ラグビーワールドカップ日本大会](#)(2019)(2021)
- [夏季オリンピック\(東京\)](#)1964(2015)(2020)
- [横綱土俵入り](#)(2015)(2018)
- [外国人力士](#)(2015)(2018)
- [夏季オリンピック東京](#)(2015)(2017)(2020)

<食・芸能・その他>

- ★[ユニークベニュー](#)(2015)(2022)
- [築地市場初競り](#)(2017)(2018)
- [日本穀物検定協会](#)(2016)(2018)
- [清酒製法品質表示](#)(2016)(2018)

2015年度～2023年度に1回出題された重要項目

<世界遺産>

- ★[奄美大島、徳之島、沖縄島北部及び西表島](#)(2022)
- ★[IUCN\(国際自然保護連合\)](#)(2021)
- [伝統建築工匠の技:木造建築物を受け継ぐための伝統技術](#)(2021)
- ★[潜伏キリシタン](#)(2019)
- ★[宗像・沖ノ島](#)(2018)
- ★[富士山](#)(2017)
- [知床](#)(2017)
- [屋久島](#)(2017)
- [国立西洋美術館](#)(2017)
- [白神山地](#)(2017)
- ★[富岡製糸場](#)(2016)
- [ル・コルジュビエ](#)(2017)

<無形文化遺産>

- ★[伝統的酒造り\(無形文化遺産\)](#)(2023)
- [人間国宝\(=重要無形文化遺産\)](#)(2021)

[産](#)(2021)

[山鉾・屋台\(無形文化遺産\)](#)(2017)

<日本遺産>

- ★[日本遺産](#)(2021)

<国立公園>

- ★[国立公園満喫プロジェクト](#)(2020)
- ★[日光国立公園](#)(2017)
- ★[富士箱根伊豆国立公園](#)(2017)
- [支笏洞爺国立公園](#)(2017)
- [伊勢志摩国立公園](#)(2017)
- [大雪山国立公園](#)(2017)
- [南アルプス国立公園](#)(2017)
- [奄美群島国立公園](#)(2017)
- [上信越高原国立公園](#)(2016)
- [屋久島国立公園](#)(2016)
- [阿蘇くじゅう国立公園](#)(2016)

<寺・神社>

- 日本で一番寺院が多い都道府県(愛知県)(2021)
- ★[伊勢神宮](#)(2015)
- ★[法隆寺](#)(2015)
- ★[東大寺](#)(2015)
- ★[太宰府天満宮](#)(2015)
- [熊野那智大社](#)(2015)
- [興福寺](#)(2015)
- [無量光院](#)(2015)
- [恵光院](#)(2015)

<観光>

- ★[彦根城](#)(2023)
- ★[沖縄国際海洋博覧会](#)(2023)
- ★[美ら海水族館](#)(2023)
- ★[「地方における高付加価値なインバウンド観光地づくり\(11モデル地域\)」](#)(2023)
- ★[労働生産性](#)(2023)
- ★[CIQ体制](#)(2022)
- ★[デジタル・トランスフォーメー](#)

[シオン\(DX\)](#) (2022)
★[アドベンチャーリズム](#)
(2022)
★[ユニバーサルリズム](#)
(2022)
★[2025年日本国際博覧会](#)
(2022)
★[スマート・ベニュー](#)(2020)
★[ワーケーション](#)(2021)
[パッケージツアー\(募集型企画旅行\)](#) (2021)
★[旅行中に困ったこと](#)(2021)
[Living History\(生きた歴史体感プログラム\)](#) (2021)
[日本版MaaS](#)(2021)
★★[IR\(統合型リゾート\)](#)(2020)
★★[観光地域づくり法人\(DMO\)](#) (2020)
[海外危険度レベル](#)(2020)
[ディスカバー農山漁村の宝](#)
(2020)
[国際会議協会:ICCA\(International Congress and Convention Association\)](#) (2020)
[国連世界観光機関\(UNWTO\)](#)
(2020)
[査証\(ビザ\)](#) (2019)
[文化庁の移転](#) (2019)
[迎賓館赤坂離宮](#) (2019)
[京都迎賓館](#)(2018)
[皇居](#)(2018)
[京都御所](#)(2018)
[松本城](#)(2018)
[総理大臣官邸](#)(2018)
[日本遺産](#)(2017)
[旧弘道館](#)(2016)
[足利学校跡](#)(2016)
[旧閑谷学校](#)(2016)
[足尾銅山](#)(2016)
[横浜赤レンガ倉庫](#)(2016)
[特別天然記念物](#)(2016)
[鵜飼](#)(2016)
[野生生物生息地](#)(2016)
[桜-名所100選](#)(2016)
[メディカルリズム](#)(2015)
[東京空襲犠牲者碑](#)(2015)
[原爆死没者慰霊碑](#)(2015)
[平和祈念像](#)(2015)
[平和の礎](#)(2015)
[JATA](#)(2015)
[JNTO](#)(2015)
[地中美術館](#)(2015)

[安藤忠雄](#)(2015)
[全国産業観光フォーラム](#)
(2015)
[全国工場夜景サミット](#)(2015)

<文化・伝統>

[エイサー](#)(2016) (2022)
★[神仏習合](#) (2022)
[どんど焼き](#) (2022)
★[歌川広重](#)(2018)
★[葛飾北斎](#)(2018)
[東洲斎写楽](#)(2018)
[歌川国芳](#)(2018)
[喜多川歌麿](#)(2018)
[小千谷縮](#)(2017)
[芭蕉布](#)(2017)
[歌舞伎舞台](#)(2017)
[歌舞伎用語](#)(2017)
[黒留袖](#)(2015)
[色留袖](#)(2015)
[振袖](#)(2015)
[伝統工芸品](#)(2017)
[六古窯](#)(2017)
[郡上おどり](#)(2016)
[炭坑節](#)(2016)
[阿波踊り](#)(2016)
[即身成仏](#)(2015)
[国宝指定仏像](#)(2015)
[仁和寺木造薬師如来坐像](#)
(2015)
[東大寺銅造毘盧遮那仏坐像](#)
(2015)

<交通>

[高輪ゲートウェイ駅](#) (2019)
[TOHOKU EMOTION](#)(2018)
[旅する52席の至福](#)(2018)
[ザ・ロイヤルエクスプレス](#)
(2018)
[瑞風](#)(2017)
[MICE](#)(2017)(2021)
[JR門司港駅](#)(2016)
[LCC](#)(2016)

<スポーツ・イベント>

★[プライドパレード](#)(2020)
[冬季オリンピック\(平昌\)](#)
(2018)
[W杯第一回](#)(2018)
[W杯ロシア](#)(2018)
[大相撲-優勝回数](#)(2018)
[藤井聡太](#)(2018)
[織田幹雄](#)(2015)

[幕内力士](#)(2015)
[大阪万博1970](#)(2017)

<法律・行政>

[マイナンバーカード](#)(2023)
[パリ協定](#)(2022)
[新札偽造防止](#)(2022)
[ホテル・旅館を所管する省\(厚生労働省\)](#)(2021)
[空港の出入国管理を所管する省\(法務省\)](#)(2021)
[文化観光推進法](#)(2021)
★★[国際観光旅客税](#)(2019)
(2020)
★[働き方改革を推進するための関係法律の整備に関する法律](#)(2020)
[旅行サービス手配業者](#)(2019)
[36協定](#)(2018)
[裁量労働制](#)(2018)
[民法改正](#)(2018)
[喫煙者率](#)(2017)
[カジノ法](#)(2017)
[民泊新法](#)(2017)
[国家戦略特別地域](#)(2017)
[住宅宿泊事業法](#)(2017)
[公職選挙法改正](#)(2016)
[衆議院議員選挙](#)(2016)
[参議院議員選挙](#)(2016)
[日本国憲法改正](#)(2016)
[日本の経常収支](#)(2016)
[燃料電池自動車](#)(2015)
[温水洗浄便座](#)(2015)

<食・芸能・その他>

★★[持続可能な開発目標\(SDGs\)](#) (2021)
[EPA\(経済連携協定\)](#)(2019)
[映画「Love Letter」](#)(2018)
[映画「おくりびと」](#)(2018)
[映画「世界の中心で愛を叫ぶ」](#)
(2018)
[アニメ「SLUMDUNK」](#)(2018)
[精進料理](#)(2018)
[アニメ:千と千尋の神隠し](#)
(2017)
[コミック・マーケット](#)(2016)
[フィルム・コミッション](#)(2016)
[大間のマグロ](#)(2017)
[世界農業遺産-GIAHS](#)(2016)
[ハラール](#)(2016)
[キブラ](#)(2016)
[TPP](#)(2016)

●日本の世界遺産の出題実績

近年では、2011年、2012年、2016年、2017年、2018年、2019年、2022年、2023年に出題されている。

2011年度:大問11「[ビキニ環礁](#)」

2012年度:大問3「[小笠原諸島](#)」

2016年度:大問6「[明治の産業革命](#)」

2017年度:大問4「[明治の産業革命](#)」「[富士山](#)」「[ル・コルビュジエの建築作品](#)」

2018年度:大問3「[『神宿る島』宗像・沖ノ島と関連遺産群](#)」

2019年度:大問5「[潜伏キリシタン関連遺産](#)」、選択肢として、[百舌鳥・古市古墳群](#)、[『神宿る島』宗像](#)、

2019年度:大問5

世界遺産に関する次の各問に対して、それぞれ答えなさい。

(1) 2018年にユネスコ世界遺産に登録されたものはどれか。次の1~4から一つ選びなさい。

- 1 長崎と天草地方の潜伏キリシタン関連遺産(正解)
- 2 百舌鳥・古市古墳群
- 3 「神宿る島」宗像・沖ノ島と関連遺産群
- 4 奄美大島、徳之島、沖縄島北部及び西表島

2022年度「[奄美大島、徳之島、沖縄島北部および西表島](#)」

2023年度「[彦根城](#)」(文化遺産の候補として)

各年度の問題を見て、<出題のされ方>を理解した上で準備をすることが重要である。

●世界遺産とは

[世界遺産\(World Heritage\)](#)とは、1972年のユネスコ総会で採択された「[世界の文化遺産及び自然遺産の保護に関する条約](#)」([世界遺産条約](#))に基づいて[世界遺産リスト](#)に登録された、遺跡、景観、自然など、人類が共有すべき「顕著な普遍的価値」をもつ物件のことで、移動が不可能な不動産やそれに準ずるものが対象となっている。

日本では、[文化遺産 20件](#)、[自然遺産 5件の合計 25件](#)が登録されている。(2022年7月現在)

●文化遺産(Cultural Heritage)(計20件)

(1)[法隆寺地域の仏教建造物](#)(奈良県)(1993年登録)

(2)[姫路城](#)(兵庫県)(1993年登録)

(3)[古都京都の文化財](#)(京都府、滋賀県)(1994年登録)

(4)[白川郷・五箇山の合掌造り集落](#)(岐阜県、富山県)(1995年登録)

(5)[原爆ドーム](#)(広島県)(1996年登録)

(6)[厳島神社](#)(広島県)(1996年登録)

(7)[古都奈良の文化財](#)(奈良県)(1998年登録)

(8)[日光の社寺](#)(栃木県)(1999年登録)

(9)[琉球王国のグスク及び関連遺産群](#)(沖縄県)(2000年登録)

(10)[紀伊山地の霊場と参詣道](#)(奈良県、和歌山県、三重県)(2004年登録)

(11)[石見銀山遺跡とその文化的景観](#)(島根県)(2007年登録)

(12)[平泉—仏国土\(浄土\)を表す建築・庭園及び考古学的遺跡群](#)(岩手県)(2011年登録)

(13)★[富士山—信仰の対象と芸術の源泉](#)(山梨県、静岡県)(2013年登録)(2017年度出題)

(14)★★[富岡製糸場と絹産業遺産群](#)(群馬県)(2014年登録)

(15)★[明治日本の産業革命遺産 製鉄・製鋼、造船、石炭産業](#)(2015年登録)(2016年度・2017年度出題)

(16)★[ル・コルビュジエの建築作品—近代建築への顕著な貢献](#)(2016年登録)(2017年度出題)

(17)★★[『神宿る島』宗像・沖ノ島と関連遺産群](#)(2017年登録)(2018年度出題)

(18)★★[「長崎と天草地方の潜伏キリシタン関連遺産」](#)(長崎、熊本両県)(2018年登録)(2019年度出題)

(19)★★[百舌鳥・古市古墳群—古代日本の墳墓群](#)(大阪府堺市、羽曳野市、藤井寺市)(2019年登録)

(20)★★[北海道・北東北の縄文遺跡群](#)(北海道、青森県、岩手県、秋田県)(2021年登録)

● **自然遺産**(Natural Heritage)(計 5 件)

- (1) **屋久島** (鹿児島県) (1993 年登録)
- (2) **白神山地** (青森県、秋田県) (1993 年登録)
- (3) **知床** (北海道) (2005 年登録)
- (4) ★ **小笠原諸島** (東京都) (2011 年登録) (2012 年度出題)
- (5) ★★ **奄美大島、徳之島、沖縄島北部および西表島** (鹿児島、沖縄) (2021 年登録)

※覚え方⇒(**小笠原君が、屋久杉の前で、白装束で、『知床旅情』と『奄美音頭』**を歌った。)

※「日本の世界遺産」について詳しくは、下記をご覧ください。

<http://nihon-sekaiisan.com/>

★ズバリ、2024 年度の出題予想ベスト 4 (ハロー注意報！)

- ①『**神宿る島**』宗像 ②**百舌鳥・古市古墳群** ③**潜伏キリシタン** ④**富岡製糸場**

●2022年(大問17問20)に出題された。



推薦地を含む4地域は、その面積が日本の国土面積の0.5%に満たないにもかかわらず、日本の動植物種数に対して極めて大きな割合を占める種が生息・生育している。例えば、維管束植物は1,819種、陸生哺乳類21種、鳥類394種、陸生爬虫類36種、両生類21種が生息・生育している。全体として、陸域生物多様性ホットスポット「ジャパン」の陸生脊椎動物の約57%が推薦地を含む4地域に生息し、その中には日本固有の脊椎動物の44%、日本の脊椎動物における国際的絶滅危惧種の36%が包含される。また、推薦地では、国際的絶滅危惧種95種を含め、絶滅危惧種の種数及び割合も多い。

IUCNレッドリスト記載種のうち、奄美大島と徳之島のアマミノクロウサギは1属1種で近縁種は存在しない。沖縄島北部のヤンバルクイナは、絶滅しやすいことが知られている島嶼の無飛翔性クイナ類の1種である。トゲネズミ属は固有属で、中琉球の3地域にそれぞれの固有種が分布する。イリオモテヤマネコは“ヤマネコの生息する世界最小の島”西表島だけに生息する。

また推薦地では、多様な種分化、固有種の例が豊富に見られる。例えば、維管束植物は188種が、昆虫類は1,607種が固有種である。特に、陸生哺乳類(62%)、陸生爬虫類(64%)、両生類(86%)、陸水性カニ類(100%)では極めて高い固有種率を示している。これら推薦地の固有種には、進化的に独特かつ地球規模の絶滅危惧種であるEDGE種として選定されている種が20種もあり、そのうち、オキナワトゲネズミ、リュウキュウヤマガメ、クロイワトカゲモドキはトップ100種にランクされている。

このような、生物種数の多さ、絶滅危惧種や固有種の数の多さと割合の高さ、また、多様な種分化や進化の独特さは相互に関連しており、中琉球及び南琉球が大陸島として形成された地史の結果として生じてきた。琉球列島は中新世中期以前にはユーラシア大陸の東端を構成していたが、沖縄トラフや3つの深い海峡の形成によって大陸や他の島嶼と隔てられ、小島嶼群となった。そこに生息・生育していた陸域生物は、小島嶼に隔離され、独特の進化を遂げた。このため中琉球及び南琉球では、海峡を容易に越えられない非飛翔性の陸生脊椎動物群や植物で固有種の事例が特に明瞭に示されている。



アマミノクロウサギ



ヤンバルクイナ

●まだ出題されていないが、2023年度受験者は、**要注意!**



三内丸山(さんないまるやま)遺跡

「北海道・北東北の縄文遺跡群」は、「三内丸山遺跡」など、北海道と青森県、岩手県、それに秋田県にある17の縄文時代の遺跡で構成されています。

このうち北海道は大規模な貝塚の「北黄金貝塚」や、沿岸地域の集落跡の「大船遺跡」のほか、「垣ノ島遺跡」「入江貝塚」「高砂貝塚」「キウス周堤墓群」の6つの遺跡です。

青森県は最も多い8つの遺跡が構成資産に含まれています。

このうち、青森市の「三内丸山遺跡」は、東京ドームおよそ9個分にあたる広さ42ヘクタールの大規模な集落跡で、縄文時代の建築技術を示す「掘立柱建物」のほか、「竪穴建物」などが計画的に配置されていて、17の遺跡の中でも「学術上の価値が特に高い」とされています。

このほか、「大平山元遺跡」「田小屋野貝塚」「ニツ森貝塚」「小牧野遺跡」「大森勝山遺跡」「亀ヶ岡石器時代遺跡」「是川石器時代遺跡」があります。

岩手県が、配石遺構などの墓域と祭祀場である盛土を伴う大規模な集落跡の「御所野遺跡」。

秋田県は2つの遺跡で、このうち鹿角市の「大湯環状列石」は、「秋田のストーンサークル」と呼ばれ、大小の石が配置された最大径が52メートルと44メートルの2つの環状列石などからなる祭祀遺跡で、17の遺跡の中でも「学術上の価値が特に高い」とされています。

このほか「伊勢堂岱遺跡」があります。



大湯(おおゆ)環状列石

17の遺跡について文化庁は、狩猟や採集、漁を基盤に人々が定住して集落が発展し、1万年以上続いた「縄文時代」の生活や精神文化を現代に伝えるもので、顕著な普遍的価値があるとしています。

遺跡群は、2005年に青森県が県内8つの遺跡を国内の推薦候補に提案しましたが見送られ、その後、北海道と岩手県、秋田県と共同提案して、2009年に国内の推薦候補の前提となる「暫定リスト」に掲載、政府は去年、世界文化遺産への登録を目指して推薦書をユネスコに提出していました。

百舌鳥・古市古墳群(2019年に世界遺産に登録)

- 「百舌鳥・古市古墳群」(大阪府)が、2019年7月にアゼルバイジャンで開催される世界遺産委員会で登録が決定された。

百舌鳥・古市古墳群は、古墳時代の最盛期(4世紀後半から5世紀後半)にかけて築造された、古代日本列島の王たちの墓群であり、古代日本の政治文化の中心地のひとつであり、大陸に向かう航路の出発点であった大阪平野に位置している。

墳丘の長さおよそ500mにおよぶものをはじめとする、世界でも独特な鍵穴型の前方後円墳が多数集まり、これらと多数の中小墳墓が密集して群を形成している。

本資産の古墳には、前方後円墳、帆立貝形墳、円墳、方墳という4種類があり、これらの型式は、日本列島各地の古墳の規範となった標準化されたものだった。

世界各地の多くの墳墓の墳丘が棺や室に盛土・積石しただけのものであるのに対して、古墳の墳丘は葬送儀礼の舞台として幾何学的なデザインを施し、埴輪などの土製品で飾り立てた建築的な傑作である。

本古墳群は、古代中央集権国家が成立する直前の時代にあつて、激動する東アジア情勢への対応として展開した、墳墓によって権力を象徴した日本列島の人々の歴史を物語る顕著な証左でもある。

本資産は、古墳時代において、社会階層の違いを示唆する高度に体系だった葬送文化が存在し、古墳築造が社会の秩序を表現していたことを物語っている。

また本資産は、各地の古墳群が形づくる階層構造の頂点に位置し、列島一円の古墳群の群構成の規範となったものであった。

大仙陵古墳(だいせんりょうこふん)または大山古墳(だいせんこふん)



- 天皇を政治利用する意図から創設＝捏造された「天皇陵」
古墳群のうち「天皇陵」とされたものは、古代からそのように伝えられてきたわけではなく、江戸末期から明治にかけ、幕府や維新政府が、万世一系として天皇を政治利用する意図から創設＝捏造されたものであった。
古代から中世までの天皇の「陵墓」がどこにあるかは、江戸時代になると全く分からなくなっていたのであり、そもそも、古墳に被葬者名は残されていない。確たる証拠なしに、神武天皇から連なる万世一系の天皇の墓とみなす陵墓整備が、水戸藩による幕府への進言、天皇の権威を背景に成立した明治維新政府の手で進められた。

●発掘による「不都合な真実」を恐れる宮内庁＝政府与党

「陵墓」に指定されている古墳のうち、天皇陵は 41 基、皇后陵は 11 基、皇太子などの墓は 34 基であり、天皇、皇后、皇子等を合葬したものを差し引くと合計 85 基あるが、天皇家の墓とされる「陵墓」は「尊崇の対象」であるとして、宮内庁は「**静安と尊厳の保持がもっとも重要だ**」という立場から、学術調査を含む立ち入りを厳しく規制してきた。これは、発掘により、「仁徳天皇陵」「応神天皇陵」などと指定された根拠が崩れることを恐れているだけの理由である。

宮内庁の担当者は、「元禄年間に朝廷が仁徳天皇の墓と指定しました。宮内庁もこの見解を支持しています。考古学者の間で諸説出ていることは認識していますが、墓碑銘などの 100%確実な『仁徳天皇陵ではない』という証拠が出てこない限りは、指定を変える予定はありません」と、江戸時代の認定を覆すつもりはない。墳丘内の発掘調査で真相の解明を期待する声は大きいですが、墳丘内を発掘調査する予定はない。


●処刑を免れた天皇は、「象徴天皇制」のもと、新たな国民支配の道具として政治利用されてきた

第二次世界大戦後、連合国のイギリス、オーストラリア、ソ連、中華民国は、昭和天皇の戦争責任を追及し、「**昭和天皇は死刑にすべき**」と主張していた。アメリカ国内でも、戦争終結直前の1945年6月29日に行われた世論調査によれば、「**昭和天皇を処刑すべき**」とする意見が33%を占めていた。

しかし、マッカーサーは、「**天皇は処刑せず、生かしておいて、戦後の日本国民支配のために利用すべきである**。敗戦したとは言え、天皇には、少なくとも、4個師団の軍隊に相当する政治力はある。利用しない手はないだろう。」との政治的判断で、大方の反対を押し切って、天皇をあえて処刑しないことにした。

マッカーサーは、「堀端(ほりばた)天皇」と呼ばれるほど、戦後日本の絶対権力者であったが、彼は、回顧録に「私は日本国民に対して事実上無制限の権力を持っていた。歴史上いかなる植民地総督も征服者も総司令官も、私ほどの権力を持ったことはない。私の権力は至上だった。。。」と書いている。

処刑を免れた天皇は、日本国と日本国民統合の「象徴」とする「象徴天皇制」のもと、時の政権(支配者層)におもちゃのように政治利用されてきたが、最近では、安倍政権によるNHKをはじめとするマスメディア総動員により演出された「令和改元フィーバー」が記憶に新しい。天皇を国民支配の道具として利用したい支配者層にとって、「**陵墓**」発掘によって「**不都合な真実**」が出てくることは「**絶対にあってはならない**」ことなのである。



「長崎と天草地方の潜伏キリシタン関連遺産」(長崎、熊本県)(2018年に世界遺産に登録)

長崎と天草地方の潜伏キリシタン関連遺産は、江戸時代250年間の禁教令下における厳しい弾圧の中、宣教師不在でありながら、信者のみで信仰を守り通しながらも、孤立せずに一般社会との関わりも持ちつつ、共同体を存続させるための生き方・暮らし方を創造したことが評価され、2018年7月に、ユネスコの世界遺産に登録されました。

登録を受けて、バチカン(ローマ教皇庁)は、「聖霊が宣教師の説教を通じて灯した火は、カトリック共同体の祈りの生活を隠れて維持した平信徒の中に息づいてきた」とするフランシスコ教皇の談話を発表しました。

この他、潜伏キリシタンの末裔である前田万葉枢機卿が「弾圧した者とされた者、それらの子孫お互いに敬意をはらうことで真の平和が訪れる」、カトリック長崎大司教区の高見三明大司教は「250年間、キリスト教は日本で迫害されたが、そのことで多くの日本人がキリスト教に関心を持ち始めており、潜伏キリシタン遺産を訪ねることで日本のキリスト教史を再発見することになる。歴史を覚えておくのに建物は重要ではない。その背後にある物語、それが普遍的な価値を持つ」とコメントしました。



大浦天主堂



崎津天主堂-河浦エリア

●出題実績

2018年度【大問3】(1)

「神宿る島」宗像・沖ノ島と関連遺産群が存在する都道府県はどれか。次の1～4から一つ選びなさい(2点)

- ①福岡県
- ②佐賀県
- ③大分県
- ④長崎県

●宗像三女神とは

宗像三女神(むなかたさんじょしん)は、宗像大社(福岡県宗像市)を総本宮として、日本全国各地に祀られている三柱(みはしら)の女神の総称である。記紀(古事記、日本書紀のこと)に於いてアマテラスとスサノオの誓約(うけい)で生まれた女神らで宗像大神(むなかたのおおかみ)、道主貴(みちぬしのむち)とも呼ばれ、あらゆる「道」の最高神として航海の安全や交通安全などを祈願する神様として崇敬を集めている。※神は柱に降りて来ると考えられるので、神のことを柱で数えます。三柱とは、三つの神様のこと。

●宗像三女神の別称は「道主貴」

宗像三女神は、「道主貴(みちぬしのむち)」という別称を持っています。

「貴(むち)」という尊称は、最も高貴な神にのみ贈られるもので、「貴」が付く別称を持つのは、宗像三女神と、伊勢神宮の大日靈貴(おおひるめのむち／天照大御神)、出雲大社の大己貴(おこなむち／大国主命)のみとなっています。このことから、宗像大社が、伊勢神宮や出雲大社と並んで、古くから、皇室や人々から厚く信仰されていたことがわかります。

●誓約(うけい)とは

誓約(うけい)とは、お互いに譲れないことがあった時に、どちらが正しいかを占うことで、賭けに勝った方が正しいこととなります。

アマテラスとスサノオは、生んだ神の性別でどちらが正しいかを占うことにしました。アマテラスはスサノオの剣を受け取ると、バキボキと素手で3つに折りにし、井戸水で清め、口に含んでバリバリと噛み砕いた。そして『ふーっ』と吹き出すと、霧のような吐息の中から三人の女神が生まれてきました。これが、宗像三女神と呼ばれる航海の神々です。

●「宗像・沖ノ島と関連遺産群」世界遺産推進会議の説明(1)

日本列島と朝鮮半島を結ぶ海域に荘厳な姿を現す沖ノ島。人々は古来、その島の神を敬い、畏れ、航海安全の祈りを捧げてきました。国宝に指定された神への奉献品はおよそ八万点。

立ち入りさえも許さない厳格な禁忌(きんぎ)は、五百年間にも及ぶ古代祭祀(さいし)の跡を千年以上手つかずで守り伝えてきました。

沖ノ島への信仰を起源とする宗像三女神(むなかたさんじょしん)への信仰が受け継がれてきた沖ノ島、大島、九州本土の宗像大社三宮(むなかたたいしゃ)、遙か彼方に沖ノ島を望む大島の沖津宮遙拝所(おきつみやようはいじょ)、信仰の伝統を築いた人々が眠る新原・奴山古墳群(しんばる・ぬやまこふんぐん)。

●「宗像・沖ノ島と関連遺産群」世界遺産推進会議の説明(2)

世界遺産「神宿る島」宗像・沖ノ島と関連遺産群とは？

九州本土から約60km離れた沖ノ島と、大島および九州本土に位置するその関連遺産群は、古代から現在まで発展し継承されてきた、神聖な島を崇拝する文化的伝統の顕著な物証です。

沖ノ島には、日本列島、朝鮮半島および中国大陸の諸国間の活発な交流に伴い、4世紀後半から9世紀末まで続いた、航海安全に関わる古代祭祀遺跡が残されています。

古代豪族の宗像氏は、沖ノ島に宿る神への信仰から、宗像三女神信仰を育みました。

沖ノ島は三女神をまつる宗像大社の一部として、島にまつわる禁忌や遙拝の伝統とともに、今日まで神聖な存在として継承されてきました。

●「宗像・沖ノ島と関連遺産群」世界遺産推進会議の説明(3)

『古事記』『日本書紀』によれば、三女神は天照大神(あまてらすおおみかみ)と素戔嗚尊(すさのおのみこと)の誓約(うけい)のもとに誕生し、天照大神の神勅(しんちよく)によって、大陸との交通の要路にあたる「海北道中(かいほくどうちゅう)」(宗像より朝鮮半島に向かう古代海路)に降臨し、以降、国家の守護神として崇敬されています。

また、「日本書紀」には、宗像三女神が「道主貴(みちぬしのむち)」、すなわち国民のあらゆる道をお導きになる最も尊い神として崇敬を受けていたことが記されています。「貴」とは最も高貴な神に贈られる尊称です。道主貴(※宗像三女神)以外には、伊勢神宮の大日靈貴(おおひるめのむち)(※天照大神)、出雲大社の大己貴(おおなむち)(※大国主命)のみですので、宗像三女神が皇室をはじめ人々からいかに篤い崇敬を受けられていたかがうかがえます。

●宗像三女神

宗像大社沖津宮(おきつみや・おきつぐう)(沖ノ島):(長女神)田心姫神(たごりひめのかみ)

宗像大社中津宮(なかつみや・なかつぐう)(大島):(次女神)湍津姫神(たぎつひめのかみ)

宗像大社辺津宮(へつみや・へつぐう)(九州本土):(三女神)市杵島姫神(いちきしまひめのかみ)

日本の八百万の神々の中でも唯一の三姉妹の女神で、いずれも美人として知られています。

田心姫は「多紀理姫(たごりひめ)」、湍津姫は「多岐都姫(たぎつひめ)」ともいい、これらは「潮流が速く激しい様子」を表す言葉です。また、「市杵島」は、「神霊を齋(いつ)き祀る島」、つまり「神を祀り神に仕える島」という意味で、広島県・宮島の厳島神社の社名の由来になったとも言われています。宗像三女神は、人々に恵みをもたらす一方で、危険な一面も持つ海の神秘的な力が神格化されたもので、神霊を鎮め、航海の安全や豊漁を祈願するために全国に祀られました。宗像三女神を祀る神社は、全国に7,000余社、あるいは8,500社あるとも言われ、これは日本で5番目という多さです。宗像大社は、これらの神社の総本社となっています。



三カ所の祭祀遺跡


●[「宗像・沖ノ島と関連遺産群」世界遺産推進会議のホームページ](#)

●[宗像大社のホームページ](#)

宗像大社(沖津宮・中津宮・辺津宮)



沖ノ島



宗像大社沖津宮(沖ノ島)



宗像大社中津宮大社(大島)



宗像大社辺津宮社殿(九州本土)



宗像大社沖津宮遥拝所(大島の北側)



古代宗像氏の墳墓群(新原・奴山古墳群)(九州本土)

宗像大社(沖津宮・中津宮・辺津宮)の歴史

●古墳時代(4世紀(300年代)後半)

倭(ヤマト王権)と百濟(朝鮮半島)との交易が活発になり、沖ノ島の巨岩群の周辺で、航海の安全や交流の成就を祈る大規模な祭祀が行われるようになる。

巨岩の上で始まった祭祀は、初めは岩と岩とが重なる隙間に奉獻品を並べて祈禱をするスタイルでしたが、5世紀(400年代中頃)には、大石を石で四角く囲って祭壇を造るようになりました。

さらに5世紀後半になると、祭祀の会場は巨岩の上から屋根の庇(ひさし)のように突き出した巨岩の陰へと移りました。

●飛鳥時代(7世紀(600年代)後半)

沖ノ島で行われていた祭祀が、大島の御嶽山(みたけさん/224m)(御嶽山祭祀遺跡)や九州本土の宗像山(下高宮祭祀遺跡)でも営まれるようになる。この頃になると、岩陰で行われていた沖ノ島の祭祀は、半分は露天に出て行われるようになります。やがて8世紀(700年代)に入ると、巨岩群から少し離れた平坦

な露天で祭祀が行われるようになり、この形の祭祀は 9 世紀(800 年代)末頃までの約 200 年間続きました。

●奈良時代(8 世紀(700 年代)前半)

この頃までに、沖津宮・中津宮(御嶽山祭祀遺跡)・辺津宮(下高宮祭祀遺跡)に宗像三女神が祀られる。それまで**自然崇拜**だった信仰に、**宗像三女神という人格神**への信仰も重なり、両者が併存しながら、後世の宗像地域の信仰の基盤となっていきました。(宗像三女神については後述)

●平安時代

・9 世紀(800 年代)

豪族・宗像氏が神主として神社に奉仕することになる。日本と唐や新羅との間の公的な交流がなくなり、沖津宮・中津宮・辺津宮でそれまで行われていた古代祭祀も下火になる。遣唐使が廃止され、京の都では「**国風文化**」と呼ばれる文化が開いた頃、宗像地域の古代からの祭祀は一旦の終わりを告げます。しかし、沖ノ島はその後も「**神宿る島**」として崇拝され、古代祭祀遺跡はほぼ手付かずの状態現代に受け継がれました。

・12 世紀(1100 年代)

平安時代末期にあたる 12 世紀頃までに、九州本土の下高宮祭祀遺跡がある丘陵の麓に、**辺津宮の社殿が造営**される。

●室町時代～安土桃山時代

・16 世紀(1500 年代)

16 世紀までに、大島の御嶽山祭祀遺跡がある御嶽山の麓に、**中津宮の社殿が造営**される。中津宮の社殿は御嶽山山頂と参道で結ばれ、一体となっています。

・1578 年(天正六年)

前年に焼失した辺津宮本殿が、大宮司・宗像氏貞(うじさだ)により再建される。

・1590 年(天正十八年)

辺津宮拝殿が筑前領主・小早川隆景により再建される。

16 世紀に再建された辺津宮の本殿と拝殿は現在まで残り、共に国の重要文化財に指定されています。

●江戸時代

・17 世紀(1600 年代)半ば

この頃までに、沖ノ島の古代祭祀の祭場だった巨岩群の間に沖津宮の社殿が造営され、島全体が沖津宮の境内と定められる。

・1675 年(延宝三年)

第三代福岡藩主・黒田光之(みつゆき)により、地域にある宗像大社の末社が辺津宮の境内に集められ、祀られる。江戸時代には、福岡藩主・黒田氏により、辺津宮の社殿の造営や修理が度々行われました。

・18 世紀(1700 年代)半ば

この頃までに、大島の北岸に**沖津宮遙拝所**が設けられる。

遙拝所は他にもいくつか存在したようで、例えば江戸時代には、**九州本土の江口浜に沖津宮と中津宮の遙拝所**があり、福岡藩主が辺津宮を参拝した後は、ここから沖津宮と中津宮を遙拝したと伝わっています。

●明治時代

1907 年(明治 40 年)

辺津宮の拝殿・本殿が重要文化財に指定される。

●昭和時代

・1933 年(昭和 8 年)

沖津宮遙拝所の現在の建物が完成する。

・戦後

第二次世界大戦後、荒廃していた宗像神社が、宗像市出身の実業家・出光佐三(いでみつさぞう)の寄進によって整備される。

・1963 年(昭和 38 年)

宗像大社辺津宮で、日本で初めての**車用交通安全お守り**の授与が始まる。

●日本の無形文化遺産の出題実績

近年では、2012年、2014年、2015年(2題)、2017年(2題)、2019年、2022年、2023年に出題されている。

- 2012年度:大問5(問5)「[和食](#)」
- 2014年度:大問6(問5)「[祇園祭](#)」
- 2015年度:大問2(11)「[越前奉書紙](#)」「[細川紙](#)」
- 2015年度:大問2(14)「[結城紬](#)」「[西陣織](#)」
- 2017年度:大問4(2)「[山・鉾・屋台行事](#)」(祇園祭)」
- 2017年度:大問7(4)「[結城紬](#)」
- 2019年度:大問5(2)「[来訪神:仮面・仮装の神々](#)」
- 2022年度:大問16(19)「[和食日本人の伝統的な食文化](#)」
- 2023年度:大問17(19)「[伝統的酒造り](#)」(2024年の登録候補として)」

特に、「[結城紬](#)」が、2015年、2017年に2回出題されているので注意が必要である。
各年度の問題を見て、<出題のされ方>を理解した上で準備をすることが重要である。

●無形文化遺産とは

[無形文化遺産](#)(Intangible Cultural Heritage)とは、ユネスコの事業の一つ。

同じくユネスコの事業である世界遺産が建築物などの有形の文化財の保護と継承を目的としているのに対し、[民族文化財](#)、[フォークロア](#)、[口承伝統](#)などの無形のもの(無形文化財)を保護対象とすることを旨としたものである。現在、日本には、22の[無形文化遺産](#)がある。

- (1)★[能楽](#)(2001年)([定番として注意!](#))
- (2)★[人形浄瑠璃文楽](#)(2003年)([定番として注意!](#))
- (3)★[歌舞伎](#)(2005年)([定番として注意!](#))
- (4)★[雅楽](#)(2009年)([定番として注意!](#))
- (5)[小千谷縮](#)・[越後上布](#)(2009年)
- (6)[奥能登のあえのこと](#)(2009年)
- (7)[早池峰神楽](#)(2009年)
- (8)[秋保の田植踊](#)(2009年)
- (9)[チャッキラコ](#)(2009年)
- (10)[大日堂舞楽](#)(2009年)
- (11)[題目立](#)(2009年)
- (12)[アイヌ古式舞踊](#)(2009年)
- (13)[組踊](#)(2010年)
- (14)★[結城紬](#)(2010年)([2015年度、2017年度出題](#))
- (15)[佐陀神能](#)(2011年)
- (16)[壬生の花田植](#)(2011年)
- (17)[那智の田楽](#)(2012年)
- (18)★[和食日本人の伝統的な食文化](#)(2013年登録)([2012年度出題](#))([2022年度出題](#))
- (19)★[和紙](#)([石州半紙](#)、[本美濃紙](#)〈[美濃和紙](#)〉、[細川紙](#)〈[小川和紙](#)〉)(2014年登録)([2012年度出題](#))
- (20)★[山・鉾・屋台行事](#)(18府県の計33件)(2016年登録)([2014年度、2017年度出題](#))
- (21)★[来訪神:仮面・仮装の神々](#)(2018年登録)([2019年度出題](#))
- (22)★[伝統建築工匠の技:木造建造物を受け継ぐための伝統技術](#)(2020年登録)



世界最大級の旅行コミュニティサイト「[トリップアドバイザー](#)」が発表した「外国人に人気の日本観光スポットランキング」(2020年版)によると、ベスト30は以下の通りである。コロナの影響で、2021~2022年版はなし。

これらは、ガイドラインにある「外国人観光旅客が多く訪れている、又は、外国人観光旅客の評価が高い観光資源」なので要注意である。

●各観光地を[クリック](#)すると、説明文に[リンク](#)しますので、ご覧ください。

- 1位 : [広島平和記念資料館\(原爆ドーム、広島平和記念公園\)](#)／広島県広島市
- 2位 : [伏見稲荷大社](#)／京都府京都市
- 3位 : [箱根彫刻の森美術館](#)／神奈川県箱根町
- 4位 : [東大寺](#)／奈良県奈良市
- 5位 : [兼六園](#)／石川県金沢市
- 6位 : [新宿御苑](#)／東京都新宿区
- 7位 : [日光東照宮](#)／栃木県日光市
- 8位 : [人形ミュージアム](#)／石川県金沢市
- 9位 : [姫路城](#)／兵庫県姫路市
- 10位 : [高野山\(奥之院\)](#)／和歌山県高野町
- 11位 : [東京都庁展望台](#)／東京都新宿区
- 12位 : [永観堂禅林寺](#)／京都府京都市
- 13位 : [縮景園](#)／広島県広島市
- 14位 : [金閣寺](#)／京都府京都市
- 15位 : [愛宕念仏堂\(おたぎねんぶつじ\)](#)／京都府京都市
- 16位 : [大本山大聖院](#)／広島県廿日市市
- 17位 : [久保田一竹美術館](#)／山梨県富士吉田市
- 18位 : [宮島\(厳島神社\)](#)／広島県廿日市市
- 19位 : [地獄谷野猿公苑](#)／長野県山ノ内町
- 20位 : [根津美術館](#)／東京都港区
- 21位 : [奈良公園](#)／奈良県奈良市
- 22位 : [三十三間堂](#)／京都府京都市
- 23位 : [浅草寺](#)／東京都台東区
- 24位 : [京都鉄道博物館](#)／京都府京都市
- 25位 : [忠霊塔](#)／山梨県富士吉田市
- 26位 : [平等院](#)／京都府宇治市
- 27位 : [栗林公園](#)／香川県高松市
- 28位 : [中山道馬籠宿](#)／岐阜県中津川市
- 29位 : [奥入瀬溪流](#)／青森県十和田市
- 30位 : [弥山\(みせん\)](#)／広島県廿日市市



[伏見稲荷大社](#)

オリンピック

●出題実績

オリンピックは、近年では、2013年、2014年(3題)、2015年(3題)、2017年、2019年、2020年に出題されている。
2024年は、パリオリンピックの年なので、出題が予想されます。

- 2013年度:大問7(問3)「2020年大会の東京以外の候補2都市」
- 2014年度:大問7(問1)「クーベルタン男爵」
- 2014年度:大問7(問2)「レガシー」
- 2014年度:大問7(問3)「文化プログラム」
- 2015年度:大問2(2)「インフラ整備」
- 2015年度:大問2(9)(問1)「柔道が1964年大会から正式競技になった」
- 2015年度:大問2(9)(問2)「織田幹雄が、アムステルダム大会で優勝」
- 2017年度:大問7(2)(問1)「2020年大会の追加5種目」
- 2019年度:大問10(2)「オリンピズム」
- 2020年度:大問1(1)「選手村」の場所

2019年大問10(2)

19世紀末に近代オリンピックを発案したクーベルタン男爵は、その当時、国際スポーツ競技大会の実施に際して「オリンピズム」の理想を抱いていた。その内容として、正しいものはどれか。

次の1～4から一つ選びなさい。(2点)

- 1 男女平等の実現と差別の撤廃
- 2 国際観光の促進と階級間の融和
- 3 若者の精神修養とナショナリズムの発揚
- 4 相互理解と平和でよりよい世界の実現(正解)

●オリンピック開催地

夏季大会開催地

- ・シドニー(オーストラリア)(2000年)
- ・アテネ(ギリシャ)(2004年)
- ・北京(中国)(2008年)
- ・ロンドン(イギリス)(2012年)
- ・リオデジャネイロ(ブラジル)(2016年)
- ・東京(2021年)
- ・パリ(2024年)
- ・ロサンゼルス(2028年)

冬季大会開催地

- ・ソルトレークシティ(アメリカ)(2002年)
- ・トリノ(イタリア)(2006年)
- ・バンクーバー(カナダ)(2010年)
- ・ソチ(ロシア)(2014年)
- ・平昌(ピョンチャン)(韓国)(2018年)
- ・北京市(中国)(2022年)
- ・ミラノ/コルチーナ・ダンペッツォ(イタリア)(2026年)

●概要

19世紀末のパリ大学ソルボンヌ大における会議でフランスのピエール・ド・クーベルタンが古代ギリシャのオリンピアの祭典をもとにして世界的なスポーツ大会を開催する事を提唱し、決議された。

●シンボル

近代オリンピックの象徴でもあるオリンピックのマーク(オリンピックシンボル)は、クーベルタンが考案し世界5大陸を5つの重なり合う輪で表現したものである。5つの重なり合う輪はまた、平和への発展を願ったものである。

●2020年東京大会→開催は2021年に延期、開催された。

大会ビジョンは「スポーツには世界と未来を変える力がある。」であり、その3つの基本コンセプトは「全員が自己ベスト」「多様性と調和」「未来への継承」である。そのうち「多様性と調和」の理念は「人種、肌の色、性別、性的指向、言語、宗教、政治、障がいの有無など、あらゆる面での違いを肯定し、自然に受け入れ、互いに認め合うことで社会は進歩。」である。

日本の城

●出題実績

2011 年度:大問 9(問 1)「城郭建築に関する問題」
2018 年度:大問 7(1)「国宝に指定されている城」
2023 年度:大問 16(18)「彦根城」(世界文化遺産の候補)

●国宝5城

日本には天守が国宝に指定されている城が5つ(姫路城、彦根城、犬山城、松本城、松江城)ある。これらの城を「国宝5城」と呼ぶ。いずれも江戸時代から残る現存天守で、天守内を見学することができる。

覚え方:引越(彦根)して、姫(姫路)が待つ(松本)待つ(松江)、クロネコが来なくて、犬(犬山)がワンワン

●三大名城(おもに城郭の規模をもとにした選定)

- ①大坂城
- ②名古屋城
- ③姫路城

●三大名城(機能美に優れた城を選定)

- ①大坂城
- ②名古屋城
- ③熊本城

クルーズトレイン(レストラン列車)

●出題実績

2017 年度:大問 5(1)「四季島(しきしま)」「瑞風(みずかぜ)」(クルーズトレイン)
2018 年度:大問 4(3)「TOHOKU EMOTION」(レストラン列車)

●クルーズトレインとは

JR九州の「ななつ星in九州」を皮切りに、「TRAIN SUITE四季島」や「TWILIGHT EXPRESS瑞風」など、国内複数の鉄道事業者が豪華クルーズトレインの運行を始めています。それまでの寝台列車とは一線を画し、内装や食事、サービスなどは最上級のものに。車内ではピアノの生演奏やひのき風呂、展望デッキなど各社趣向を凝らしたさまざまな“もてなし”も用意されています。

●クルーズトレイン<ベスト3>

- (1)ななつ星in九州
- (2)TRAIN SUITE四季島(2017)
- (3)TWILIGHT EXPRESS瑞風(2017)

●その他のリゾート列車・レストラン列車

- (1)「TOHOKU EMOTION」(八戸駅～久慈駅)(JR東日本)「走るレストラン」(2018)
- (2)「旅するレストラン52席の至福」(池袋(西武新宿)～西武秩父駅)(西武鉄道)「西武旅するレストラン」
- (3)「ザ・ロイヤルエクスプレス」(横浜駅～伊豆急下田駅)(東急電鉄)
- (4)「オレンジ食堂」(熊本県・鹿児島県)(JR九州)
- (5)「とれいゆつばさ」(東京駅～山形駅・新庄駅)(JR東日本)「観光列車」「足湯のあるお座敷新幹線」
- (6)「現美新幹線(GENBI SHINKANSEN)」(越後湯沢～新潟)(JR東日本)「走る美術館」
- (7)「越乃Shu*Kura」(上越妙高駅～十日町駅間)(JR東日本)「新潟の地酒と料理を楽しむことができる」
- (8)「サンライズ出雲」(東京駅～出雲市駅)「サンライズ瀬戸」(東京駅～高松駅)

●出題実績

[日本遺産](#)は、2016年、2017年(2題)、2021年に出題されている。

2016年度:大問2(7)「近世日本の教育遺産群—学ぶ心・礼節の根源—」

2017年度:大問7(4)(問3)「きっと恋する六古窯—日本生まれ日本育ちのやきもの産地」

①瀬戸焼(愛知県)、②越前焼(福井県)、③丹波焼(兵庫県)

④常滑焼(愛知県)、⑤信楽焼(滋賀県)、⑥備前焼(岡山県)

2017年度:大問7(4)(問4)「日本遺産の主旨と目的」

「日本遺産は歴史的経緯や、地域の風土に根ざした世代を超えて受け継がれている伝承、風習などを踏まえたストーリーの下に有形・無形の文化財をパッケージ化するものである。」

上記の選択肢(正解)の文章は、下記の「[日本遺産\(Japan Heritage\)](#)」パンフレットの「[日本遺産とは](#)」からの抜粋となっているので、今後とも注意が必要です。

日本遺産とは

1. 主旨と目的

我が国の文化財や伝統文化を通じた地域の活性化を図るためには、その歴史的経緯や、地域の風土に根ざした世代を超えて受け継がれている伝承、風習などを踏まえたストーリーの下に有形・無形の文化財をパッケージ化し、これらの活用を図る中で、情報発信や人材育成・伝承、環境整備などの取組を効果的に進めていくことが必要です。

文化庁では、地域の歴史的の魅力や特色を通じて我が国の文化・伝統を語るストーリーを「日本遺産(Japan Heritage)」として認定し、ストーリーを語る上で不可欠な魅力ある有形・無形の様々な文化財群を総合的に活用する取組を支援します。

2021年度:大問15(問18)「日本遺産に関する説明」

●「[日本遺産\(Japan Heritage\)](#)」とは

(1)我が国の文化・伝統を語るストーリーを認定

「日本遺産」は地域の歴史的の魅力や特色を通じて我が国の文化・伝統を語るストーリーを「日本遺産」として文化庁が認定するものです。ストーリーを語る上で欠かせない魅力溢れる有形や無形の様々な文化財群を、地域が主体となって総合的に整備・活用し、国内だけでなく海外へも戦略的に発信していくことにより、**地域の活性化を図ることを目的としています。**

(2)世界遺産や指定文化財との違い

世界遺産登録や文化財指定は、いずれも登録・指定される文化財(文化遺産)の価値付けを行い、保護を担保することを目的とするものです。一方で、日本遺産は、既存の文化財の価値付けや保全のための新たな規制を図ることを目的としたものではなく、**地域に点在する遺産を「面」として活用し、発信することで、地域活性化を図ることを目的としている点に違いがあります。**

(3)認定による効果

「日本遺産」に認定されると、認定された当該地域の認知度が高まるとともに、今後、日本遺産を通じた様々な取組を行うことにより、地域住民のアイデンティティの再確認や地域のブランド化等にも貢献し、ひいては地方創生に大いに資するものとなると考えています。

(4)これまでに認定された「日本遺産」

[日本遺産ポータルサイト](#)

※日本遺産に関する情報を一元的に取得できるサイトです。

※各認定ストーリーや所在地のほか、動画なども掲載し、ビジュアル的に楽しめるサイトを目指しています。

(5)ストーリーのタイトル

- (1)近世日本の教育遺産群～学ぶ心・礼節の本源～(2016)
- (2)かかあ天下～ぐんまの絹物語～
- (3)加賀前田家ゆかりの町民文化が花咲くまち高岡～人, 技, 心～
- (4)灯(あか)り舞う半島能登～熱狂のキリコ祭り～
- (5)海と都をつなぐ若狭の往来文化遺産群～御食国(みけつくに)若狭と鯖街道～
- (6)「信長公のおもてなし」が息づく戦国城下町・岐阜
- (7)祈る皇女斎王のみやこ斎宮
- (8)琵琶湖とその水辺景観～祈りと暮らしの水遺産
- (9)日本茶 800 年の歴史散歩
- (10)丹波篠山デカンショ節～民謡に乗せて歌い継ぐふるさとの記憶
- (11)日本国創成のとき～飛鳥を翔(かけ)た女性たち～
- (12)六根清浄と六感治癒の地～日本一危ない国宝鑑賞と世界屈指のラドン泉～
- (13)津和野今昔～百景図を歩く～
- (14)尾道水道が紡いだ中世からの箱庭的都市
- (15)「四国遍路」～回遊型巡礼路と独自の巡礼文化～
- (16)古代日本の「西の都」～東アジアとの交流拠点～
- (17)国境の島舌岐・対馬～古代からの架け橋～
- (18)相良 700 年が生んだ保守と進取の文化～日本でもっとも豊かな隠れ里～人吉球磨～
- (19)政宗が育んだ“伊達”な文化
- (20)自然と信仰が息づく『生まれかわりの旅』～樹齢 300 年を超える杉並木につつまれた 2,446 段の石段から始まる出羽三山～
- (21)会津の三十三観音めぐり～巡礼を通して観た往時の会津の文化～
- (22)未来を拓いた「一本の水路」—大久保利通“最期の夢”と開拓者の軌跡郡山・猪苗代—
- (23)「北総四都市江戸紀行・江戸を感じる北総の町並み」—佐倉・成田・佐原・銚子:百万都市江戸を支えた江戸近郊の四つの代表的町並み群—
- (24)江戸庶民の信仰と行楽の地～巨大な木太刀を担いで「大山詣り」～
- (25)「いざ、鎌倉」～歴史と文化が描くモザイク画のまちへ～
- (26)「なんだ、コレは！」信濃川流域の火焰型土器と雪国の文化
- (27)『珠玉と歩む物語』小松～時の流れの中で磨き上げた石の文化～
- (28)木曾路はすべて山の中～山を守り山に生きる～
- (29)飛騨匠の技・こころ—木とともに、今に引き継ぐ 1300 年—
- (30)『古事記』の冒頭を飾る「国生みの島・淡路」～古代国家を支えた海人の営み～
- (31)森に生まれ、森を育んだ人々の暮らしとこころ～美林連なる造林発祥の地“吉野”～
- (32)鯨とともに生きる
- (33)地藏信仰が育んだ日本最大の大山牛馬市
- (34)出雲國たたら風土記～鉄づくり千年が生んだ物語～
- (35)鎮守府横須賀・呉・佐世保・舞鶴～日本近代化の躍動を体感できるまち～
- (36)“日本最大の海賊”の本拠地:芸予諸島—よみがえる村上海賊“MurakamiKAIZOKU”の記憶—
- (37)日本磁器のふるさと肥前～百花繚乱のやきもの散歩～
- (38)江差の五月は江戸にもない—ニシンの繁栄が息づく町—
- (39)荒波を越えた男たちの夢が紡いだ異空間～北前船寄港地・船主集落～
- (40)サムライゆかりのシルク日本近代化の原風景に会うまち鶴岡へ
- (41)和装文化の足元を支え続ける足袋蔵のまち行田
- (42)忍びの里伊賀・甲賀—リアル忍者を求めて—
- (43)300 年を紡ぐ絹が織り成す丹後ちりめん回廊
- (44)1400 年に渡る悠久の歴史を伝える「最古の国道」～竹内街道・横大路(大道)～
- (45)播但貫く、銀の馬車道鉱石の道～資源大国日本の記憶をたどる 73km の轍～
- (46)絶景の宝庫和歌の浦
- (47)「最初の一滴」醤油醸造の発祥の地紀州湯浅
- (48)日が沈む聖地出雲～神が創り出した地の夕日を巡る～

- (49) 一輪の綿花から始まる倉敷物語～和と洋が織りなす繊維のまち～
 (50) **きっと恋する六古窯—日本生まれ日本育ちのやきもの産地—(2017)**
 (51) 森林鉄道から日本一のゆずロードへ—ゆずが香り彩る南国土佐・中芸地域の景観と食文化—
 (52) 関門“ノスタルジック”海峡～時の停車場, 近代化の記憶～
 (53) 米作り, 二千年にわたる大地の記憶～菊池川流域「今昔『水稻』物語」～
 (54) やばけい遊覧～大地に描いた山水絵巻の道をゆく
 (55) **カムイと共に生きる上川アイヌ～大雪山のふところに伝承される神々の世界～**
 (56) 山寺が支えた紅花文化
 (57) 地下迷宮の秘密を探る旅～大谷石文化が息づくまち宇都宮～
 (58) 明治貴族が描いた未来～那須野が原開拓浪漫譚～
 (59) 宮大工の鑿一丁から生まれた木彫刻美術館・井波
 (60) 葡萄畑が織りなす風景—山梨県峡東地域—
 (61) 星降る中部高地の縄文世界—数千年を遡る黒曜石鉱山と縄文人に出会う旅—
 (62) **旅人たちの足跡残る悠久の石畳道—箱根八里で辿る遥かな江戸の旅路**
 (63) 「百世の安堵」～津波と復興の記憶が生きる広川の防災遺産～
 (64) 「桃太郎伝説」の生まれたまちおかやま～古代吉備の遺産が誘う鬼退治の物語～
 (65) 瀬戸の夕凧が包む国内随一の近世港町～セピア色の港町に日常が溶け込む鞆の浦～
 (66) 鬼が仏になった里「くにさき」
 (67) **古代人のモニュメント—台地に絵を描く南国宮崎の古墳景観—**

ラグビーワールドカップ

● 出題実績

- 2019年度: 大問10(1)「ラグビーワールドカップ2019の開催都市」
 2021年度: 大問3(3)「ラグビーワールドカップ2019の観戦者と非観戦者の旅行支出比較」

● 2019年度: 大問10(1)

日本は2019年にはラグビーワールドカップ2019日本大会、2020年には東京オリンピック・パラリンピック競技大会、2021年にはワールドマスターズゲームズ2021関西が開催されるなど世界的なスポーツイベントが目白押しで、ゴールデン・スポーツイヤーズとも称されている。

スポーツに関する次の問に対して、答えなさい。

(1) ラグビーワールドカップは参加20チームが、9月20日～11月2日と長期にわたって争うが、開催都市は(ア)等、12都市に及ぶ。空欄()に当てはまる開催都市の組み合わせのうち正しいものはどれか。次の1～4から一つ選びなさい。(3点)

- 1 新潟市・気仙沼市
- 2 東大阪市・釜石市(正解)
- 3 盛岡市・京都市
- 4 陸前高田市・名古屋市

● 2022年度の出題予想

2018年にFIFAワールドカップが、2019年、2021年にラグビーワールドカップが出題されているところを見ると、出題者は、意識的にスポーツの大会である〇〇カップを出題したように思える。

2021年度は、**卓球、バスケットボール、ゴルフ**などが注意である。

[ワールドカップ\(卓球\)](#)

[FIBAバスケットボール・ワールドカップ](#)

[マスターズ・トーナメント\(ゴルフ\)](#)

FIFAワールドカップ

●出題実績

2018 年度:大問 6(2)「2018 年のロシア大会で、日本代表がコロンビア代表に勝利した」

●[FIFAワールドカップ](#)とは

[FIFAワールドカップ](#)(FIFA World Cup)は、国際サッカー連盟(FIFA)が主催する、男子ナショナルチームによるサッカーの世界選手権大会。サッカーの大会の世界最高峰と位置付けられ、全世界のテレビ視聴者数や経済効果はオリンピックを凌ぐ世界最大のスポーツイベント。

●開催年・参加できる主体

4年に1回、西暦の4で割って2余る年(夏季五輪の中間年、1994年以後は冬季五輪と同年)に開催される。第1回大会は1930年、ウルグアイで開催された。参加できる主体は、国またはそれに準ずる地域であり、より厳密にはFIFAに加盟したサッカー協会を単位とする。

大相撲

●出題実績

2013 年度:大問 9(問 1)「2013 年 2 月に国民栄誉賞を授与された元力士」

2013 年度:大問 9(問 2)「大相撲に関する問題」

2017 年度:大問 2(16)「戦後の外国人力士の出身国に関する問題」

2018 年度:大問 6(3)「横綱土俵入りには、「雲竜型」と「不知火型」の 2 つの型がある」

●[大相撲](#)とは

公益財団法人日本相撲協会が主催する大相撲は、世界中で行われる相撲興行の中で、最も有名かつ権威のある競技興行である。東京での開催場所は国技館である。土俵に立つものおよび出場できるものは男性に限られる。

交通系ICカード全国相互利用サービス

●出題実績

2018 年度:大問 4(1)「JR各社とICカードの組合せの問題」(JR九州=SUGOCA)

●[交通系ICカード全国相互利用サービス](#)は、日本の乗車カードのうち、非接触型ICカード方式を採用している電子マネー機能付き乗車カード(以下、「交通系 IC カード」と記す)のうち以下の 11 団体が発行する 10 種類のカードについて、乗車カード機能及び電子マネー機能を(一部例外を除き)相互に利用可能としているサービス。

2013 年 3 月 23 日から開始された。

2019 年 6 月 1 日現在、255 事業者で利用可能である。

- (1)北海道旅客鉄道(JR 北海道、[Kitaca](#))
- (2)東日本旅客鉄道(JR 東日本、[Suica](#))
- (3)東海旅客鉄道(JR 東海、[TOICA](#))
- (4)西日本旅客鉄道(JR 西日本、[ICOCA](#))
- (5)九州旅客鉄道(JR九州、[SUGOCA](#)) (2018)
- (6)パスモ([PASMO](#))
- (7)名古屋交通開発機構・エムアイシー([manaca](#))
- (8)スルッと KANSAI([PiTaPa](#))
- (9)福岡市交通局([はやかけん](#))
- (10)ニモカ([nimoca](#))

浮世絵

●出題実績

2013 年度:大問 9(問 5)「名所江戸百景」の作者は誰か。(歌川広重)

(問 6)「浮世絵を模写した有名な画家」(フィンセント・ファン・ゴッホ)

2018 年度:大問 7(5)「江戸時代の浮世絵師とその作品の組合せに関する問題」

●ヨーロッパの芸術に影響を与えた浮世絵

浮世絵はヨーロッパに渡り、フランスの印象派(フィンセント・ファン・ゴッホ、アンリ・リヴィエール、クロード・モネ、エドゥアール・マネ)の成立に大きな影響を与えました。その影響は絵画の分野に止まらず、葛飾北斎の大胆極まりない浪の情景に憧れて、ドビュッシーは『交響詩海』を完成させ、カミーユ・クロデルは『波』の彫刻を制作したと言われています。

菱川師宣「見返り美人」

東洲斎写楽「三代目大谷鬼次の江戸兵衛」

歌川広重「東海道五十三次」

葛飾北斎「富嶽三十六景、神奈川沖浪裏」

歌川国芳「相馬の古内裏に将門の姫君瀧夜叉妖術を以て味方を集むる大宅太郎光国(おおやのたろうみつくに)妖怪を試さんと爰(ここ)に來り竟(つい)に是を亡ぼす」



MICE

●出題実績

2012 年度:大問 3(5)「MICE」(国際会議、報奨旅行、イベント、展示会の総称)

2015 年度:大問 1(4)問 1:「グローバル MICE 戦略都市」 問 2:「ユニークベニュー」

2017 年度:大問 1(4)問 1:「MICE」のEの意味(エキシビション)

2021 年度:大問 6 問 6:「MICE」の機会にプレジャーを促進することの重要性

●グローバルMICE都市

国際的なMICE誘致競争が激化する中、海外競合国・都市との厳しい誘致競争に打ち勝ち、我が国のMICE誘致競争を牽引することができる実力ある都市を育成するため、2013年(平成25年)6月に「グローバルMICE都市」を7都市選定し、MICE誘致力向上のための支援事業を実施してきました。

2015年(平成27年)6月には、「グローバルMICE強化都市」としてさらに5都市を選定し、国として支援を行うとともに、各地域の関係者の連携を強化し、都市の自律的な取組を促してまいりました。

現在は、これら12都市を統一的に「グローバルMICE都市」と呼称しています。

グローバルMICE都市(12都市)※2020年7月時点

札幌市、仙台市、東京都、千葉県千葉市、横浜市、愛知県名古屋市、大阪府大阪市、神戸市、京都市、広島市、福岡市、北九州市

●出題実績

2010 年度:大問 6(問 1)「フィルム・コミッションに関する問題」

(問 2)「IRIS(アイリス)」「狙った恋の落とし方」の撮影された都道府県

2011 年度:大問 11(1)「ノルウェイの森」のロケ地(峯山高原リラクシ)は何県か?(兵庫県)

2012 年度:大問 6(1)2011 年に公開された映画(邦画)の中で、興行収入がもっとも多かった作品。
「コクリコ坂から」

2016 年度:大問 1(2)「フィルム・コミッションに関する問題」

2017 年度:大問 7(1)「君の名は。」に関する問題

2018 年度:大問 7(4)「映画・ドラマ・アニメの聖地に関する問題」

●フィルム・コミッション

フィルム・コミッション(Film Commission)は、映画等の撮影場所誘致や撮影支援をする機関である。地方公共団体(都道府県・市町村)か、観光協会の一部署が事務局を担当していることが多い。映画撮影などを誘致することによって地域活性化、文化振興、観光振興を図るのが狙いとされるため、地方公共団体が担当している場合、その部署はそのいずれかの関連部署になっているようである(ごくまれだが、フィルム・コミッションそのものの担当部署を設けているところもある)。

また最近では、フィルム・コミッションとは名乗らないものの、民間企業においても同様のサービスを行う部署を設置するケースがある(JR西日本、本州四国連絡高速道路、等)。

日本では、フィルム・コミッションの連絡機関として特定非営利活動法人ジャパン・フィルムコミッション(旧・全国フィルム・コミッション連絡協議会)が存在する。

民泊

●出題実績

2012 年度:大問 3(5)「MICE」(国際会議、報奨旅行、イベント、展示会の総称)

2015 年度:大問 1(4)問 1:「グローバル MICE 戦略都市」

問 2:「ユニークベニュー」

2017 年度:大問 6(3)問 1:「年間の営業日数の上限」(180 日)

問 2:「国家戦略特別区域」に関する問題

問 3:「住宅宿泊事業者が、定める様式の標識を掲げる義務」

住宅宿泊事業法(民泊新法)とは？

住宅宿泊事業法は、急速に増加するいわゆる民泊について、安全面・衛生面の確保がなされていないこと、騒音やゴミ出しなどによる近隣トラブルが社会問題となっていること、観光旅客の宿泊ニーズが多様化していることなどに対応するため、一定のルールを定め、健全な民泊サービスの普及を図るものとして、新たに制定された法律で、平成29年6月に成立しました。

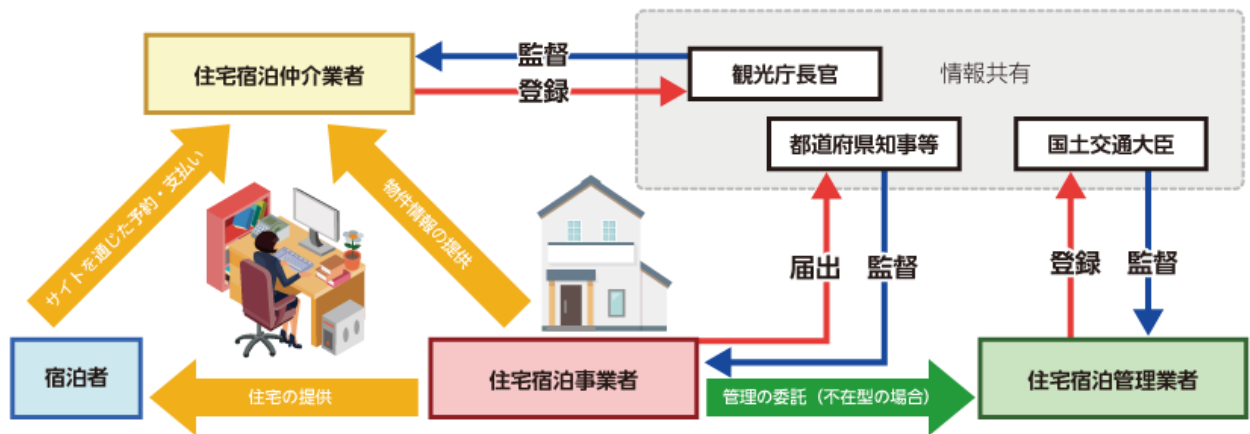
民泊新法の対象は3種類の事業者

民泊新法では、制度の一体的かつ円滑な執行を確保するため、「住宅宿泊事業者」「住宅宿泊管理業者」「住宅宿泊仲介業者」という3つのプレイヤーが位置付けられており、それぞれに対して役割や義務等が決められています。

・「住宅宿泊事業者」⇒住宅宿泊事業法第3条第1項の届出をして、住宅宿泊事業を営む者

・「住宅宿泊管理業者」⇒住宅宿泊事業法第22条第1項の登録を受けて、住宅宿泊管理業を営む者

・「住宅宿泊仲介業者」⇒住宅宿泊事業法第46条第1項の登録を受けて、住宅宿泊仲介業を営む者



各事業者に係る制度の概要

1. 住宅宿泊事業者に係る制度の創設

[1] 住宅宿泊事業を行おうとする者は、**都道府県知事等**への**届出**が必要

年間提供日数の上限は**180日(泊)**とし、地域の実情を反映する仕組みの創設

[2] 家主居住型の場合は、住宅宿泊事業者に対し、住宅宿泊事業の適正な遂行のための措置を義務付け

[3] 家主不在型の場合は、住宅宿泊事業者に対し、上記措置(標識の掲示は除く)を住宅宿泊管理業者に委託することを義務付け

[4] **都道府県知事等**は、住宅宿泊事業者に係る**監督**を実施

2. 住宅宿泊管理業者に係る制度の創設

[1] 住宅宿泊管理業を営もうとする者は、**国土交通大臣**の**登録**が必要

[2] 住宅宿泊管理業者に対し、住宅宿泊事業の適正な遂行のための措置の代行と住宅宿泊管理業の適正な遂行のための措置を義務付け

[3] 国土交通大臣は、住宅宿泊管理業者に係る**監督**を実施

[4] **都道府県知事等**は、住宅宿泊管理業者が代行する「住宅宿泊事業の適正な遂行のための措置」に係る**監督**を実施

3. 住宅宿泊仲介業者に係る制度の創設

[1] 住宅宿泊仲介業を営もうとする者は**観光庁長官**の**登録**が必要

[2] 住宅宿泊仲介業者に対し、住宅宿泊仲介業の適正な遂行のための措置(宿泊者への契約内容の説明等)を義務付け

[3] **観光庁長官**は、住宅宿泊仲介業者に係る**監督**を実施

特区民泊について

国家戦略特別区域法に基づく旅館業法の特例、いわゆる「**特区民泊**(国家戦略特別区域外国人滞在施設経営事業)」とは、外国人旅客の滞在に適した施設を賃貸借契約及びこれに付随する契約に基づき一定期間以上使用させるとともに、当該施設の使用に関する外国語を用いた案内その他の外国人旅客の滞りに必要な役務を提供する事業として政令で定める要件に該当する事業とされています。

東京都大田区をはじめとして、**大阪府**や大阪市など国家戦略特区の区域として指定された地域で取り組まれています。

2017年度[大問9]に歌舞伎の舞台について出題されましたが、**2022年度は、能舞台に注意！**

●能舞台の特徴

能舞台は、観客席(見所)と舞台の間に緞帳も幕もなく、極度に簡略化された空間です。もともと、能舞台は野外にありました。能楽堂に収められた現在も、舞台に屋根がついていたり、欄干のある渡り廊下が伸びたり、松ノ木が立っていたり、というのは、野外の能の舞台を再現するためであり、さまざまな工夫がなされています。

たとえば、橋掛かりに植えられている一ノ松から三ノ松は、手前から次第に小ぶりになります。これは遠近法を用いた工夫です。照明も自然光と同様の状態を作り出すため控えめになっています。

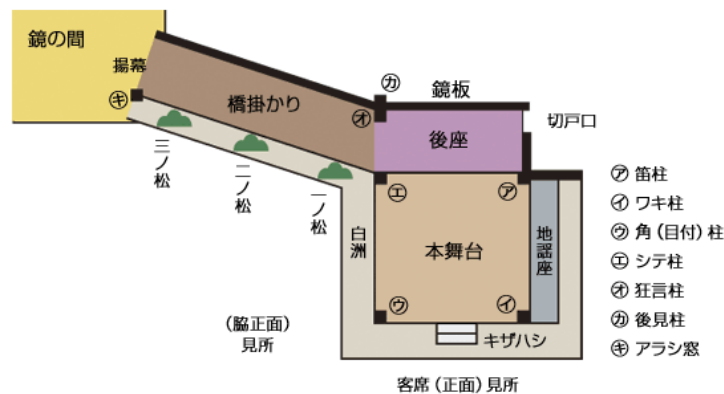
そして、音響上の工夫も成されています。能舞台の床下や橋掛かりの下に、大きな甕(かめ)を据える場合があります。これは、適度な吸音効果をもたらし、足で踏む拍子の響きをよくなるばかりではなく、笛や太鼓といった囃子の音、謡の声にも影響するといわれています。



●能舞台のつくり

能舞台は檜で作られています。舞台中央の後方に「鏡板」。舞台前方に「階(きざはし)」。向かって左に「橋掛かり」、その奥に幕があります。この形式が確立したのは、織田信長の活躍した時代より少し前だろうと推測されています。現在の構造になった最古のものは、秀吉が作らせたという西本願寺の北能舞台です。

能舞台は、本舞台、橋掛かり、後座、地謡座からなっています。本舞台は三間(5.4メートル)四方の正方形で、その中で演者の舞が行われます。



●能を語源とする語句

「板につく」能役者が舞台の上を吸い付くような足もとで歩くことから転じて、職業・任務などがその人にぴったり合うという意味。

「檜舞台を踏む」歌舞伎役者が、あこがれの能舞台を踏んだらどんなに嬉しいだろうと思う気持ちからでたらしい。転じて、自分の腕前を披露する晴れの機会を得るという意味。

●基本データ(頻出！)

- ・日本の人口: 1億 2,414 万人(2024 年 1 月)(2021 関連問題出題)
- ・合計特殊出生率: 1.20(2023 年)(2010 出題)
- ・65 歳以上の高齢者人口は、3,623 万人(2023 年 9 月 18 日)(2010 出題)
- ・労働力人口(全就業者数)(総務省発表): 6,750 万人(2024 年 6 月)
- ・完全失業者数(総務省発表): 193 万人(2024 年 6 月)
- ・完全失業率: 2.6%(2024 年 6 月)
- ・雇用者に占める非正規の職員・従業員の人数(比率): 2,124 万人(37.1%)(2023 年平均)(2010 出題)
- ・実質国内総生産: 558 兆円(2023 年度)
- ・実質経済成長率(実質): 5.3%(2023 年度)
- ・2024 年度予算の一般会計総額: 112 兆 717 億円
- ・日本の貿易相手国(輸出)(2021 年): 1 位: 中国、2 位: 米国、3 位: 台湾、4 位: 韓国、5 位: 香港(2012 出題)
- ・日本の貿易相手国(輸入)(2021 年): 1 位: 中国、2 位: 米国、3 位: オーストラリア、4 位: 台湾、5 位: 韓国(2012 出題)
- ・個人金融資産残高: 2,141 兆円(対前年 5.1%増)(2023 年 12 月末)
- ・有効求人倍率: 1.29 倍(2023 年平均)
- ・総合食料自給率(カロリーベース): 37%(2022 年)
- ・国の借金(普通国債残高)(過去最高の 1,297 兆円)(2024 年 4 月末)

●ジャパン・レール・パス(Japan Rail Pass)(2016 出題)

ジャパン・レール・パスは、外国から日本を観光目的で訪れる人のみが購入できる特別企画乗車券である。購入にあたっては、次にあげる資格を満たしていることが必要である。

・外国から「短期滞在」の入国資格により観光目的で日本を訪れる外国人旅行者

日本の入国管理法が定める「短期滞在」の在留資格により、観光等の目的で 15 日間もしくは 90 日間の滞在が許されます。日本への入国にあたり観光目的の滞在を希望すると、入国審査官はあなたのパスポートに下記の「短期滞在」のスタンプ/シールを押します。

※ジャパン・レール・パスは、パスポートにこのスタンプ/シールを受けた方だけが引換・利用することができる。詳しくは、[こちら](#)をご覧ください。

●国際連合

- ・国際連合の成立: 1945 年 10 月 24 日
- ・国際連合本部所在地: アメリカ・ニューヨーク
- ・原加盟国: 51 カ国
- ・現在の加盟国数: 193 カ国(2024 年 6 月現在)
- ・現在の国連事務総長: アントニオ・グテーレス氏(ポルトガル)(2017 年 1 月～)
- ・国連事務総長の任期: 5 年(2 期 10 年務めるのが慣例となっている)
- ・国際司法裁判所の所在地: オランダ・ハーグ
- ・安全保障理事会の構成: 常任理事国(米・英・仏・中・露)と非常任理事国(任期 2 年/10 カ国)の計 15 カ国

●EU(欧州連合)(2014 年度出題)

- ・現在の加盟国数: 27 カ国(2024 年 6 月現在)
- ・EU 本部所在地: ベルギー・ブリュッセル
- ・EU に関する条約(発効年): マーストリヒト条約(1993)⇒アムステルダム条約(1999)⇒ニース条約(2003)
- ・2007 年に加盟した国: ルーマニア/ブルガリア
- ・2013 年に加盟した国: クロアチア(2014)
- ・加盟候補国: トルコ/マケドニア

●ASEAN(東南アジア諸国連合)(2014 年度出題)

- ・ASEAN 加盟国: インドネシア/フィリピン/マレーシア/タイ/シンガポール/ブルネイ/ベトナム/ミャンマー/ラオス/カンボジアの 10 カ国 ※本部=インドネシア・ジャカルタ(←2014 年度出題)
- ・ASEAN+3: 1997 年のアジア通貨危機以後、ASEAN 首脳・財相・外相会議に日本・中国・韓国が参加。
- ・東アジア共同体(EAC)構想: ASEAN+3 にインド・オーストラリア・ニュージーランドを加えた 16 カ国で 2007 年 1 月フィリピン・セブにおいて第 2 回東アジア首脳会議が行われた。

●国内政治(2016 年度出題)

【国会】

- ・衆議院議員の定数: 465 人・・・小選挙区 289 名/比例代表 176 名(←2016 年度出題)
- ・参議院議員の定数: 248 人・・・選挙区 148 名(45 区)/比例代表 100 名(1 区)(←2016 年度出題)
- ・衆議院議員の任期: 4 年(ただし、解散の場合には、その期間満了前に終了)
- ・参議院議員の任期: 6 年(3 年ごとに議員の半数改選)
- ・選挙人資格: 衆議院・参議院選挙ともに満 18 歳以上の日本国民
- ・衆議院議員の被選挙権: 満 25 歳以上の日本国民(←2016 年度出題)
- ・参議院議員の被選挙権: 満 30 歳以上の日本国民
- ・衆議院議員選挙制度: 小選挙区比例代表並立制★小選挙区では 1 選挙区から 1 名選出
- ・参議院議員選挙制度: 選挙区制・非拘束名簿式比例代表制★選挙区は都道府県単位/比例代表は全国単位
- ・通常国会(常会): 毎年 1 回、1 月中に召集される。会期は 150 日。
- ・臨時国会(臨時会): 臨時の必要に応じて開かれる。会期は両院一致の議決による。
- ・特別国会(特別会): 総選挙後 30 日以内に内閣総理大臣を指名するために開かれる。
(※衆議院が解散されたときは、解散の日から 40 日以内に衆議院議員の総選挙を行わねばならない)。

●憲法と自衛隊関連

- ・日本国憲法公布: 1946(昭和 21)年 11 月 3 日・日本国憲法施行: 1947(昭和 22)年 5 月 3 日
- ・日本国憲法の三大原理: ①国民主権②基本的人権の尊重③平和主義
- ・自衛隊の発足: 1954 年
- ・国連平和維持活動等(PKO)協力法成立: 1992 年

●国立公園(2016 年度出題)

国立公園とは、自然公園法に基づき、日本を代表する自然の風景地を保護し利用の促進を図る目的で、環境大臣が指定する自然公園のひとつである。2024 年 7 月現在、34 の国立公園が存在する。最も新しいものは 2017 年 3 月 7 日に指定された、奄美群島国立公園である。

- (1)阿寒摩周国立公園(1934 年 12 月 4 日指定)
- (2)大雪山国立公園(1934 年 12 月 4 日指定)
- (3)支笏洞爺国立公園(1949 年 5 月 16 日指定)
- (4)知床国立公園(1964 年 6 月 1 日指定)
- (5)利尻礼文サロベツ国立公園(1974 年 9 月 20 日指定・利尻礼文国定公園から昇格)
- (6)釧路湿原国立公園(1987 年 7 月 31 日指定)
- (7)十和田八幡平国立公園(十和田国立公園として 1936 年 2 月 1 日指定)
- (8)磐梯朝日国立公園(1950 年 9 月 5 日指定)
- (9)三陸復興国立公園(2013 年 5 月 24 日指定)
- (10)日光国立公園(1934 年 12 月 4 日指定)
- (11)富士箱根伊豆国立公園(富士箱根国立公園として 1936 年 2 月 1 日指定)
- (12)秩父多摩甲斐国立公園(秩父多摩国立公園として 1950 年 12 月 4 日指定)
- (13)南アルプス国立公園(1964 年 6 月 1 日指定)
- (14)小笠原国立公園(1972 年 10 月 16 日指定)
- (15)尾瀬国立公園(2007 年 8 月 30 日指定・日光国立公園から尾瀬地域を分離)

- (16)中部山岳国立公園(1934年12月4日指定)
- (17)伊勢志摩国立公園(1946年11月20日指定)
- (18)上信越高原国立公園(1949年9月7日指定)
- (19)妙高戸隠連山国立公園(2015年3月27日指定)
- (20)白山国立公園(1962年11月12日指定・白山国定公園から昇格)
- (21)吉野熊野国立公園(1936年2月1日指定)
- (22)山陰海岸国立公園(1963年7月15日指定・山陰海岸国定公園から昇格)
- (23)瀬戸内海国立公園(1934年3月16日指定)
- (24)大山隠岐国立公園(大山国立公園として1936年2月1日指定)
- (25)足摺宇和海国立公園(1972年11月10日指定・足摺国定公園から昇格)
- (26)雲仙天草国立公園(雲仙国立公園として1934年3月16日指定)
- (27)霧島錦江湾国立公園(霧島国立公園として1934年3月16日指定・その後「霧島屋久国立公園」となり2012年3月16日に屋久島国立公園の分離等を行い名称及び区域変更)
- (28)阿蘇くじゅう国立公園(阿蘇国立公園として1934年12月4日指定)
- (29)西海国立公園(1955年3月16日指定)
- (30)西表石垣国立公園(西表国立公園として1972年5月15日指定・西表政府立公園を移管)
- (31)屋久島国立公園(2012年3月16日指定・霧島屋久国立公園から屋久島地域を分離)
- (32)慶良間諸島国立公園(2014年3月5日指定)
- (33)やんばる国立公園(2016年9月15日指定)
- (34)奄美群島国立公園(2017年3月7日指定)

●世界遺産地域を含む国立公園(7)

- ・自然遺産(3): 知床国立公園、屋久島国立公園、小笠原国立公園
- ・文化遺産(4): 日光国立公園(日光の社寺)、富士箱根伊豆国立公園(富士山)、吉野熊野国立公園(紀伊山地の霊場と参詣道)、瀬戸内海国立公園(厳島神社)

●特に重要な<国立公園13>(過去3回以上出題されたもの)

- ・日光国立公園: 男体山[二荒山]／中禅寺湖／華厳滝／東照宮／二荒山神社
- ・支笏洞爺国立公園: 支笏湖／洞爺湖／倶多楽湖／羊蹄山／昭和新山／登別温泉／定山溪温泉
- ・中部山岳国立公園: 北アルプス[飛騨山脈]／立山連峰／上高地／黒部峡谷／宇奈月温泉
- ・大山隠岐国立公園: 大山[伯耆富士]／蒜山／ジャージー牛／三瓶山／隠岐諸島／島根半島
- ・瀬戸内海国立公園: 六甲山／淡路島／宮島／厳島神社／芸予諸島／小豆島寒霞溪／屋島／鳴門海峡／関門海峡／国東半島／両子山／高崎山／ニホンザル
- ・磐梯朝日国立公園: 出羽三山／朝日岳／飯豊山／吾妻山／磐梯山／猪苗代湖／檜原湖
- ・吉野熊野国立公園: 瀨峡[瀨八丁]／大台ヶ原山／大峰山／吉野山／潮岬／那智滝／熊野川
- ・阿寒摩周国立公園: 屈斜路湖／川湯温泉／摩周湖／霧／高い透明度／阿寒湖／特別天然記念物マリモ
- ・釧路湿原国立公園: 日本最大の湿原／特別天然記念物タンチョウ
- ・三陸復興国立公園: 隆起海岸／断崖／海食景観／わが国を代表するリアス式海岸
- ・阿蘇くじゅう国立公園: 阿蘇山／世界最大級のカルデラ／九重山／久住高原／鶴見岳／由布院温泉
- ・大雪山国立公園: 大雪山／層雲峡
- ・足摺宇和海国立公園: 足摺岬／竜串海岸
- ・詳しくは、[こちら](#)をご覧ください。

近年では、2014年と2016年に日本国憲法に関する問題が出題されている。
両年に、**憲法改正の手続き**について出題されていることに注意。

●2014年に出題された問題に関連する事項

- ・日本国憲法の三大原則は、(国民主権)、(平和主義)、(基本的人権の尊重)である。
- ・天皇は、日本国および日本国民統合の(象徴)であり(国事行為)を行う。すべての国事行為には、(内閣)の助言と承認を必要とし、(内閣)が責任を負う。
- ・第9条の3つの規範的要素は、(戦争の放棄)、(戦力の不保持)、(交戦権の否認)である。
- ・日本国憲法では、立法権は(国会)、行政権は(内閣)、司法権は(裁判所)に分けた三権分立があるが、(国会)が国権の最高機関としている。
- ・憲法が保障する社会権として、(健康で文化的な最低限度の生活を営む権利)、(教育を受ける権利)、(勤労の権利)、(労働三権)がある。
- ・憲法改正は第96条に定められており、国会の発議には衆参両議院の議員の(3分の2以上)の賛成が必要である。周知期間を経た国民投票では(過半数)の賛成で承認となる。
- ・憲法が保障する自由権には、(精神的)自由権、(経済的)自由権、(身体的)自由権がある。
- ・身体的自由権では、下記が保障されている。
奴隷的な拘束を受けたり、犯罪処罰を除いて苦しい労働を強制されたりしない。
法律に基づかなければ、生命や自由を奪われない。
現行犯を除き、逮捕には(裁判官)が発行する令状が必要である。
拷問・残虐な刑罰が禁止されている。
自己に不利益な供述はしなくてよい。

●2014年、2016年に出題された問題

- ・憲法改正は、各議院の総議員の(3分の2以上)の賛成で、国会が発議し、国民に提案してその承認を経なければならない。この承認には、特別の国民投票又は国会の定める選挙の際行われる投票において、その(過半数)の賛成を必要とする。

●予想問題

- ・天皇の皇位の世襲とその継承は国会の議決した(皇室典範)の定めるところによると規定されている。
- ・天皇は、国会の指名に基づく(内閣総理大臣)の任命、(内閣)の指名に基づく(最高裁判所)の長の任命を行う。
- ・第9条には、「日本国民は、正義と秩序を基調とする(国際平和)を誠実に希求し」と明記されている。
- ・日本国憲法で定められた国民の三大義務は、(義務教育を受けさせる義務)、(勤労の義務)、(納税の義務)である。
- ・健康で文化的な最低限度の生活を営む権利を(生存権)と呼ぶ。
- ・国民の権利として、集会、結社及び言論、出版などの(表現)の自由を保障している。
- ・信教の自由を保障しているが、国家の宗教的活動は禁止している。この原則を(政教分離)という。
- ・労働者は、(団結権)、(団体交渉権)、(団体行動権)の(労働三権)を保障されている。
- ・「憲法改正の国民投票」「地方特別法の住民投票」「最高裁判所裁判官の国民審査」については、(直接民主制)を採用している。
- ・何人も「公共の福祉」に反しない限り、「居住」、「移転」及び(職業選択の自由)を有する。
- ・国民が広く政治に参加する権利である(参政権)の中心は、「選挙権」と「被選挙権」の2つである。
- ・日本国憲法の理念にのっとり、雇用の機会についての女性差別をなくすため、1986年4月に(男女雇用機会均等法)が施行された。
- ・日本国憲法は、人が生まれながらにもっている(自然権)は「侵すことのできない権利」として保障している。
- ・裁判所は、法律などが憲法に違反していないかどうかを審査し、違反している場合はそれを無効にする(違憲立法審査権)を持っている。

- ・第 67 条では、内閣総理大臣は(国会議員)の中から国会の議決で、これを指名するとある。
- ・衆議院が解散されたときは、解散の日から(40 日)以内に衆議院議員の総選挙を行うように規定されている。
- ・(最高裁判所)は、法律、命令、規則、処分が憲法に適合するかどうかを決定する終審裁判所である。
- ・第 50 条には、国会議員の(不逮捕権)が定められており、議員は国会の会期中は逮捕されない。
- ・日本国憲法は、(1946 年 11 月 3 日)に公布され、(1947 年 5 月 3 日)に施行された。
- ・日本国憲法が公布された時の内閣総理大臣は(吉田茂)である。

予想問題(選挙制度)

近年では、2013 年、2014 年、2016 年に**選挙制度に関する問題**が出題されている。

- ・現在、選挙区によって「有権者」と「議員数」の比率に格差のあることが問題となっている。これを一般に(1 票の格差)という。(←2013 年度出題)
- ・日本の衆議院比例代表制でが、あらかじめ順位をつけた名簿を公表し、有権者の「政党名」による投票だけを有効にする。この方法を(拘束名簿)方式という。(←2013 年度出題)
- ・参議院選挙は都道府県単位の選挙区から 2~10 名を選ぶ「選挙区選挙」と、全国を 1 選挙区とした(非拘束名簿式比例代表制)の 2 つを採用している。(←2013 年度出題)
- ・現在の衆議院議員選挙制度は「小選挙区」と、政党ごとの得票数に応じた議席を振り分ける「比例代表制」を合わせた(小選挙区比例代表並立)制である。(←2013 年度出題)
- ・国政選挙では 2013 年 7 月の参議院選挙より、選挙の公示・告示日から選挙前日までの選挙運動において、(インターネット)等を利用できるようになった。(←2014 年度出題)
- ・衆議院議員の定数は、小選挙区(289 名)、比例代表(176 名)の合計(465 人)である。(←2016 年度出題)
- ・参議院議員の定数は、選挙区(148 名)(45 区)、比例代表(100 名)(1 区)の合計(248 人)である。(←2016 年度出題)
- ・衆議院議員の任期は(4 年)である。(ただし、解散の場合には、その期間満了前に終了)(←2016 年度出題)
- ・参議院議員の任期は(6 年)である。(3 年ごとに議員の半数改選)(←2016 年度出題)
- ・衆議院解散による総選挙は、解散の日から(40 日)以内に行われる。(←2016 年度出題)
- ・現在の日本では、(満 18 歳)以上のすべての男女に選挙権が与えられている。(←2016 年度出題)
- ・選挙の方法や議員定数など具体的な選挙の仕組みは(公職選挙法)という法律に定められている。
- ・衆議院比例区の投票で、各党の得票数を名簿登載者まで整数で割り、その値の大きい順に議席を配分する方法を(ドント式)という。
- ・投票日に選挙に行けない人のために、投票日前に投票箱へ直接投票できる制度を(期日前投票)制度という。
- ・選挙における違法な資金集めや買収、政治の腐敗を防ぐために作られた法律が(政治資金規正法)である。
- ・候補者本人でなく選挙運動の責任者などが違反になった場合、候補者の当選が無効になる制度を(連座制)という。
- ・日本では、4 年に一度、多くの地方公共団体の首長や議会議員が、全国で同日に実施される(統一地方選挙)で選出される。
- ・ニュースの開票速報などでは、投票した人に直接投票行動を尋ねる(出口)調査に基づいて当選者や得票数を推定する。
- ・議会で多数派となった政党が政権を獲得して運営し、公約として掲げた政策を実行に移す。これを(政党)政治という。
- ・「政党助成法」改正以来、政党の健全な発達を促すために、国民 1 人あたり年間 250 円を負担する(政党交付金)が毎年交付されている。
- ・政党が選挙にあたって出す政策方針を(マニフェスト(政権公約))といい、達成目標が期限や財源と合わせて数値で示されている。
- ・国会で多数の議席を占めた政党は(与党)として内閣を組織して政権を担当し、少数党は(野党)として内閣の政策を批判する。

●裁判

- ・裁判において、合計3回までの審理を受けることができる制度を(三審制)という。
- ・三審制において、第一審の判決に不服で第二審の裁判を求めることを(控訴)という。
- ・三審制において、第二審の判決に不服で第三審の裁判を求めることを(上告)という。
- ・2009年から国民が司法に参加する制度を(裁判員)制度という。
- ・高等裁判所は、全国に(8)カ所ある。(札幌、仙台、東京、名古屋、大阪、広島、高松、福岡)
- ・有罪判決を受けた者が裁判のやり直しを求めることを(再審請求)という。
- ・書籍やCDの再販制度は、(独占禁止法)の例外規定である。
- ・少年法により、(14)歳未満の少年は刑事処分されない。
- ・最高裁判所の裁判官は(10)年ごとに国民の直接投票による国民審査を受けることになっている。

●内閣と行政

- ・行政の最高機関は(内閣)である。
- ・内閣の意思決定をするために、総理大臣と国務大臣が集まって行われる会議は(閣議)という。
- ・総理大臣、大臣、大臣政務官は国家公務員の(特別職)である。
- ・国務大臣を助けるために、各府省に一人だけ置く官僚のトップは(事務次官)である。
- ・テレビ放送、携帯電話、日本郵政グループの管轄省庁は(総務省)である。
- ・省庁再編で国土交通省に統合されたのは、建設省、運輸省、国土庁、(北海道開発庁)である。
- ・国および地方公共団体で普通の歳入歳出を管理するのは(一般会計)である。
- ・特定の歳入・歳出のために、一般会計とは経理を別にする(特別会計)がある。
- ・用途が公共事業などの社会資本に限られているのは(建設)国債である。
- ・国立大学や国立博物館など、以前は省庁下にあった組織は(独立行政法人)に改組された。
- ・特定の行政目的や公共目的のために、特別の法律によって設立されるのは(特殊法人)である。

●経済論、経済史

- ・(アダム・スミス)は、「国富論」の中で、個々人の経済活動を「神の見えざる手」と説明した。
- ・(マルサス)は、「人口論」の中で、食料を人口の関係について説明した。
- ・(ケインズ)は、「雇用、利子および貨幣の一般理論」を著し、近代経済学の理論体系を確立した。
- ・1929年の大恐慌後、F・D・ルーズベルト米国大統領は、(ニューディール政策)で大規模な公共事業を実施した。
- ・第二次世界大戦後の欧州復興計画を(マーシャルプラン)と呼ぶ。
- ・1944年に連合国44カ国が調印した国際通貨・金融に関する協定によって(ブレトン・ウッズ体制)ができた。
- ・1971年の金とドルの交換停止を(ニクソンショック)と呼び、変動相場制になった。
- ・1985年9月に開かれたG5において、ドル高是正の(プラザ合意)がなされた後、急激な円高が進行した。
- ・1987年10月にニューヨーク株式市場で起こった株価大暴落を(ブラックマンデー)という。
- ・1980年代に英国で起こった金融市場や証券市場をめぐる大改革を(ビッグバン)と呼ぶ。
- ・国際的な金融危機の引き金となった米国第4位の投資銀行であるリーマン・ブラザーズの経営破綻とその後の株価暴落などを(リーマンショック)と呼ぶ。
- ・リーマン・ブラザーズは、(サブプライムローン)問題などで経営がゆきづまり、2008年9月15日、米連邦破産法11条の適用を申請し破綻した。

●日本銀行

- (1)日本銀行の目的は、(物価の安定)と(金融システムの安定)である。
- (2)連邦準備制度理事会(FRB=Federal Reserve Board)と連邦公開市場委員会(FOMC= Federal Open Market Committee)の二つの法的使命(Dual Mandate)は、(物価の安定)と(雇用の最大化(完全雇用))である。
- (3)日本銀行の三大業務は、唯一の(発券)銀行、民間の市中銀行に貸付・預金を行う(銀行)の銀行、国庫金の取り扱いを行う(政府)の銀行である。
- (4)日銀総裁は、(国会の同意)を得て、(内閣)が任命するが、日銀は政府から(独立性)を保障されている。
- (5)日本銀行は、2013年4月の金融政策決定会合で、金融政策の指標を金利から(マネタリーベース(Monetary base)(資金供給量))に変更した。
- (6)マネタリーベースとは、(現金通貨(日本銀行券と補助貨幣))と民間金融機関の(法定準備預金(日銀当座預金))の合計のことである。
- (7)日本銀行が、金融市場で公債や有価証券を売買して市中の通貨量を調整する操作を(公開市場操作(オープン・マーケット・オペレーション))という。
- (8)公開市場操作として、景気過熱・インフレ対策には(売りオペレーション)、景気停滞・デフレ対策には(買いオペレーション)を行う。
- (9)(売りオペレーション)とは、日本銀行が保有する公債その他証券や手形類を一般市場(市中銀行)売却して通貨の回収を図る操作のこと。金利上昇の効果をもつことから、金融を引き締めるときに行う。
- (10)(買いオペレーション)とは、日本銀行が市場(市中銀行)から債券を買い入れて通貨の放出を図る操作のこと。金利引き下げの効果をもつため、金融を緩和するときに行う。
- (11)日本銀行は、2006年に金融機関に貸し出す際に適用される基準金利である(公定歩合)の名称を(基準割引率および基準貸付率)に変更した。

●財政

- (1)プライマリーバランス(Primary balance)
プライマリーバランスとは、国や地方自治体などの基礎的な(財政収支)のこと。一般会計において、歳入総額から(国債発行収入)を差し引いた金額と、歳出総額から(国債費)を差し引いた金額のバランスをいう。プライマリーバランスが釣り合っているとは、国債の元本償還や利払いに要する費用を除くすべての歳出について、税金など国債発行に頼らない収入によって賄えることを意味する。現在、日本のプライマリーバランスは、大幅な(赤字の状態)にある。すなわち、国債の発行を通して、現在の負担を将来の世代に先送りしている。予算の配分による現役世代の受益は現役世代の負担で賄うべきだとする観点から、プライマリーバランスの(黒字化)が求められている。
- (2)予算には通常の歳入、歳出をまとめた(一般会計)、特定の事業を行うための(特別会計)、国の場合は特殊法人の予算である(政府関係機関予算)がある。
- (3)歳入の中心は(租税)であり、(国税)と(地方税)がある。
- (4)税は、所得税・法人税・道府県民税など納税者と負担者が一致する(直接税)、消費税など納税者と負担者一致しない(間接税)とに区別される。
- (5)所得税や法人税などは、高額所得者ほど税率が高い(累進課税)が行われる。
- (6)消費税は生活必需品にもかけられ、税率は一定なので、低所得者ほど負担が大きくなるため(逆累進税)といわれる。
- (7)国税の直接税には、(所得税)、(法人税)、(相続税)、(贈与税)がある。
- (8)消費税、酒税は(国税)の(間接税)である。
- (9)直接税と間接税の税金の割合を(直間比率)といい、国税・地方税トータルで見ると、直接税が(7割)、間接税が(3割)となっている。

●市場経済

- (1)資本主義は市場経済であり、市場には(商品市場)、(株式市場)、(外国為替市場)、(労働市場)などがある。
- (2)物価がある期間、持続的に上昇し、貨幣価値が下落していく現象を(インフレーション)という。
- (3)貨幣および信用供給の収縮によって、物価がある期間、持続的に下落していく現象を(デフレーション)という。
- (4)スタグフレーション(stagflation)とは、経済現象の一つであり、「stagnation(停滞)」と「inflation(インフレーション)」の合成語で、経済活動の(停滞(不況))と(物価の持続的な上昇)が併存する状態を指す。

●国民所得・経済成長

- (1)国民全体で1年間に生産された財やサービスの売上総額から、(中間生産物)の価格を引いた金額を(GDP(国民総生産))という。
- (2)一国の経済を、生産、分配、支出の局面から見て、それらは理論的に等しくなるという原則を(三面等価の原則)という。
- (3)約50年の周期をもつ景気変動の長期波動を(コンドラチェフ)の波といい、変動の原因は(技術革新)、市場の開拓などによる。
- (4)約10年の周期をもつ景気変動の中期波動を(ジュグラー)の波といい、これは、固定資本の更新など(設備投資)が原因のものである。
- (5)約40カ月の周期をもつ景気変動の短期波動を(キチン)の波といい、これは、在庫の調整など(在庫投資)が原因のものである。
- (6)(有効需要)とは、貨幣的支出の裏づけのある需要。金銭的な支出を伴った欲望として、単なる欲望とは区別される。「有効」という言葉は、貨幣支出(購買力)に基づいていることを示している。

●TPP(Trans Pacific Partnership)

TPPは、環太平洋地域の国々による経済の自由化を目的とした(多角的な経済連携協定(EPA))である。2016年2月4日に署名されたが、2016年の大統領選挙で当選したアメリカ合衆国大統領ドナルド・トランプが、就任直後に(TPP離脱)の大統領令に署名し、USTRが協定の寄託国であるニュージーランドに脱退を通知したため、当初の12ヶ国での協定発効の目処は立たなくなった。アメリカ合衆国の離脱後、米国以外の11ヶ国による協定発効に向けた協議が行われ、2017年11月に一部の規定の発効を停止して、参加11ヶ国により協定発効させることについて大筋合意が確認され、2018年3月8日にチリのサンティアゴで(11ヶ国)による署名式が行われた。参加11ヶ国による協定の名称は環太平洋パートナーシップに関する包括的及び先進的な協定(Comprehensive and Progressive Agreement for Trans-Pacific Partnership、略称:CPTPP)となった。参加11カ国約5億人の国内総生産合計は、世界経済の(13%)ほどを占める約(10兆米ドル)。中央日報やレコードチャイナ、ワシントンポストなどで、アメリカ合衆国の離脱後は、日本が主導したと報道している。

●アジアインフラ投資銀行(Asian Infrastructure Investment Bank, AIIB)

アジアインフラ投資銀行とは、アジア向けの国際開発金融機関である。(中華人民共和国)が2013年秋に提唱し主導する形で発足した。「合計の出資比率が50%以上となる10以上の国が国内手続きを終える」としていた設立協定が発効条件を満たし、(2015年12月25日)に発足し、(2016年1月16日)に開業式典を行った。(57カ国)を創設メンバーとして発足し、その後2017年3月23日にアジア開発銀行の(67カ国・地域)を上回る(70カ国・地域)となり、さらに85カ国から90カ国に拡大するとしているが、一方で(日本、アメリカ合衆国)などは2017年の現時点で参加を見送っている。創設時の資本金は、(1000億ドル)である。

以上

各問題に対する解答はマークシートの解答欄にマークすること。例えば と表示のある問題に対して④と解答する場合は、マークシート の解答欄の④にマークすること。

1. 訪日外国人による旅行消費額は、2010年代にかけて増加傾向を示し、2019年には4兆8,135億円となった。2019年の訪日外国人による旅行消費額について、これを費目別で見たときに、構成比として上位3つを占めるものを挙げると (ア) のようになる。

空欄 (ア) に当てはまる組み合わせとして、正しいものはどれか。次の①~④から一つ選びなさい。(2点)

- ① 買物代・宿泊費・飲食費
- ② 交通費・娯楽等サービス費・飲食費
- ③ 宿泊費・交通費・飲食費
- ④ 買物代・飲食費・娯楽等サービス費

2. 近年の訪日観光についての説明を読んで、問いに答えなさい。

- (1) 2019年の訪日外国人旅行者数は、過去最高となる3,188万人となった。国・地域別に見ると、中国が959万人(30.8%)と最も多く、次が(ア)で558万人(17.5%)、(イ)が3番目で489万人(15.3%)であった。これら3つの国・地域が訪日全体の63.6%を占めており、かねてからマーケットの偏りが指摘されている。

空欄(ア)と(イ)に当てはまる語句の組み合わせとして、正しいものはどれか。次の①~④から一つ選びなさい。(2点)

- ① (ア) 台湾、(イ) 韓国
- ② (ア) 韓国、(イ) 台湾
- ③ (ア) 香港、(イ) 韓国
- ④ (ア) 韓国、(イ) シンガポール

- (2) ビザの戦略的緩和や訪日外国人旅行者向け消費税免税制度の拡充、(ア) CIQ体制の充実といった改革を進めるとともに、交通ネットワークの充実、多言語表記をはじめとする受入環境整備、魅力的なコンテンツの造成、対外プロモーション等により、2019年までの訪日外国人旅行者は7年連続で過去最高を更新した。

下線部(ア)は何の略か。正しいものを次の①~④から一つ選びなさい。(3点)

- ① Customer (顧客)、Inspection (検査)、Quality (質) の総称
- ② Consumer (消費者)、Information (情報)、Quick (迅速) の総称
- ③ Customs (税関)、Immigration (出入国審査)、Quarantine (検疫) の総称
- ④ Customs (税関)、Information (情報)、Quality (質) の総称

3. 近年、観光分野でもデジタル・トランスフォーメーション (DX) の重要性が指摘されており、デジタルツールの導入による業務効率化や生産性の向上をはじめ、顧客データの収集・分析を介して新たなビジネスの構築にも資することが期待されている。海外でもホテルなど宿泊施設が自社のホームページを構築して直販サイトを利用することが進み、欧州各国のケースでは予約のおよそ半数を直販サイトが占めるとのデータもある。これに関連する記載として、正しいものはどれか。次の①~④から一つ選びなさい。(2点)

- ① 日本では、直販サイトの利用はホテル・旅館のいずれも 20% を下回る水準であり、デジタル化の遅れがみられる。
- ② 日本では、直販サイトの利用はホテルでは欧州並みであるものの、旅館では資金面や人手不足を理由に大きく立ち遅れている。
- ③ 日本では、IT を導入できる人材は豊富であるものの、コストの問題や個人情報保護の観点からデジタル化の遅れが生じている。
- ④ 日本では、もともとデジタル化の遅れが深刻化していたが、近年では IT 人材の育成が進み、欧州並みに近づいている。

4. 画期的なパリ協定が発効し、発展途上国も含めすべての国に義務として課しているのは何か。正しいものを次の①~④から一つ選びなさい。(3点)

- ① 人権尊重 ② 核の先制不使用 ③ 性差別禁止 ④ 温室効果ガス排出削減

5. 長野県や新潟県のスノーリゾート (妙高、白馬、志賀高原等) には、台湾やオーストラリアなどから多くの外国人観光客が冬季に訪れているものの、グリーンシーズンには観光客が少なく、国籍の偏りも課題となっていた。そこで、地域ならではの自然・文化・(ア) を存分に活かし、ガイド育成やモニターツアーを通して高付加価値化を図り、「パラグライダー体験」「藁細工体験」「トレッキング」など長期滞在・消費拡大につながる商品を生み出している。こうした(イ) は、日本の豊富な地域資源を活かせる意味でも重要であり、国内外からの観光客の消費増加や魅力度向上につながることを期待されている。

空欄 (ア) および (イ) に当てはまる語句として、正しいものはどれか。それぞれ次の①~④から一つ選びなさい。(各2点×2=4点)

ア: ① 社会資本 ② 商業施設 ③ コミュニティ ④ アクティビティ

イ: ① アドベンチャーリズム ② コンテンツリズム

③ エクスペリエンスリズム ④ イベントリズム

10. スーパーシティは、AIやビッグデータなど第四次産業革命による最先端技術の活用により、自動運転やキャッシュレス、遠隔医療や遠隔教育など、生活全般をスマート化し、社会のあり方を根本的に変えるような都市の実現を目指す動きであるといえる。このスーパーシティ構想の一環として、大阪府・大阪市が地域、事業者、国と一体となって「まるごと未来都市」の実現を目指して夢洲地区を舞台に開催を予定している大阪・関西万博では、様々な実証実験が計画されている。

下線部の正式名称として、正しいものはどれか。次の①～④から一つ選びなさい。 (3点)

- ① 2025年日本国際博覧会 ② 2025年関西国際博覧会
③ 2025年世界都市博覧会 ④ 2025年関西万国博覧会

13

11. 日本では20年ぶりの刷新となる新札の発行が2024年度上半期から始まる。新札の発行の最も重要な目的の一つが、偽札(偽造紙幣)防止である。今回の新札に取り入れられる偽札防止の技術の説明として、正しいものはどれか。次の①～④から一つ選びなさい。 (2点)

- ① 紙幣の厚みの違いで模様をつくる「すき入れ」をなくした。
② 金額表示は真似しにくい漢数字を洋数字より大きくした。
③ 肖像画が立体的に見えるホログラムを世界で初めて紙幣に導入した。
④ 不正使用を防ぐため、新紙幣の発行後は現行紙幣の使用をできなくした。

14

12. 近年、観光分野をめぐる動きとして、ユニークベニューの利活用に注目が集まっている。海外ではすでにMICE誘致をはじめ観光戦略の観点から多くの取組み事例があるものの、日本ではこの数年でようやくその取組みが始まったばかりである。

下線部に関する説明として、最も適切なものはどれか。次の①～④から一つ選びなさい。 (3点)

- ① 複合的な機能を有するサステナブルな交流施設のことで、デジタル化の進んだ会議・展示会場の新たな建設が期待されている。
② 独自の趣向を凝らした建築家の設計によるスタジアムのことで、持続可能なイベントの円滑な遂行がねらいとされている。
③ 歴史的建造物や公的空間などで会議やイベント等を行うことで、特別感や地域特性を演出できることが期待されている。
④ 物語とテーマ化を軸とするミュージアムのことで、テーマパーク化する博物館として集客力と収益性に期待が集まっている。

15

13. 日本には四季をつうじて、全国津々浦々に様々なお祭りがあることが知られている。その一例として、エイサーと呼ばれるお祭りがあるが、これは沖縄の伝統芸能の一つで、主に各地域の青年会がそれぞれの型を持ち、大太鼓や締め太鼓を用いて地域内を踊りながら練り歩くものである。このエイサーが行われる時期として、正しいものはどれか。次の①～④から一つ選びなさい。 (2点)

- ① 節分 ② 初夏 ③ 盆 ④ 秋

16

14. 毎年小正月に日本各地で広く行われてきた習俗の一つに、(ア)がある。この行事は、正月のお飾りや書初めなどを持ち寄り、それを藁とともに燃やすことによって、家内安全、商売繁盛、五穀豊穡などを願うものであり、地域によっては「塞の神まつり」や「左義長」などとも呼ばれる。

空欄 (ア) に当てはまる語句として、正しいものはどれか。次の①～④から一つ選びなさい。(3点)

- ① 大文字焼き ② どんど焼き ③ 送り火 ④ 火渡り祭

17

15. 神道は日本の民族歴史の中で自然に生まれた民族宗教として古くから存在する。幕末までは仏と神を一体で不可分とする神仏習合の時代であった。神仏習合の思想に基づいて建てられた現存する神社仏閣も多く、その代表的なものに日光の東照宮がある。神仏習合の思想が反映されたとされる東照宮の特徴の説明として、正しいものはどれか。次の①～④から一つ選びなさい。(3点)

- ① 通常は神社にはない鳥居があること ② 通常は寺院にしかない五重塔があること
③ 通常は神道にはない経典があること ④ 通常は寺院の名称である宮と呼ばれること

18

16. 日本列島は、北は北海道から南は沖縄まで南北に約 3,000 キロを有しており、そのため多様な自然と地域に息づく食文化の豊かな国といわれる。実際、2013 年 12 月に (ア) などの点が高く評価され、「和食：日本人の伝統的な食文化」が (イ) に登録された。

空欄 (ア) と (イ) に当てはまる語句の組み合わせとして、正しいものはどれか。次の①～④から一つ選びなさい。(3点)

- ① ア：一汁三菜にとられない地域ごとの多様性 イ：ユネスコ世界文化遺産
② ア：伝統に根ざしつつ洋食も受け入れる柔軟性 イ：国連食糧農業機関アワード
③ ア：健康的な食生活を支える栄養バランス イ：ユネスコ無形文化遺産
④ ア：美食と菜食を兼ね備えた高い健康への効果 イ：ミシュランガイド美食プレミアム

19

17. ユネスコの世界遺産委員会は 2021 年 7 月 26 日、顕著な普遍的価値を有する自然遺産として、沖縄島北部と徳之島、および (ア) の世界自然遺産への登録を決定した。理由としては、独特の地理的形成プロセスを経て固有種や国際的な希少種が生息・生育しており、生物多様性の高い貴重な地域であるという点から、その価値が認められたものである。

空欄 (ア) に当てはまる語句として、正しいものはどれか。次の①～④から一つ選びなさい。(3点)

- ① 奄美大島と西表島 ② 奄美大島と宮古島 ③ 与那国島と与論島 ④ 西表島と宮古島

20

<一般常識> マークシート 解答 (2022)

解答番号	解答	配点
1	1	2
2	2	2
3	3	3
4	1	2
5	4	3
6	4	2
7	1	2
8	4	2
9	2	2
10	4	3
11	1	2
12	1	3
13	1	3
14	3	2
15	3	3
16	3	2
17	2	3
18	2	3
19	3	3
20	1	3

50

各問題に対する解答はマークシートの解答欄にマークすること。例えば と表示のある問題に対して④と解答する場合は、マークシート の解答欄の④にマークすること。

1. 訪日外国人旅行に関する次の問いに対して答えなさい。

2020年の訪日外国人旅行者数は、新型コロナウイルスの影響で約411万6千人と、22年前の水準に戻ってしまった。2020年のこの数値は2019年と比較して何%減少したか、次の①～④から一つ選びなさい。(2点)

- ① 87.1% ② 97.1% ③ 12.9% ④ 2.9%

2. 日本の人口動態に関する説明として、正しいものはどれか。次の①～④から一つ選びなさい。(3点)

- ① 2019年の出生数は、20世紀以降で初めて90万人を下回り、死亡数から出生数を差し引いた人口の自然減も初めて50万人を超えるなど、少子化と人口減少が加速している。
- ② 日本の総人口は、2008年にピークの約1億2800万人に達し、これをターニングポイントとして減少局面に転じ、2008年以降はすべての都道府県で人口減少が確認されている。
- ③ 日本の総人口に占める生産年齢人口(15～64歳)の割合は、1990年代半ばには70%近くであったが、21世紀に入ると約60%にまで低下し、2019年現在ではすでに50%を下回っている。
- ④ 日本の総人口に占める高齢者人口(65歳以上)の割合は、1950年以降一貫して上昇が続き、2019年現在、高齢者人口(65歳以上)は約3600万人となり、総人口に占める割合は約40%を占めるに至っている。

3. ラグビーワールドカップ日本大会について、次の問いに答えなさい。

ラグビーのワールドカップは、4年に一度開催される世界三大スポーツイベントの一つであり、2019年9月から11月にかけての大会期間中、国内外から約170万人の観客を動員し、地方を訪れる観光客も増加した。令和2年版『観光白書』によると、観戦した訪日外国人旅行者の1人1回当たりの旅行支出は(ア)となり、観戦していない訪日外国人旅行者と比べて(イ)となった。

空欄(ア)と(イ)に当てはまる組み合わせのうち正しいものはどれか。次の①～④から一つ選びなさい。(2点)

- ① ア：158.5万円/人 イ：約10倍
- ② ア：72.5万円/人 イ：約4.5倍
- ③ ア：38.5万円/人 イ：約2.4倍
- ④ ア：15.6万円/人 イ：約1倍

4. 近年、観光政策の一環として、地域のさまざまな文化資源を磨きあげ、博物館・美術館・社寺・城郭等の施設を拠点とした観光を推進することで、文化についての理解を深める機会を拡大し、これにより国内外からの来訪を促進し、文化・観光の振興、地域経済の活性化の好循環を生み出すことをねらいとした取組みが進められている。この動きに関わる説明として、正しいものはどれか。次の①～④から一つ選びなさい。(3点)

- ① 2017年6月に文化芸術基本法が成立・公布された。
- ② 2018年4月に地域観光振興法が成立・公布された。
- ③ 2020年4月に文化観光推進法が成立・公布された。
- ④ 2020年10月に地域資源活用促進法が成立・公布された。

〈受験者本人の参考用としての個人使用以外の行為を禁ずる。複製・転売を禁ずる。〉

5. 観光庁では近年、訪日外国人旅行者がストレスフリーで快適に旅行できる環境の整備に向けて、受入れ環境の整備を進めており、その一環として2016～18年度に「訪日外国人旅行者の受入環境整備における国内の多言語対応に関するアンケート」を実施している。その際、訪日外国人旅行者が「旅行中に困ったこと」(複数回答)について尋ねた結果、三年連続でトップを占めた事項として、正しいものはどれか。次の①～④から一つ選びなさい。(3点)

- ① 無料公衆無線 LAN 環境がないこと
- ② 観光案内版・地図などにおける多言語表示の少なさ・わかりにくさ
- ③ 施設等のスタッフとのコミュニケーションが取れないこと
- ④ 公共交通の利用に関する問題(料金が高い、乗り換えが複雑で不便など)

6. 日本では近年、観光政策の一環として MICE の誘致に力を入れており、中でも国際会議の誘致・開催に向けて積極的に取り組んでいる。このことに関する説明として、正しいものはどれか。次の①～④から一つ選びなさい。(3点)

- ① MICE とは、企業等の会議(Meeting)、統合型リゾート(Integrated Resort)、国際会議(Convention)、展示会・見本市・イベント(Exhibition/Event)の頭文字を使った造語で、これらのビジネスイベントの総称である。
- ② ICCA(国際会議協会)のデータで国別国際会議開催件数(2019年)を見ると、世界全体における上位三か国は、アメリカ・中国・ベルギーである。
- ③ ICCA(国際会議協会)のデータで国際会議の規模別割合(2019年)を見ると、日本で開催された国際会議のうち、1,000人を超える大型国際会議は、いまだ50%前後に過ぎず、さらに誘致に力を入れる必要がある。
- ④ 訪日外国人観光客による消費拡大という文脈から見ると、日本で開催される MICE の機会に、その前後に休暇を追加して旅行を行うブレッジャーを促進することは、今後さらに重要になる。

7. 文化庁は2019年以降、Living History(生きた歴史体感プログラム)促進事業を開始し、都道府県に募集を呼びかけている。これは例えば、重要な文化財(建造物等)や史跡において、その時代を再現した復元行事や歴史体験行事を実施し、また当時の調度品や衣装等を再現するなどの取組みが当てはまる。この動きに関する説明として、正しいものはどれか。次の①～④から一つ選びなさい。(3点)

- ① この取組みは、主に訪日外国人観光客に対して目で見てわかる形で、日本文化に関する公正な歴史認識を促進することをねらいとしている。
- ② この取組みは、20世紀後半に欧米で生まれた学校教育のための手法であり、野外博物館での展示方法や世界遺産での歴史イベントなどに活かされている。
- ③ この取組みは、文化財を拠点として伝統的な行事やイベント、芸能の生き生きとした実演と組み合わせることで、文化財の保存を第一の目的としている。
- ④ この取組みは、文化財に新たな付加価値を付与し、得られる収益を文化財に再投資し、地域活性化に結びつけることをねらいとしている。

8. 通称「人間国宝」と言われている人は、文化財保護法の規程に基づき指定された(ア)の保持者である。(ア)に当てはまる語句は何か。正しいものを次の①～④から一つ選びなさい。(3点)

- ① 重要無形文化財 ② 登録有形文化財 ③ 重要民俗文化財 ④ 登録伝統文化財

9. 日本で一番寺院が多い都道府県は次のうちどれか。正しいものを①～④から一つ選びなさい。(2点)

- ① 奈良県 ② 京都府 ③ 愛知県 ④ 兵庫県

10. 日本の観光に関する次の各問いに対して、それぞれ答えなさい。

(1) 通常「パッケージツアー」と称している旅行は、旅行業法上何というか、正しいものを次の①～④から一つ選びなさい。(3点)

- ① 募集型企画旅行 ② 包括特約付き旅行 ③ 主催旅行 ④ 受注型企画旅行

(2) 2020年7月に北海道白老町に開業した、愛称“ウポポイ”と呼ばれる施設の正式名称は次のうちどれか。正しいものを①～④から一つ選びなさい。(3点)

- ① 民族共生象徴空間 ② 白老ポロコタン ③ 国立アイヌ民俗村 ④ アイヌ民族共生公園

11. ホテル・旅館を所管する省は(ア)省で、空港の出入国管理を所管する省は(イ)省である。

(1) (ア)に該当する語句のうち、正しいものを次の①～④から一つ選びなさい。(2点)

- ① 国土交通 ② 財務 ③ 厚生労働 ④ 法務

(2) (イ)に該当する語句のうち、正しいものを次の①～④から一つ選びなさい。(2点)

- ① 国土交通 ② 財務 ③ 厚生労働 ④ 法務

12. 2015年9月の国連サミットで採択された「持続可能な開発目標」(略称SDGs)は、国連加盟193か国が2016年から2030年までの15年間で持続可能でよりよい世界を実現するために掲げた国際目標であり、目標の1と2に掲げる(ア)の撲滅、教育、ジェンダーの平等、クリーンエネルギーの普及、経済成長、環境保全、平和構築など、17の大きな目標で構成されている。これに関連して、観光分野でも様々な取り組みが進められており、例えば日本では2020年6月、観光庁が日本版(イ)を開発し、公表している。

空欄(ア)および(イ)に当てはまる事項として、正しいものはどれか。それぞれ次の①～④から一つ選びなさい。(各2点)

ア: ① 差別やいじめ ② 感染症やウイルス ③ 格差や不平等 ④ 貧困や飢餓

イ: ① クリーンエネルギー認証制度 ② 持続可能な観光ガイドライン
③ オーバーツーリズム対策ガイドライン ④ エコツーリズム認証制度

13. 2020年の新型コロナウイルスの感染拡大に伴い、テレワークの活用が広がりを見せた。これに関連して、働きながら休暇を取る過ごし方として、(ア)が注目を集めた。これは、観光地や帰省先など自宅以外の休暇先でリモートワークにより仕事をする新しい働き方のことを指している。

空欄(ア)に当てはまるものとして、正しいものはどれか。次の①～④から一つ選びなさい。(2点)

- ① ステイケーション ② ワーキングホリデー ③ ビジネストラベル ④ ワークेशन

14. 近年、情報技術 (ICT) の発展と普及に伴い、スマートフォンを活用して自らインターネットで予約して旅行をする個人旅行客 (FIT) が増加するなど、観光分野に大きな変化の局面が訪れている。これに関連して観光分野でも、日本版 MaaS と呼ばれる新たなサービスの重要性が指摘され、その開発が進められている。この動きに関する説明として、正しいものはどれか。次の①～④から一つ選びなさい。 (3点)

- ① 日本各地の観光資源や文化財などで、VR (仮想現実) や AR (拡張現実) を活用した新しいコンテンツの提供により、観光経験の付加価値を高める取り組みが進められている。
- ② 全国各地の DMO (観光地域づくり法人) は、行政関係者をつなぐ情報共有システム「DMO ネット」を整備し、ビッグデータの収集・分析やそれに基づく戦略策定を進めている。
- ③ 観光庁は 2021 年度予算で新たに 1 兆円を計上し、DX (デジタルトランスフォーメーション) の推進による観光サービスの変革と観光需要の創出を推進している。
- ④ 複数の公共交通やそれ以外の移動サービスを最適に組み合わせて、検索・予約・決済等を一括で行うことができるモビリティサービスの開発・実現が模索されている。

17

15. 世界遺産および日本遺産に関する次の各問いに対して、それぞれ答えなさい。

(1) 世界遺産は、1972 年に国連のユネスコ総会で採択された世界遺産条約に基づき、認定された顕著な価値をもつ自然遺産や文化遺産のことである。これに対して日本国内でも、日本遺産という認定制度が 2015 年以降、創設され運用されている。日本遺産に関する説明として、正しいものはどれか。次の①～④から一つ選びなさい。 (3点)

- ① 観光庁が創設した制度であり、年に一度、都道府県を通じて市区町村に対して公募を行い、申請された案件から選定する仕組みを取る。2020 年現在、認定件数は全国で 1000 件に及ぶ。
- ② 地域に点在する文化財や伝統文化について、その地域の歴史的な魅力や特色を伝えるストーリーのもとで一体的に捉え、その効果的な活用を図る施策である。
- ③ 口承の伝統・表現、芸能、社会的慣習、儀式・祭礼行事などの重要な文化資源で、世界遺産登録のための候補をリストアップし、認定へと結びつけるための制度である。
- ④ 民俗文化、文化的景観、伝統的建造物などの文化財の分類を行い、文化財の保護と国民の社会教育に資することを目的とする施策である。

18

(2) 2020 年にユネスコ無形文化遺産に新たに登録されたものは、次のうちどれか。正しいものを①～④から一つ選びなさい。 (2点)

- ① 和紙：日本の手漉和紙技術
- ② 和食：日本人の伝統的な食文化
- ③ 来訪神：仮面・仮装の神々
- ④ 伝統建築工匠の技：木造建築物を受け継ぐための伝統技術

19

(3) 世界自然遺産に登録勧告する機関の略称は次のうちどれか、正しいものを①～④から一つ選びなさい。 (2点)

- ① IUCN ② UNWTO ③ ICOMOS ④ WTTIC

20

<一般常識> マークシート 解答 (2021年度)

解答番号	解答	配点
1	1	2
2	1	3
3	3	2
4	3	3
5	3	3
6	4	3
7	4	3
8	1	3
9	3	2
10	1	3
11	1	3
12	3	2
13	4	2
14	4	2
15	2	2
16	4	2
17	4	3
18	2	3
19	4	2
20	1	2

50

一般常識 1 (解答番号 ~)

2020 年度

各問題に対する解答はマークシートの解答欄にマークすること。例えば と表示のある問題に対して④と解答する場合は、マークシート の解答欄の④にマークすること。

1 東京オリンピック・パラリンピック競技大会に関する次の問いに対して、それぞれ答えなさい。

- (1) 1964 年東京大会の選手村は (ア)、2020 年東京大会の選手村は (イ) に所在している。空欄 (ア) と (イ) に当てはまる組み合わせのうち正しいものはどれか。次の①～④から一つ選びなさい。(3 点)

- ① ア：世田谷区の駒沢公園 イ：江東区の有明
② ア：渋谷区の代々木公園 イ：中央区の晴海
③ ア：立川市の昭和記念公園 イ：港区の台場
④ ア：世田谷区の駒沢公園 イ：中央区の晴海

- (2) 1964 年東京大会の際には、首都高速道路において (ア) の上を走る高架構造の区間が誕生したが、21 世紀に入ると景観・水質の悪化や大気汚染の要因として改善を求める声上がり、2020 年以降に向けて、一部区間を地下化することで、周辺エリアに快適な歩行空間や水辺空間を取り戻す方針が決まっている。空欄 (ア) に当てはまる川名を次の①～④から一つ選びなさい。(2 点)

- ① 隅田川 ② 日本橋川 ③ 渋谷川 ④ 江戸川

- (3) 2019 年 11 月 30 日に全面建て替え工事を経て、明治神宮外苑に新しい国立競技場が完成した。大会開催後の運営方式をめぐっては、コンセッション方式が導入されることが見込まれている。コンセッション方式に関する説明として、正しいものはどれか。次の①～④から一つ選びなさい。(2 点)

- ① 管理システムの徹底に伴うセキュリティの強化
② 公共施設等の運営権を民間事業者に売却する民営化
③ 入札システムの透明化に伴う審査の公平性の確保
④ 指定管理者の選定による公的施設の管理委託

2 国の観光政策に関する次の問いに対して、それぞれ答えなさい。

- (1) 日本では近年、日本再興戦略の中で「2030 年にはアジア No.1 の国際会議開催国として不動の地位を築く」という目標を掲げ、国際会議の誘致に力を入れているが、ICCA (International Congress and Convention Association) のアジア太平洋地域における国別国際会議の開催件数 (2018 年) について、上位 3 か国 (順不同) を並べたものとして、正しいものはどれか。次の①～④から一つ選びなさい。(2 点)

- ① オーストラリア、シンガポール、中国
② シンガポール、タイ、日本
③ 日本、中国、韓国
④ 中国、オーストラリア、日本

〈受験者本人の参考用としての個人使用以外の行為を禁ずる。複製・転売を禁ずる。〉

(2) 2018 年に国際観光旅客税法が成立し、2019 年より国際観光旅客税の運用が開始された。この税収の使途として、初年度のケースについて、以下のうち適切なものはどれか。次の①～④から一つ選びなさい。(3 点)

- ① 住宅宿泊事業を円滑に進めていくため、民泊の管理運営および予約システムに必要な設備投資など、特に新規性・緊急性の高い施策に充当されている。
- ② インバウンド促進の観点から、全国各地のプロモーションおよび「面」的な魅力向上に向けて、中長期的な観点から必要となるマネジメントの資金に充当されている。
- ③ 空港の顔認証ゲートや税関検査場での電子申告ゲートの整備をはじめ、税関・出入国審査・検疫など、特に新規性・緊急性の高い施策に充当されている。
- ④ 羽田空港および成田空港の国際線拡充に伴い、新ターミナルの建設や周辺ホテルの整備など、中長期的な観点から必要となる設備投資に充当されている。

(3) 2016 年 3 月の「明日の日本を支える観光ビジョン」では、高齢者、家族連れや重い荷物を持った人など、すべての旅行者がストレスなく快適に観光を満喫できる環境づくりが必要であるとの視点が明記された。このことに関連する説明として、適切なものはどれか。次の①～④から一つ選びなさい。(2 点)

- ① 全国の観光地や交通機関などで高水準の「ユニバーサルデザインの街づくり」を推進し、心のバリアフリーについては、建築面などハードのバリアフリー化を実現した後に進めていく方針が打ち出された。
- ② ユニバーサルツーリズムの商品開発についてはもっぱら民間が主要な担い手となり、今後は効率的なマネジメントが必要であるとの方針が確定した。
- ③ 不特定多数の人が利用する特定の建築物や公共交通機関について、高齢者や身体障がい者が円滑に移動できるような整備を促すため、バリアフリー化が義務付けられた。
- ④ 1 日の乗降客数が 3,000 人以上の旅客施設や特定道路について、2020 年度までに原則 100% のバリアフリー化を実現するなど、具体的な整備目標を達成する方針が打ち出された。

3 訪日外国人旅行者の消費動向に関する次の各問いに対して、それぞれ答えなさい。

(1) 2019 年の訪日外国人旅行者 1 人当たりの旅行支出は、平均 15 万 8,531 円であった。このうち宿泊費について国籍・地域別に見たとき、多い順に 3 つ並べたものとして、正しいものはどれか。次の①～④から一つ選びなさい。(2 点)

- ① 英国、フランス、オーストラリア
- ② 米国、ドイツ、インド
- ③ 中国、台湾、香港
- ④ 中国、シンガポール、ベトナム

- (2) 訪日外国人旅行者による日本国内での消費は、国際収支における「貿易・サービス収支」の一部で旅行収支の「収入」に当たり、反対に、日本人旅行者による海外での消費は旅行収支の「支出」に当たる。2019年までの日本の旅行収支に関する記載として、正しいものはどれか。次の①～④から一つ選びなさい。(2点)

- ① 1990年代以降、日本経済の低迷に伴い横ばい状態が続いているが、ここ数年は黒字幅が減少傾向にある。
- ② 21世紀に入って以降、黒字幅は年々増加し、2018年には最大の1.2兆円を記録している。
- ③ 2003年のビジットジャパン・キャンペーン以降、支出が収入を上回る赤字の構造から脱して黒字となった。
- ④ 2010年代に入ると赤字幅が減少して2015年に黒字に転化し、2019年には約2.7兆円の黒字となった。

8

- (3) 訪日外国人による2019年の旅行消費額は過去最多を記録した。費目別の構成比の多い順に並べたうち、正しいものはどれか。次の①～④から一つ選びなさい。(3点)

- ① 買物代 > 宿泊料金 > 飲食費 > 交通費 > 娯楽等サービス費 > その他
- ② 宿泊料金 > 飲食費 > 買物代 > 娯楽等サービス費 > 交通費 > その他
- ③ 交通費 > 娯楽等サービス費 > 宿泊料金 > 買物代 > 飲食費 > その他
- ④ 娯楽等サービス費 > 買物代 > 交通費 > 飲食費 > 宿泊料金 > その他

9

- (4) 2019年の訪日外国人旅行者1人当たりの平均的な日本での宿泊日数について、国籍・地域別に見たとき、正しいものはどれか。次の①～④から一つ選びなさい。(3点)

- ① 中国・韓国・台湾・香港からの旅行者は、いずれも5日以内である。
- ② 東南アジア（特にタイ、シンガポール、マレーシア、インドネシア、フィリピン、ベトナム）からの旅行者は、いずれも5日以上10日以内である。
- ③ 欧米豪（特に英国、ドイツ、フランス、イタリア、スペイン、米国、カナダ、オーストラリア）からの旅行者は、いずれも10日以上である。
- ④ インドとロシアからの旅行者は、いずれも20日以上である。

10

- (5) 日本人と訪日外国人旅行者を合わせた延べ宿泊者数について、2018年のデータを都道府県別に算出すると、訪日外国人旅行者による延べ宿泊数の割合が高い上位3都道府県は、(ア)である。空欄(ア)に当てはまる都道府県として、正しいものはどれか。次の①～④から一つ選びなさい。(2点)

- ① 京都府・北海道・沖縄県
- ② 京都府・大阪府・福岡県
- ③ 大阪府・東京都・京都府
- ④ 大阪府・福岡県・愛知県

11

〈受験者本人の参考用としての個人使用以外の行為を禁ずる。複製・転売を禁ずる。〉

4 IR (統合型リゾート) に関する次の問いに対して、答えなさい。

日本では、国際会議場、展示場、劇場、宿泊施設、ショッピングモール、カジノ等を含む IR (統合型リゾート) の誘致・実現に向けて、制度的な基盤の整備が進められている。この動きに関わりの深い説明として、正しいものはどれか。次の①～④から一つ選びなさい。 (2点)

- ① 2018年7月に特定複合観光施設区域整備法が成立・公布された。
- ② 2018年4月に国際観光振興法が成立・公布され、同年8月に内容の拡充を伴う改正がなされた。
- ③ 2011年8月に総合特別区域法が公布され、国際戦略総合特区事業が開始された。
- ④ 2018年1月に旅行業法が一部改正された。

5 地域の活性化に関する次の問いに対して、それぞれ答えなさい。

(1) 近年、地域の観光まちづくりに貢献する役割を期待され、観光地域づくり法人 (DMO) にますます注目が集まっている。観光地域づくり法人 (DMO) に関する記載として、正しいものはどれか。次の①～④から一つ選びなさい。 (2点)

- ① 地方創生に資するべく、地域に観光客・ツーリストを送り出す都市部の旅行業者の役割がますます重要になることから、その支援を行うことが期待されている。
- ② 観光ビジョンに掲げられたインバウンド対応の目標達成に向けて、全国一律の定量的な基準で各地のマーケティングを行い、均一にマネジメントすることが期待されている。
- ③ 1998年に日本での認定・登録制度が創設され、2019年現在では全国で5万法人を超えている。
- ④ 2018年に観光庁で検討会が開催されるなど、世界水準の観光地域づくり法人 (DMO) の形成・確立に向けて取組みが本格化している。

(2) 近年、スポーツを核としたまちづくりの観点から、スタジアム・アリーナ等の役割と機能に注目が集まっている。その際、従来のような単機能型のスポーツ施設ではなく、例えば様々なイベントを開催でき、周辺に商業施設を配するような多機能で複合的な機能を組み合わせた交流施設として、広く周辺地域のエリアマネジメントや地域活性化に資する役割が期待されている。こうしたスタジアム・アリーナ等に対する考え方に関わりの深い概念として、正しいものはどれか。次の①～④から一つ選びなさい。 (2点)

- ① スマート・ベニュー
- ② スマート・シティ
- ③ コンパクトシティ
- ④ ユニーク・ベニュー

- (3) 農林水産省は、農山漁村の有するポテンシャルを引き出すことにより地域の活性化、所得向上に取り組んでいる優良な事例を(ア)として選定し、全国への発信を通じて地域への展開を図っている。2014年の第1回から2019年の第6回までに計174地区が選定されている。空欄(ア)に当てはまる用語として、正しいものはどれか。次の①～④から一つ選びなさい。(2点)

- ① 創造農村セレクション
- ② ディスカバー農山漁村の宝
- ③ 農山漁村百選
- ④ グッドライフアワード

15

- 6 国立公園の取組みに関する次の問いに対して、答えなさい。

現在、日本の豊かな自然資源を観光資源として効果的に活用するため、「国立公園満喫プロジェクト」を推進し、国立公園を世界水準のナショナルパークとする取組みが実施されている。その内容として、以下のうち正しいものはどれか。次の①～④から一つ選びなさい。(2点)

- ① 外国人の国立公園利用者数を、2015年の43万人から2020年までに100万人へと増やすために多様な取組みが進められている。
- ② もっぱら自然保護の観点から優れた自然環境をできるかぎり保全し、また科学的な学術研究の対象とするためのさまざまな施策が進められている。
- ③ 生物の観察ツアーやガイド付きツアーなど自然体験型コンテンツの創出のほか、質の高いホテルやカフェの誘致など民間との連携が進められている。
- ④ 全国のすべての国立公園で一斉にプロモーションを強化し、旅行業者と連携しながら旅行商品の開発を目的として進められている。

16

- 7 働き方改革に関する次の問いに対して、答えなさい。

2018年7月に「働き方改革を推進するための関係法律の整備に関する法律」が公布され、2019年4月に施行された。このことに関連する説明として、正しいものはどれか。次の①～④から一つ選びなさい。(2点)

- ① 労働基準法も改正され、すべての企業で年10日以上の子次有給休暇が付与される労働者に対して、年次有給休暇の日数のうち年5日については、使用者が時季を指定して取得させることが義務付けられた。
- ② 年次有給休暇について、現状の約50%という取得率(2016～17年現在)を改善し、2020年までに約90%以上に向上させることを目指すことが明記された。
- ③ 労働基準法も改正され、使用者は労働者ごとに年次有給休暇管理簿を作成し、時季・日数・基準日など必要事項を記入したうえで、5年間保存することが義務付けられた。
- ④ パートタイム労働者など、所定労働日数が少ない労働者については、年次有給休暇の取得は義務の対象とはならず、労働者ごとの任意に委ねられることになった。

17

〈受験者本人の参考用としての個人使用以外の行為を禁ずる。複製・転売を禁ずる。〉

8 性の多様性を認める取組みに関する次の問いに対して、答えなさい。

21 世紀に入って以降、性的マイノリティ（少数者）が差別や偏見にさらされることなく、性の多様性を認め誰もが生きやすい社会の実現を目指した取組みが世界的に進められている。特に大規模なイベントとしては（ア）パレードが有名であり、日本でも近年（イ）のエリアを中心に毎年開催され、2019 年度は約 1 万人が行進した。空欄（ア）と（イ）に当てはまる組み合わせのうち正しいものはどれか。次の①～④から一つ選びなさい。（2 点）

- | | |
|-------------|-------------|
| ① ア：バリアフリー | イ：新宿区の新宿御苑 |
| ② ア：プライド | イ：渋谷区の代々木公園 |
| ③ ア：ダイバーシティ | イ：中央区の銀座通り |
| ④ ア：ユニバーサル | イ：港区の台場 |

18

9 世界の外国旅行の動向に関する次の各問いに対して、それぞれ答えなさい。

- (1) 国連世界観光機関（UNWTO）によると、2018 年の国際旅行者数は約（ア）億人にのぼった。世界で外国人訪問者数が一番多い国は（イ）で、2018 年は*約 8,932 万人が訪れた。

問 1 空欄（ア）に入る数は次のうちどれか。正しいものを①～④から一つ選びなさい。

(2 点)

- ① 4 ② 14 ③ 24 ④ 34

19

問 2 空欄（イ）に入る語句は次のうちどれか。正しいものを①～④から一つ選びなさい。

(2 点)

- ① スペイン ② 米国 ③ フランス ④ 中国

20

- (2) 2018 年に、国際観光収入が最も大きかった国は（ア）で、*約 2,146 億米ドルに達した。一方、国際観光支出が最も大きかった国は（イ）で、*約 2,773 億米ドルに上った。

問 1 空欄（ア）に入る語句は次のうちどれか。正しいものを①～④から一つ選びなさい。

(2 点)

- ① スペイン ② 米国 ③ フランス ④ 中国

21

問 2 空欄（イ）に入る語句は次のうちどれか。正しいものを①～④から一つ選びなさい。

(2 点)

- ① スペイン ② 米国 ③ フランス ④ 中国

22

*出典：UNWTO Basic indicators (Compendium) 2014-2018 (12.2019)

〈受験者本人の参考用としての個人使用以外の行為を禁ずる。複製・転売を禁ずる。〉

10 観光における危機管理に関する次の問いに対して、答えなさい。

日本の外務省が発出する海外危険度レベルのうち、レベル 2 の意味は次のうちどれか。正しいものを①～④から一つ選びなさい。(2 点)

- ① 不要不急の渡航は止めてください。
- ② 渡航は止めてください。(渡航中止勧告)
- ③ 退避してください。渡航は止めてください。(退避勧告)
- ④ 十分注意してください。

23

<一般常識> マークシート 解答 (2020年度)

問題番号	解答	配点
1	2	3
2	2	2
3	2	2
4	3	2
5	3	3
6	4	2
7	1	2
8	4	2
9	1	3
10	3	3
11	3	2
12	1	2
13	4	2
14	1	2
15	2	2
16	3	2
17	1	2
18	2	2
19	2	2
20	3	2
21	2	2
22	4	2
23	1	2

50

各問題に対する解答は配布したマークシートの解答欄にマークすること。例えば と表示のある問題に対して④と解答する場合は、解答番号 の解答欄の④にマークすること。

1 訪日外国人旅行者に関する次の各問に対して、それぞれ答えなさい。

- (1) 2018 年の訪日外国人旅客者数は、3,119 万 2 千人であった。その居住国・地域別を多い順に 4 つ並べたものとして、正しいものはどれか。次の①～④から一つ選びなさい。(3 点)

- ① 中国、韓国、タイ、ベトナム
- ② 中国、韓国、台湾、香港
- ③ 韓国、中国、シンガポール、台湾
- ④ 韓国、中国、アメリカ、イギリス

- (2) 2018 年の訪日外国人旅行者数は、前年比 8.7% 増の 3,119 万 2 千人を記録し、統計を取り始めた 1964 年以降、最多となった。(3 点)

市場別では、(ア) が 113 万人となり、東南アジア市場で、初めて 100 万人を突破した。空欄 (ア) に当てはまる市場名を、次の①～④から一つ選びなさい。

- ① タイ
- ② シンガポール
- ③ マレーシア
- ④ フィリピン

- (3) 訪日外国人による 2018 年の旅行消費額は 4 兆 5,189 億円となり、過去最高を記録した。費目別の構成比をみると、(ア) が 34.9% と最も多く、次いで (イ) が 29.2% であった。(3 点)

空欄 (ア) と (イ) に当てはまる組み合わせのうち正しいものはどれか。次の①～④から一つ選びなさい。

- | | |
|--------------|------------|
| ① ア：飲食費 | イ：娯楽等サービス費 |
| ② ア：買物代 | イ：宿泊費 |
| ③ ア：娯楽等サービス費 | イ：買物代 |
| ④ ア：宿泊費 | イ：飲食費 |

- (4) 2018 年の訪日外国人旅行消費額と一人当たりの旅行支出額に関して、正しいものを次の①～④から一つ選びなさい。(2 点)

- ① 訪日外国人旅行消費額は前年比でわずかに増加し、一人当たりの旅行支出額は約 24 万 2 千円となり、ともに過去最高を記録した。
- ② 訪日外国人旅行消費額は前年比でわずかに減少し、一人当たりの旅行支出額は約 15 万 3 千円となり、ともに前年よりも微減となった。
- ③ 訪日外国人旅行消費額は前年比でわずかに減少し、一人当たりの旅行支出額は約 24 万 2 千円となり、後者は過去最高を記録した。
- ④ 訪日外国人旅行消費額は前年比でわずかに増加し、一人当たりの旅行支出額は約 15 万 3 千円となり、3 年連続で 15 万円台で推移している。

(5) 2018 年の国・地域別訪日外国人旅行消費額について、正しいものを次の①～④から一つ選びなさい。(2 点)

- ① 中国及び韓国からの訪日外国人旅行消費額の合計は、訪日外国人旅行消費額全体の半分近くを占めている。
- ② 中国・韓国・台湾・香港からの訪日外国人旅行消費額の合計は、訪日外国人旅行消費額全体のおよそ 8 割を占めている。
- ③ 中国からの訪日外国人旅行消費額は、訪日外国人旅行消費額全体の約半分を占めている。
- ④ オーストラリアからの訪日外国人旅行消費額は、中国・韓国・台湾・香港に次いで第 5 位である。

2 国際観光旅客税に関する次の問について、答えなさい。

2019 年の 1 月から導入された国際観光旅客税に関する以下の記述のうち、正しいものはどれか。次の①～④の中から一つ選びなさい。(3 点)

- ① 徴収金額は出国 1 回につき 2,000 円である。
- ② 2 歳未満の子供、24 時間以内の乗継旅客および船舶または航空機の乗員には課されない。
- ③ プライベートジェットによる出国の場合は免除される。
- ④ 使途の一つとして、職員の人件費の増加によるモチベーションアップがある。

3 旅行業法に関する次の問に対して、答えなさい。

報酬を得て、旅行業を営む者のため、旅行者に対する運送等サービス又は運送等関連サービスの提供について、これらのサービスを提供する者との間で、代理して契約を締結し、媒介をし、又は取次ぎをする行為を行う事業者を従来「ランドオペレーター」と呼称していたが、2018 年の法改正により (ア) とし、都道府県知事の登録が義務付けられた。(ア) に当てはまるものを次の①～④の中から一つ選びなさい。(2 点)

- ① ツアーオペレーター
- ② 旅行サービス手配業者
- ③ 現地手配会社
- ④ 受注型企画旅行会社

4 訪日外国人旅行者のビザに関する次の問に対して、答えなさい。

2019年1月現在、短期滞在を目的として訪日する際に査証(ビザ)を必要としない国はどれか。正しいものを次の①～④から一つ選びなさい。(3点)

- ① ベトナム ② フィリピン ③ シンガポール ④ インド

5 世界遺産に関する次の各問に対して、それぞれ答えなさい。

(1) 2018年にユネスコ世界遺産に登録されたものはどれか。次の①～④から一つ選びなさい。(3点)

- ① 長崎と天草地方の潜伏キリシタン関連遺産
② 百舌鳥・古市古墳群
③ 「神宿る島」宗像・沖ノ島と関連遺産群
④ 奄美大島、徳之島、沖縄島北部及び西表島

(2) ユネスコが認定・登録する事業には、世界遺産のほかに、無形文化遺産と世界の記憶(旧称:ユネスコ記憶遺産、2年ごと審査)がある。

2018年は「来訪神 仮面・仮装の神々」がユネスコの無形文化遺産に登録された。登録時に構成されている「来訪神」行事は東北から沖縄まで8県10行事であるが、以下のうち該当するものはどれか。次の①～④から一つ選びなさい。(3点)

- ① 石見神楽 ② 宮古島のパーントゥ
③ 三河万歳 ④ 福井市のあっぱっしゃ

6 日本の交通運輸機関に関する次の問に対して、答えなさい。

2020年にJR山手線・京浜東北線と東京メトロ日比谷線に新駅が誕生するが、2018年に新駅の名称が発表された。

JR山手線・京浜東北線の田町～品川間に誕生する新駅の駅名はどれか、次の①～④から一つ選びなさい。(2点)

- ① 高輪エントランス駅 ② 高輪ゲートウェイ駅
③ 高輪ニュータウン駅 ④ 高輪セントラル駅

7 迎賓館に関する次の問に対して、答えなさい。

迎賓館とは、外国の国家元首や政府の長、王族などの賓客を迎え入れた際に、会食や宿泊などの接遇やおもてなしが行われる場である。迎賓館赤坂離宮に関する以下の記述のうち、正しいものはどれか。次の①～④の中から一つ選びなさい。(2点)

- ① 京都に所在するこの施設は、近年リノベーションされ、結婚式場として新たに人気を博している。
- ② 幕末に西洋諸国と結んだ不平等条約の改正のため、欧化政策の推進を目的として建設されたが、戦後その役目を終えて解体された。
- ③ 文化財保護の観点から、将来世代のために修復と保全に努め、可能な限りツアー客の見学を制限している。
- ④ 近年外国からの賓客の接遇に支障のない範囲で一般公開され、観光に資するべく季節に応じた特別企画やイベント、夜間公開やライトアップも実施されている。

8 EPA (経済連携協定) に関する次の問に対して、答えなさい。

日本は (ア) と 2017 年に EPA (経済連携協定) を妥結し、2018 年に双方の署名を終え、2019 年 2 月に EPA が発効された。これにより段階的に革製品やアルコール・食品類、アパレル品などの輸入関税が撤廃または削減され、日本からの自動車や家電製品についても輸出関税が撤廃されるなど、物の取引や輸出入が自由化される。空欄 (ア) に当てはまるものを次の①～④から一つ選びなさい。(3点)

- ① 太平洋諸国
- ② ASEAN 諸国
- ③ EU 諸国
- ④ 英国

9 文化庁に関する次の問に対して、答えなさい。

2016 年 3 月に、政府関係機関移転基本方針にもとづき文化庁の (ア) への全面的な移転が決定し、遅くとも 2021 年度中の本格移転を目指すとされている。空欄 (ア) に当てはまる都市名を次の①～④から一つ選びなさい。(2点)

- ① 大阪市
- ② 奈良市
- ③ 京都市
- ④ 名古屋市

10 日本は 2019 年にはラグビーワールドカップ 2019 日本大会、2020 年には東京オリンピック・パラリンピック競技大会、2021 年にはワールドマスターズゲームズ 2021 関西が開催されるなど世界的なスポーツイベントが目白押しで、ゴールデン・スポーツイヤーズとも称されている。スポーツに関する次の問に対して、答えなさい。

(1) ラグビーワールドカップは参加 20 チームが、9 月 20 日～11 月 2 日と長期にわたって争うが、開催都市は (ア) 等、12 都市に及ぶ。空欄 (ア) に当てはまる開催都市の組み合わせのうち正しいものはどれか。次の①～④から一つ選びなさい。 (3 点)

- ① 新潟市・気仙沼市
- ② 東大阪市・釜石市
- ③ 盛岡市・京都市
- ④ 陸前高田市・名古屋市

(2) 19 世紀末に近代オリンピックを発案したクーベルタン男爵は、その当時、国際スポーツ競技大会の実施に際して「オリंपイズム」の理想を抱いていた。その内容として、正しいものはどれか。次の①～④から一つ選びなさい。 (2 点)

- ① 男女平等の実現と差別の撤廃
- ② 国際観光の促進と階級間の融和
- ③ 若者の精神修養とナショナリズムの発揚
- ④ 相互理解と平和でよりよい世界の実現

11 国際博覧会に関する次の各問に対して、それぞれ答えなさい。

(1) 2018 年 11 月に博覧会国際事務局 (BIE) 総会がパリで開催され、国際博覧会の開催国として日本が選出された。その開催年と開催場所を示した組み合わせのうち、正しいものはどれか。次の①～④から一つ選びなさい。 (3 点)

- ① 2020 年、東京・豊洲
- ② 2025 年、北海道・札幌
- ③ 2024 年、福岡・博多
- ④ 2025 年、大阪・夢洲

- (2) 博覧会国際事務局は、博覧会の乱立を避けるため、1988年に条約を改正して、大規模で開催期間が長期間（6週間以上6ヵ月以内）のものを登録博覧会、それより小規模で明確なテーマを掲げ短期間（3週間以上3ヵ月以内）のものを認定博覧会とした。登録博覧会は開催間隔を5年以上としているが、2020年の登録博覧会の開催地はどこか、次の①～④から一つ選びなさい。 (2点)

① ロサンゼルス ② ミラノ ③ ドバイ ④ パリ

- 12 重要伝統的建造物群保存地区に関する次の各問に対して、それぞれ答えなさい。

重要伝統的建造物群保存地区は2018年8月17日現在98市町村で118地区ある。そのうちもっとも直近で選定された地区は（ア）である。 (2点×2=4点)

- (1) 重要伝統的建造物群保存地区について正しい記述はどれか。次の①～⑤から一つ選びなさい。

- ① 市町村が選定した伝統的建造物群保存地区とは別に、国が独自に選定したものである。
 ② 防災設備の設置事業、案内板の設置事業は、管轄する市町村の負担で行い、国からの補助はない。
 ③ 昭和50年に改正された文化財保護法とは別に、重要伝統的建造物群保存地区法によって規定されている。
 ④ 選定基準の一つとして、「伝統的建造物群が全体として意匠的に優秀なもの」がある。

- (2) 空欄（ア）に当てはまる適切な地区を次の①～④から一つ選びなさい。

① 喜多方市小田付 ② 福山市鞆町 ③ 名古屋市有松 ④ 豊岡市出石

〈一般常識〉 マークシート 解答

問題番号	解答	配点
1	2	3
2	1	3
3	2	3
4	4	2
5	1	2
6	2	3
7	2	2
8	3	3
9	1	3
10	2	3
11	2	2
12	4	2
13	3	3
14	3	2
15	2	3
16	4	2
17	4	3
18	3	2
19	4	2
20	1	2

50

一般常識— 1 (解答番号 ~)

平成 30 年度

各問題に対する解答は配付したマークシートの解答欄にマークすること。例えば と表示のある問題に対して④と解答する場合は、解答番号 の解答欄の④にマークすること。

1 訪日外国人旅行者に関する次の各問に対して、それぞれ答えなさい。

- (1) 2017 年の訪日外国人旅行者数は、(ア) 万人となり、5 年連続で過去最高を更新し、2020 年に 4,000 万人にするとの目標に向け堅調に推移している。
空欄 (ア) に当てはまる数字を、次の①~④から一つ選びなさい。(2 点)

① 869 ② 1,869 ③ 2,869 ④ 3,869

- (2) 2017 年の訪日外国人旅行者による日本国内における消費額は、4 兆 4,162 億円となり、初めて 4 兆円を超えたが、訪日外国人旅行者 1 人当たりの旅行支出は、前年比 1.3%減の 153,921 円となった。また、2017 年の訪日外国人 1 人当たりの旅行支出については、最も支出の大きかった国と 2 番目に大きかった国が前年から入れ替わった。2017 年に最も大きかったのは中国の 230,382 円であり、次いで大きかったのは (ア) の 225,845 円であった。
日本百貨店協会が発表している統計資料によると、2017 年を通じて訪日外国人旅行者に最も人気が高かったのは (イ) である。

問 1. 空欄 (ア) に当てはまる国籍・地域名を次の①~④から一つ選びなさい。(2 点)

① インド ② オーストラリア ③ 米国 ④ 英国

問 2. 空欄 (イ) に当てはまる適切な語句を次の①~④から一つ選びなさい。(2 点)

① 婦人服 ② 食品 ③ 婦人服飾雑貨 ④ 化粧品

2 日本人の海外旅行に関する次の問について答えなさい。

- (1) 2017 年の出国日本人数は約何万人であったか。次の①~④から一つ選びなさい。(2 点)

① 789 ② 1,789 ③ 2,789 ④ 3,789

3 世界遺産に関する次の問について答えなさい。

- (1) 「神宿る島」宗像・沖ノ島と関連遺産群が存在する都道府県はどれか。次の①~④から一つ選びなさい。(2 点)

① 福岡県 ② 佐賀県 ③ 大分県 ④ 長崎県

5 日本の法律に関する次の各問に対して、それぞれ答えなさい。

- (1) 労働基準法（労基法）では、原則 1 日 8 時間、週 40 時間を超える労働をさせることを禁じている。この制限を超えて労働を命じる場合は、労使間で結ばれた（ア）協定にのっとり、超過分の賃金を払わなければならない。（ア）協定は、労基法の第（ア）条がその手続きを定めていることから、こう呼ばれている。ただし、デザイナーや編集者など専門性が高く時間管理が難しい業務は、勤務時間などが柔軟に決められ、1 日 8 時間の上限が適用されないことがある。これを（イ）労働制という。

問 1 空欄（ア）に当てはまる適切な数字を次の①～④から一つ選びなさい。 (2 点)

- ① 16 ② 26 ③ 36 ④ 46

問 2 空欄（イ）に当てはまる適切な語句を次の①～④から一つ選びなさい。 (2 点)

- ① 出来高 ② 規定外 ③ 非正規 ④ 裁量

- (2) 2018 年 6 月 13 日に成人年齢を 20 歳から 18 歳へ引き下げる改正民法が成立した。これにより、現在 20 歳未満の者はできないとされている次の行為のうち、施行される 2022 年 4 月 1 日から 18 歳以上であればできるようになるものはどれか。次の①～⑤から二つ選びなさい。 (2 点×2=4 点)

- ① 飲酒ができる
 ② 喫煙ができる
 ③ 馬券（勝馬投票券）の購入ができる。
 ④ 有効期限が 10 年の旅券が取得できる
 ⑤ 公認会計士の資格を取得できる。

6 スポーツに関する次の各問に対して、それぞれ答えなさい。

- (1) 2018 年の冬季オリンピックは、韓国の平昌で開催されたが、次回 2022 年は中国の（ア）で開催される予定である。空欄（ア）に当てはまる都市を次の①～④から一つ選びなさい。 (2 点)

- ① 瀋陽 ② 大連 ③ ハルピン ④ 北京

(2) FIFA ワールドカップに関する次の記述のうち正しいものはどれか。次の①～④から二つ選びなさい。
(1 点×2=2 点)

- ① 第 1 回大会は 1930 年に当時の FIFA 会長ジュール・リメの故国フランスで開催された。
- ② 2018 ロシア大会では、日本代表がコロンビア代表に勝利した。これはW杯におけるアジア勢による南米勢からの初勝利である。
- ③ 2018 ロシア大会に出場した日本選手の中で最年長は本田圭佑選手である。
- ④ 次回 2022 年の開催国はカタールである。

13

(3) 大相撲に関する次の記述のうち正しいものはどれか。次の①～④から一つ選びなさい。(2 点)

- ① 2017 年初場所後に第 72 代横綱稀勢の里が誕生したが、日本出身力士としては第 65 代横綱貴乃花以来 19 年ぶりである。
- ② 横綱土俵入りには現在「雲竜型」と「不知火型」の 2 つの型があり、綱の締め方やせり上がりの型が異なる。白鵬は不知火型、稀勢の里は雲竜型である。
- ③ 2018 年初場所でジョージア出身の栃ノ心が初優勝を飾ったが、外国出身の力士で初めて優勝したのはハワイ出身の小錦である。
- ④ 1909 年に優勝制度が確立して以来、2018 年初場所までで優勝回数が最も多いのは白鵬の 40 回であるが、2 番目に多いのは千代の富士の 31 回である。

14

7 次の各問に対して、それぞれ答えなさい。

(1) 日本には、戦国時代に約 3,000 の城が乱立していたと言われている。現在国宝に指定されている城はどれか。次の①～④から一つ選びなさい。(2 点)

- ① 松本城
- ② 大阪城
- ③ 熊本城
- ④ 名古屋城

15

(2) 将棋界において次々と記録を塗りかえた藤井聡太棋士について、次の問いに答えなさい。
藤井聡太棋士が塗りかえた記録の以下の記述のうち、2018 年 5 月末の時点において正しいものはどれか。次の①～④から一つ選びなさい。(2 点)

- ① 小学生での公式戦初勝利
- ② プロデビューからの 39 連勝
- ③ 八段昇段の最年少記録
- ④ 最年少 (14 歳 2 ヶ月) でのプロ入り

16

(3) 公的施設の公開に関する次の記述のうち正しいものはどれか。次の①～④から一つ選びなさい。

(3 点)

- ① 皇居の参賀・参観は、新年と天皇誕生日の一般参賀を除き一般の参観はすべて事前予約制である。
- ② 京都御所の参観については 2016 年 7 月 26 日以降、参観休止日を除き事前申込手続不要の公開を実施している。
- ③ 総理大臣官邸の見学については、学校の先生等が引率する小・中・高校生を対象に、夏休みに限り特別見学を実施している。
- ④ 京都迎賓館の見学については「ガイドツアー方式」と「自由参観方式」があり、「ガイドツアー方式」は事前予約が必要で当日受付はできない。

17

(4) 映画やドラマ、アニメ等の舞台となった地域は、その作品の「聖地」として観光客を呼び込んでいる。作品とその舞台となった観光地の組合せとして正しいものはどれか。次の①～⑤から二つ選びなさい。

(2 点×2=4 点)

- | | | |
|-------------------|---|---------|
| ① 映画「Love Letter」 | = | 北海道小樽市 |
| ② 映画「おくりびと」 | = | 石川県金沢市 |
| ③ 映画「世界の中心で、愛を叫ぶ」 | = | 長崎県長崎市 |
| ④ 連続テレビ小説「あまちゃん」 | = | 三重県鳥羽市 |
| ⑤ アニメ「SLAM DUNK」 | = | 神奈川県鎌倉市 |

18

(5) 江戸時代を代表する浮世絵師とその作品の組合せで正しいものはどれか。次の①～⑤から二つ選びなさい。

(2 点×2=4 点)

- | | | |
|---------|---|--------------|
| ① 東洲斎写楽 | = | 相馬の古内裏 |
| ② 歌川広重 | = | 名所江戸百景 |
| ③ 歌川国芳 | = | 東海道五十三次 |
| ④ 葛飾北斎 | = | 富嶽三十六景 |
| ⑤ 喜多川歌麿 | = | 三世大谷鬼次の奴江戸兵衛 |

19

(6) 日本の食に関する次の記述のうち正しいものはどれか。次の①～⑤から二つ選びなさい。

(2 点×2=4 点)

- ① 「魚沼産こしひかり」は日本穀物検定協会による「2017 年産米の食味ランキング」で、29 年間連続で最高位である「特 A」を獲得した。
- ② 日本食肉格付協会による牛肉の格付けでは、歩留等級 (A～C の 3 等級) と肉質等級 (1～5 の 5 等級) により格付けされるが、最高ランクは「A5」である。
- ③ 国税庁の「清酒の製法品質表示基準」による特定名称酒で吟醸酒とは米、米こうじを原料とし醸造アルコールを用いないものをいう。
- ④ 2018 年の築地市場の「初競り」では、青森県大間産のクロマグロ (405 キロ) が 1 匹 3,645 万円の最高値で競り落とされた。
- ⑤ 精進料理とは修行中の僧侶が日常の食としている料理が始まりとされ、使用する食材は野菜と魚のみで肉は使用しない。

20

一般常識—1 (解答番号 ~) 平成 29 年度

各問題に対する解答は配付したマークシートの解答欄にマークすること。例えば と表示のある問題に対して④と解答する場合は、解答番号 の解答欄の④にマークすること。

1 訪日外国人旅行者に関する次の各問に対して、それぞれ答えなさい。

- (1) 2016年の訪日外国人旅行者数は過去最高を記録したが、人数と国・地域について次の問いに答えなさい。

問1 2016年の訪日外国人旅行者数は約何万人であったか。次の①～④の中から一つ選びなさい。

(3点)

- ① 404 ② 1,404 ③ 2,404 ④ 3,404

問2 2016年に訪日外国人が多かった国・地域を多い順に並べた組み合わせはどれか。次の①～④の中から一つ選びなさい。

(3点)

- ① 中国、韓国、台湾 ② 韓国、中国、米国
③ 中国、台湾、米国 ④ 韓国、台湾、中国

- (2) 2015年はインバウンド（訪日外国人）がアウトバウンド（日本人海外旅行者）を上回ったエポックメイキングな年となったが、これは大阪で（ア）が開催された（イ）年以来のことである。

問1 空欄（ア）に当てはまる適切な語句を次の①～④から一つ選びなさい。

(3点)

- ① ユニバーシアード ② アジア競技大会 ③ 万国博覧会 ④ 花の万博

問2 空欄（イ）に当てはまる適切な数字を次の①～④から一つ選びなさい。

(3点)

- ① 1950 ② 1960 ③ 1970 ④ 1980

- (3) 観光庁の調査では、2016年の訪日外国人旅行消費額のうち、一番大きい費目は（ア）であった。また一人当たり旅行支出がもっとも高かった国は（イ）であった。

問1 空欄（ア）に当てはまる適切な語句を次の①～④から一つ選びなさい。

(3点)

- ① 買物代 ② 宿泊料金 ③ 交通費 ④ 飲食費

問2 空欄（イ）に当てはまる適切な国名を次の①～④から一つ選びなさい。

(3点)

- ① 米国 ② 中国 ③ 韓国 ④ オーストラリア

(4) 訪日外国人誘致を促進している観光庁と日本政府観光局 (JNTO) について、次の問いに答えなさい。

問 1 観光庁と日本政府観光局 (JNTO) は 2017 年度の具体的施策のひとつとして MICE の誘致の促進を掲げている。MICE とは多くの集客が見込まれるビジネス関連の総称を意味し、それらの英語の頭文字を並べたものだが、通常 M はミーティング、I はインセンティブ (ツアー)、C はカンファレンス・コンベンションを表し、E は (ア) ・イベントを表す。

空欄 (ア) に当てはまる適切な語句を次の①~④の中から一つ選びなさい。 (2 点)

- ① エコノミクス ② **エキシビジョン** ③ エキサイトメント ④ エクスカーション

問 2 観光庁の 2016 年の訪日外国人消費動向調査において、訪日外国人客が日本滞在中にしたこととして、1 番多かったのは (ア)、2 番目がショッピング、3 番目が (イ) であった。(ア) と (イ) に当てはまる組み合わせのうち正しいものはどれか。次の①~④の中から一つ選びなさい。 (2 点)

- ① ア. 「日本の酒を飲むこと (日本酒・焼酎等)」 イ. 「自然・景勝地観光」
② ア. 「旅館に宿泊」 イ. 「温泉入浴」
③ ア. 「日本の日常生活体験」 イ. 「テーマパーク」
④ **ア. 「日本食を食べること」** イ. 「繁華街の街歩き」

2 日本人の海外旅行に関する次の各問に対して、それぞれ答えなさい。

(1) 2016 年に海外旅行に出かけた日本人は約 (ア) 万人であった。日本人の旅行先のトップは 2015 年の統計で (イ) であった。

問 1 空欄 (ア) に当てはまる適切な数字を次の①~④から一つ選びなさい。 (3 点)

- ① 712 ② **1,712** ③ 2,712 ④ 3,712

問 2 空欄 (イ) に当てはまる適切な国・地域を次の①~④から一つ選びなさい。 (3 点)

- ① 韓国 ② 中国 (香港・マカオを除く) ③ 台湾 ④ **米国 (ハワイを含む)**

3 国立公園に関する次の各問に対して、それぞれ答えなさい。

(1) 2016 年に全国 33 カ所の国立公園を訪れた訪日外国人は約 (ア) 万人で、そのうち最も多かったのは (イ) 国立公園で、約 258 万人であった。

問 1 空欄 (ア) に当てはまる適切な数字を次の①~④から一つ選びなさい。 (3 点)

- ① 346 ② 446 ③ **546** ④ 646

問 2 空欄 (イ) に当てはまる適切な語句を次の①~④から一つ選びなさい。 (3 点)

- ① 日光 ② **富士箱根伊豆** ③ 支笏洞爺 ④ 伊勢志摩

(2) 次の記述のうち、正しいものはどれか。次の①～⑤から一つ選びなさい。 (3点)

- ① 大雪山国立公園は、北海道東部に位置し、千島火山帯の活動によってできた屈斜路・摩周のカルデラ地形を基盤とし、火山と森と湖が織りなす豊かな原始的景観を有する公園である。
- ② 日光国立公園は、公園区域の大半が那須火山帯に属する山岳地で北関東最高峰の白根山、噴気活動が続いている那須岳等が分布し、山麓には高原が広がりその中に湖沼や瀑布、溪谷が彩りを添えている。
- ③ 尾瀬国立公園は、主峰の御前峰を中心に形成される山頂部とその付近にある千蛇ヶ池など 7 つの火口湖があいまって優美な火山風景を展開しており、250 種もの高山植物が見られ、原生的な自然環境が保たれている。
- ④ 南アルプス国立公園は、剣岳、立山などの立山連峰、槍ヶ岳などを有する穂高連峰、最南部にそびえる乗鞍岳など 3000m 級の山々で構成され、わが国を代表する傑出した山岳景観を呈している。
- ⑤ 奄美群島国立公園は、亜熱帯性照葉樹林、マングローブ林、サンゴ礁などの亜熱帯特有の自然環境が特徴であり、公園内には、隆起サンゴ礁の島で沖縄特有の街並みが保存されている竹富島がある。

4 世界遺産に関する次の各問に対して、それぞれ答えなさい。

(1) 日本における世界遺産の数は、2016 年国立西洋美術館本館が加わり、2016 年末現在 20 を数える。

問 1 次の世界遺産のうち、文化遺産はどれか。①～④の中から一つ選びなさい。 (3点)

- ① 富士山 ② 知床 ③ 屋久島 ④ 白神山地

問 2 2015 年には明治日本の産業革命遺産—製鉄・製鋼、造船、石炭産業が世界遺産に登録された。登録内容に含まれるものは次のどれか。次の①～④から一つ選びなさい。 (3点)

- ① 釜山反射炉と萩反射炉 ② 佐渡金山と土肥金山
- ③ 夕張炭鉱と芦別炭鉱 ④ 適塾と閑谷学校

(2) ユネスコ無形文化遺産について以下の問いに答えなさい。

問 1 2016 年には日本の (ア) が登録された。

空欄 (ア) に当てはまる適切な語句を次の①～④から一つ選びなさい。 (3点)

- ① 山・鉾・屋台行事 ② 来訪神・仮面・仮装の神々
- ③ 和食：日本人の伝統的な食文化 ④ 和紙：日本の手漉和紙技術

(3) 2016 年 7 月に世界文化遺産に登録された「ル・コルビュジエの建築作品—近代建築運動への顕著な貢献—」に関する問に答えなさい。

問 1 ル・コルビュジエに師事し、日本のモダニズム建築の巨匠と呼ばれ、東京文化会館など多数の公共建築を設計した建築家は誰か。次の①～⑤から一つ選びなさい。 (3点)

- ① 前川國男 ② 谷口吉郎 ③ 坂倉準三 ④ 丹下健三 ⑤ 黒川紀章

5 日本の交通運輸機関に関する次の各問に対して、それぞれ答えなさい。

- (1) 昨今、鉄道の手段が単なる移動だけではなくて、クルーズトレインと呼ばれる観光要素も取り入れた豪華な車両が投入されるようになった。2017年5月にはJR東日本が(ア)を、6月にはJR西日本が(イ)を運行開始した。

問1 空欄(ア)に当てはまる適切な語句を次の①～④から一つ選びなさい。(3点)

- ① 四季島 ② カシオペア ③ ななつ星 ④ サンライズ 18

問2 空欄(イ)に当てはまる適切な語句を次の①～④から一つ選びなさい。(3点)

- ① 瑞風(ミズカゼ) ② 瑞鳳(ズイホウ)
③ 瑞陵(ズイリョウ) ④ 瑞穂(ミズホ) 19

- (2) 2016年の訪日クルーズ旅客数は前年比78.5%増の約(ア)万人を記録した。クルーズ船の寄港回数は前年比38.8%増の2,018回となり、いずれも過去最高を記録した。また港湾別の寄港回数は、第1位が博多港で328回であった。(3点)

問1 空欄(ア)に当てはまる適切な数字を次の①～④から一つ選びなさい。

- ① 100 ② 199 ③ 599 ④ 1000 20

6 日本の産業と経済に関する次の各問に対して、それぞれ答えなさい。

- (1) 日本たばこ産業(JT)は2017年の国内たばこ販売数量は960億本になりそうだと発表した。これは1985年の民営化以降、初めて1000億本の台を切ることになる。日本人の喫煙者率は2016年に同社が行った調査で(ア)%と過去最低になり、ますますたばこ離れが進んでいる。たばこ離れは世界的傾向であり、各国で規制も強化されている。シンガポールでは持ち込みたばこに対しては1本から税金が掛けられ、香港ではたばこの免税持ち込みは19本となっている。

問1 空欄(ア)に当てはまる適切な数字を次の①～④から一つ選びなさい。(3点)

- ① 9.3 ② 19.3 ③ 29.3 ④ 39.3 21

- (2) 2016年12月、統合型リゾート(IR)整備推進法(カジノ法)案が衆院本会議で可決、成立した。

問1 カジノまたはギャンブルに関する次の記述のうち正しいものはどれか。

次の①～④から一つ選びなさい。(2点)

- ① 2014年の厚生労働省の発表によると、日本にはギャンブル依存症が100万人いると推定されている。
② シンガポールは依存症や治安悪化を抑えるためにカジノへの自国民の入場を禁止している。
③ 日本の公営ギャンブルの売上高は2014年の統計で約23兆円であった。
④ 日本中央競馬会を管轄する省は農林水産省である。 22

- (3) 毎年恒例の東京・築地市場のマグロの初セリ。2017年の最高落札額は (ア) 万円の値がついた。初セリでは2012年から6年連続で (イ) 産のマグロが最高値を記録している。

問1 空欄 (ア) に当てはまる適切な数字を次の①~④から一つ選びなさい。 (2点)

- ① 420 ② 7,420 ③ 14,420 ④ 21,420 23

問2 空欄 (イ) に当てはまる適切な産地を次の①~④から一つ選びなさい。 (2点)

- ① 気仙沼 ② 大船渡 ③ 戸井 ④ 大間 24

- (4) 2017年6月に「住宅宿泊事業法 (民泊新法)」が成立した。いわゆる民泊は、シェアリングエコノミーに類するもので、訪日外国人の激増に伴うホテル不足を解消する手段として注目されている。一方、既存の旅館・ホテル業界との軋轢も存在しており、施行に向けてさらに詳細が煮詰められるところである。住宅宿泊事業法について以下の問いに答えなさい。

問1 住宅宿泊事業法では、年間の営業日数の上限を何日と定めているか。正しいものを次の①~④から一つ選びなさい。 (3点)

- ① 30日 ② 60日 ③ 90日 ④ 180日 25

問2 国家戦略特別区域では、旅館業法の適用を受けず条例により一般の住宅を特区民泊として宿泊業に活用することが可能になった。これにより (ア) は2016年2月に全国で初めて特区民泊を認定した。さらに同年4月には (イ) でも特区民泊を認定した。

空欄 (ア) (イ) に当てはまる地域の組み合わせとして正しいものを次の①~④から一つ選びなさい。 (3点)

- ① ア=東京都台東区 イ=石川県 ② ア=東京都大田区 イ=大阪府
③ ア=京都府 イ=東京都中央区 ④ ア=沖縄県 イ=東京都渋谷区 26

問3 次の記述のうち正しいものを次の①~④から一つ選びなさい。 (3点)

- ① 旅館業法の所轄官庁は国土交通省である。
② 住宅宿泊事業法では、事業者は都道府県知事の認可が必要である。
③ 旅館業法では、宿泊日数制限はないが住宅宿泊事業法では2泊3日以上としている。
④ 住宅宿泊事業者は、届出住宅ごとに、公衆の見やすい場所に、国土交通省令・厚生労働省令で定める様式の標識を掲げなければならない。 27

7 日本の文化に関する次の各文章を読み、それぞれの問いに答えなさい。

- (1) 2016年8月に公開された新海誠監督のアニメーション映画「君の名は。」に関する下記の問いに答えなさい。

問1 この映画の日本国内での興行収入は約249億円 (2017年5月7日現在) で歴代邦画興行収入ランキングの第2位であるが、日本国内での興行収入第1位の宮崎駿監督のアニメーション映画はどれか。次の①~⑤から一つ選びなさい。 (2点)

- ① ハウルの動く城 ② 千と千尋の神隠し ③ もののけ姫
④ 崖の上のポニョ ⑤ 風立ちぬ 28

問 2 この映画の音楽を担当したロックバンドはどれか。次の①～⑤から一つ選びなさい。(2点)

- ① X JAPAN ② indigo la End ③ ONE OK ROCK
 ④ RADWIMPS ⑤ OKAMOTO'S

29

問 3 この映画の主人公の男子高校生・瀧が山深い田舎町に住む女子高生・三葉を探して列車で辿り着く場面にイメージとして登場する JR の駅はどれか。次の①～⑤から一つ選びなさい。(2点)

- ① 只見線会津柳津駅 ② 中央本線木曾福島駅 ③ 高山本線飛騨古川駅
 ④ 伯備線備中高梁駅 ⑤ 豊肥本線豊後竹田駅

30

(2) 東京オリンピックに関する次の間に答えなさい。

問 1 2016年8月にリオデジャネイロで開催された IOC 総会で 2020年の東京オリンピックで実施される追加5種目の競技が決定した。野球/ソフトボール、空手以外の3種目はどれか。次の①～⑩から三つ選びなさい。(3点、完全解答)

- ① スカッシュ ② ボウリング ③ ライフセービング
 ④ スポーツクライミング ⑤ フライングディスク ⑥ アメリカンフットボール
 ⑦ 武術 ⑧ サーフィン ⑨ ラクロス ⑩ スケートボード

31

(3) 歌舞伎に関するそれぞれの間に答えなさい。

問 1 歌舞伎の舞台に関する次の記述のうち、空欄ア、イ、ウに該当する語句の組合せで正しいものはどれか。次の①～④から一つ選びなさい。(3点)

客席から舞台に向かって右手を上手、左手を下手とよぶ。舞台上手の(ア)は、「竹本」が語られる場所で、前面には「御簾」がつけられている。下手の「黒御簾」は黒い板で囲まれた小さな部屋で、「長唄」が歌われたり、太鼓・鼓などの楽器が演奏されたりする。舞台上手と下手にある2本の柱は(イ)といい、黒く塗られているが、背景を描いた大道具によって覆われて見えない場合もある。2本の柱の間の舞台部分は「本舞台」と呼ばれ、舞台中央の床を大きく丸く切り取り、その部分を回転させる舞台機構を廻り舞台という。「花道」は舞台の下手から直角にのびて客席の中を通り、俳優の出入りに利用される。(ウ)は舞台から見て「花道」の突き当たりにかかっている幕で、通常その劇場の紋が染め抜かれている。

- ① ア. 御簾 イ. 将軍柱 ウ. 定式幕
 ② ア. 床 イ. 将軍柱 ウ. 定式幕
 ③ ア. 御簾 イ. 大臣柱 ウ. 揚幕
 ④ ア. 床 イ. 大臣柱 ウ. 揚幕

32

問 2 次のことばの組合せのうち、すべてが歌舞伎を語源とすることばの組合せはどれか。①～⑤から一つ選びなさい。(2点)

- ① 大一番、十八番(おはこ) ② 序の口、大詰め ③ 二枚目、トリ
 ④ 千両役者、真打 ⑤ 裏方、黒幕

33

(4) 伝統工芸に関するそれぞれの間に答えなさい。

問 1 次の伝統工芸品に関する記述のうち正しいものはどれか。①～④から一つ選びなさい。(2点)

- ① 結城紬は茨城県と栃木県で生産される絹織物で、ユネスコの無形文化遺産に登録されている。
- ② 小千谷縮は新潟県で生産される絹織物で、ユネスコの無形文化遺産に登録されている。
- ③ 西陣織は京都府で生産される絹織物の白布に手描きや型を用いて絵を描き染め出した染色品で、経済産業省指定の伝統工芸品である。
- ④ 芭蕉布はガジュマルからとれる繊維を材料とする織物で、沖縄県大宜味村喜如嘉の芭蕉布は国の重要無形文化財に指定されている。

34

問 2 経済産業省が指定した伝統的工芸品の組合せのうち三つとも同一都道府県で製造されている組合せはどれか。次の①～⑤から一つ選びなさい。(2点)

- ① 置賜紬 南部鉄器 天童将棋駒
- ② 加賀友禅 輪島塗 村上木彫堆朱
- ③ 美濃焼 飛騨春慶 一位一刀彫
- ④ 萩焼 熊野筆 大内塗
- ⑤ 博多織 久留米絣 唐津焼

35

問 3 2017年4月に「きっと恋する六古窯—日本生まれ日本育ちのやきもの産地」が新たに日本遺産として認定された。六古窯のうち瀬戸焼(愛知県)、越前焼(福井県)、丹波焼(兵庫県)以外の三古窯はどれか。次の①～④から一つ選びなさい。(3点)

- ① 常滑焼(愛知県) 信楽焼(滋賀県) 備前焼(岡山県)
- ② 益子焼(栃木県) 常滑焼(愛知県) 有田焼(佐賀県)
- ③ 九谷焼(石川県) 備前焼(岡山県) 有田焼(佐賀県)
- ④ 益子焼(栃木県) 九谷焼(石川県) 信楽焼(滋賀県)

36

問 4 次の日本遺産の主旨と目的についての記述のうち、正しいものはどれか。①～④から一つ選びなさい。(3点)

- ① 日本遺産は歴史的経緯や、地域の風土に根ざした世代を超えて受け継がれている伝承、風習などを踏まえたストーリーの下に有形・無形の文化財をパッケージ化するものである。
- ② 原則として、情報発信事業を含め、各自治体は、政府の支援を受けることなく自立的に活性化の取組を行う必要がある。
- ③ 日本遺産として認定されるストーリーは、複数の市町村にまたがって展開される「シリアル型」でなければならない。
- ④ 日本遺産として内外に発信していくために、認定件数には制限を設けない方針である。

37

各問題に対する解答は配付したマークシートの解答欄にマークすること。例えば と表示のある問題に対して⑤と解答する場合は、解答番号 の解答欄の⑤にマークすること。

1 次の各文章を読み、それぞれの問いに答えなさい。

(1) 2015年の訪日外国人旅行の特徴は、訪日外国人旅行者数が日本人の海外旅行者数を上回る年となったことである。

また、訪日外国人旅行者による日本国内消費総額も増加しており、2014年の日本の(ア)の輸出総額にほぼ等しい約3.5兆円の水準となった。背景には免税制度の緩和施策があり、今後の一層の増加を予測して、消費税に加え(イ)が免除される空港型市中免税店と呼ばれる商業施設が東京にオープンした。その他には、(a)訪日外国人旅行者の関心が観光地から日本の文化や生活に移ったこと、(b)イスラム諸国からの旅行者が増加したことも挙げられる。

問1 空欄(ア)に当てはまる適切な語句を次の①~⑤から一つ選びなさい。(3点)

- ① プラスチック ② 自動車部品 ③ 船舶 ④ 二輪自動車 ⑤ 食料品

問2 空欄(イ)に当てはまる適切な語句を次の①~⑤から一つ選びなさい。(3点)

- ① 酒税・たばこ税・関税 ② 関税 ③ 酒税・たばこ税
④ 関税・酒税 ⑤ 関税・たばこ税

問3 下線部(a)に関連して日本のポップカルチャーの同人誌即売会である「コミックマーケット」が、1996年以降毎年開催されているイベント会場を次の①~⑤から一つ選びなさい。(2点)

- ① インテックス大阪 ② 幕張メッセ ③ パシフィコ横浜
 ④ 東京ビッグサイト ⑤ 神戸国際展示場

問4 下線部(b)に関連して、イスラム教徒が食べても良いとされる料理・食品等を表現する語句を次の①~⑤から一つ選びなさい。(2点)

- ① コーシェル ② ハラル ③ アッサラーム
④ ベジタリアン ⑤ ラマダーン

問5 下線部(b)に関連して、イスラム教徒がメッカに向かって祈る方向を示す語句を、次の①~⑤から一つ選びなさい。(2点)

- ① アザーン ② ハッジ ③ ヒジャブ ④ キブラ ⑤ ザカート

(2) 映画・アニメ制作活動を誘致し、効率的にロケなどの活動を支援することによって観光振興を図る組織を(ア)という。タイで封切られた映画「タイムライン」で紹介された佐賀県は、放映後タイからの旅行者が増加した。

空欄(ア)に当てはまる語句を次の①~⑤から一つ選びなさい。(2点)

- ① シネマ・アシスタンス
② フィルム・センター
 ③ フィルム・コミッション
④ サテライト・シューティング
⑤ シネマ・ショット

(3) 環太平洋パートナーシップ (TPP) 協定は、(a)太平洋を取り巻く国々間でのより一層の貿易拡大を目指して交渉が継続されていたが、2015 年 10 月のアトランタ閣僚会合で大筋合意に至り、各国の承認を受けて発効する予定である。日本政府は、コメ、牛肉・豚肉、乳製品、サトウキビなど甘味資源作物と(b)を農作物重要 5 品目として交渉を行ってきた。

問 1 下線部(a)に関して、大筋合意の段階で協定に加わっていない国を次の①～⑤から一つ選びなさい。(3 点)

- ① チリ ② ブルネイ ③ 韓国 ④ ペルー ⑤ マレーシア

問 2 (b)にあてはまる適切な語句を次の①～⑤から一つ選びなさい。(3 点)

- ① キャベツ ② ジャガイモ ③ とうもろこし ④ 麦 ⑤ 大豆

(4) わが国の選挙制度に関するそれぞれの設問に答えなさい。

問 1 2015 年 6 月に公職選挙法が改正され選挙権が与えられる年齢が満 18 歳以上に引き下げられたが、わが国の選挙権の変遷に関する次の記述のうち、 および に入る語句の組み合わせで正しいものはどれか。次の①～④から一つ選びなさい。(3 点)

1889 年 (明治 22 年) に制定された衆議院議員選挙法では で直接国税 15 円以上納入の男子に選挙権が与えられた。その後 2 回にわたって納税要件が緩和されたのち の改正で納税要件は撤廃され男子の普通選挙制が成立した。戦後の 1945 年 (昭和 20 年) の改正では、はじめて女性に選挙権が与えられるとともに選挙権が与えられる年齢も満 20 歳以上に引き下げられた。

- ① A=満 25 歳以上 B=1925 年 (大正 14 年)
② A=満 30 歳以上 B=1935 年 (昭和 10 年)
③ A=満 25 歳以上 B=1935 年 (昭和 10 年)
④ A=満 30 歳以上 B=1925 年 (大正 14 年)

問 2 衆議院議員選挙に関する記述のうち、誤っているものはどれか。次の①～④から一つ選びなさい。(3 点)

- ① 衆議院議員の任期は 4 年であるが、衆議院解散の場合にはその期間満了前に任期は終了する。
② 衆議院解散による総選挙は、解散の日から 40 日以内に行われる。
③ 衆議院議員選挙の小選挙区制は 1 選挙区から 1 名を選出する制度で選挙区数は 295 である。
④ 衆議院議員選挙の比例代表制は 11 の比例代表選挙区 (比例代表ブロック) ごとに定数が定められており総数は 200 である。

問 3 参議院議員選挙に関する記述のうち、誤っているものはどれか。次の①～④から一つ選びなさい。(3 点)

- ① 参議院議員の任期は 6 年で、3 年ごとに半数を改選する。
② 日本国民で満 30 歳以上の者は参議院議員の被選挙権を有する。
③ 参議院議員の定数は選挙区選出の議席が 146、比例代表選出の議席が 96 で総数は 242 である。
④ 比例代表選出の当選人は政党その他の政治団体が届け出た名簿に付された当選人となるべき順位による。

(5) 日本国憲法の改正手続きに関する下記の問いに答えなさい。

問 1 「日本国憲法第 96 条」に規定されている憲法改正の手続きに関する次の記述のうち、A および B に入る語句の組み合わせで正しいものはどれか。次の①～④から一つ選びなさい。(3 点)

各議院の総議員の A の賛成で、国会が、これを発議し、国民に提案してその承認を経なければならぬ。この承認には、特別の国民投票又は国会の定める選挙の際行われる投票において、その B の賛成を必要とする。

- ① A=三分の二以上 B=三分の二以上
- ② A=三分の二以上 B=過半数
- ③ A=過半数 B=過半数
- ④ A=過半数 B=三分の二以上

12

2 観光に関連する次の各問について、それぞれの問いに答えなさい。

(1) 外国人観光案内所は、訪日外国人旅行者がより安心して旅行してもらうための施設として設置されており、提供するサービス内容により区分があるが、次の①～⑤の記述のうち、誤っているものを一つ選びなさい。(3 点)

- ① 認定された外国人観光案内所は、すべての都道府県に分布している。
- ② カテゴリー3の施設は、フルタイムで少なくとも英語で対応可能なスタッフが常駐し、その上で英語を除く2以上の外国語による対応が常時可能で、日本全国の観光情報の提供を行う。
- ③ カテゴリー2の施設は、フルタイムで少なくとも英語で対応可能なスタッフが常駐し、近隣の地域を含めた広域の観光情報を提供する。
- ④ カテゴリー1の施設は、常駐でなくとも何らかの方法で英語対応可能で、地域内の情報を提供する。
- ⑤ カテゴリー1, 2, 3の施設の運営主体は、法人、地方自治体、ボランティア団体である。

13

(2) 政府は訪日外国人旅行者数のさらなる増加を目指し、これまでに数次ビザの発給開始、要件緩和、有効期間の延長など様々な形でビザ発給の戦略的緩和を行っている。

2015年にわが国が新たに数次ビザの発給を開始した国の組み合わせとして正しいものはどれか。次の①～④から一つ選びなさい。(3 点)

- ① フィリピン・ベトナム
- ② ブラジル・モンゴル
- ③ オーストラリア・シンガポール
- ④ タイ・マレーシア

14

- (3) わが国の宿泊施設の客室稼働率は訪日外国人旅行者の増加等に伴い上昇傾向にあり、全国平均で 2011 年の 51.8%から 2015 年には 60.5%となっており、東京、大阪では 80%を超える等、施設不足が顕在化している。宿泊施設タイプ別客室稼働率を見てみると、ホテルに比べ旅館の稼働率は低水準に止まっており、特に外国人旅行者の利用が進んでいない。

(観光庁 平成 28 年宿泊旅行統計調査 (第 1 次速報値) より)

- 問 1 2015 年度の旅館の客室稼働率及び外国人宿泊割合の組み合わせとして正しいものはどれか。次の①～④から一つ選びなさい。(3 点)

客室稼働率	外国人宿泊割合
-------	---------

- | | |
|--------|--------|
| ① 20%台 | 15～20% |
| ② 30%台 | 5～10% |
| ③ 40%台 | 0～5% |
| ④ 50%台 | 10～15% |

15

- 問 2 2015 年において、次の①からの⑤のなかで外国人旅行者が延宿泊者数で一番多かった都道府県を一つ選びなさい。(2 点)

- ① 北海道 ② 千葉県 ③ 静岡県 ④ 京都府 ⑤ 沖縄県

16

- (4) 2015 年の日本の経常収支に関する記述のうち、正しいものはどれか。次の①～⑤から一つ選びなさい。(3 点)

- ① 年間の旅行収支は、黒字であった。
 ② 年間の貿易収支は、黒字であった。
 ③ 年間のサービス収支は、黒字であった。
 ④ 年間の第一次所得収支の赤字は直近 10 年間で最大であった。
 ⑤ 年間の経常収支の黒字は直近 10 年間で最少であった。

17

- (5) 盆踊りの行事に関する記述のうち、正しいものはどれか。次の①～④から一つ選びなさい。(3 点)

- ① 岐阜県郡上市で行われる「郡上おどり」は、5月中旬から9月上旬にかけて連日観光客も地元の人と一緒に踊る、日本一のロングランの盆踊りである。
 ② 各地の盆踊りで使われることの多い炭坑節は、北海道夕張の炭鉱で歌い始められた民謡である。
 ③ 徳島県で8月に実施される阿波おどりでは、「連」と呼ばれる踊り手の集団が踊り歩く。県内各地で行われるが、もっとも規模が大きく盛り上がりを見せるのは、徳島市の阿波踊りである。
 ④ 沖縄の盆踊りともいえるエイサーは大小さまざまな太鼓を打ちながら地域内を練り歩く行事で、沖縄各地で行われるが、いずれも参加者は全員男性である。

18

- (6) 経済産業省が認定した近代化産業遺産群の構成遺産に関する記述のうち、正しいものはどれか。次の①～④から一つ選びなさい。(3点)

- ① 群馬県富岡市にある富岡製糸場は、日本初の本格的な器械製糸工場で、日本の近代化だけでなく、世界的な絹産業の技術革新・交流などにも大きく貢献した、世界文化遺産富岡製糸場と絹産業遺産群を構成する資産の一つである。
- ② 栃木県日光市にある足尾銅山は、江戸時代初期に採掘を開始し、20世紀初頭には日本の銅産出量の40%を占める繁栄を誇ったが、1945年に閉山し、「足尾銅山跡」として国の史跡に指定されている。
- ③ 神奈川県横浜市にある横浜赤レンガ倉庫は昭和初期に建設された横浜港の保税倉庫で、現在一号館は文化施設、二号館は商業施設となり、みなとみらい地区の代表的な観光施設となっている。
- ④ 福岡県北九州市の JR 門司港駅は門司港レトロエリアの代表的建築。1891年築のネオ・ルネッサンス調鉄筋コンクリート建築で、駅舎としては初めて国の重要文化財に指定された。

19

- (7) 2015年に日本遺産として初めて18件が指定されたが、そのうちのひとつ「近世日本の教育遺産群—学ぶ心・礼節の根源—」に含まれないものはどれか。次の①～④から一つ選びなさい。(2点)

- ① 旧弘道館(茨城県水戸市) ② 足利学校跡(栃木県足利市)
- ③ 湯島聖堂(東京都文京区) ④ 旧閑谷学校(岡山県備前市)

20

3 交通機関に関する次の各問について、それぞれ答えなさい。

- (1) 2016年3月北海道新幹線が開業し、東京駅と新函館北斗駅間を最速 a で結び、2011年3月に全線開業した九州新幹線鹿児島ルートと合わせ、九州から北海道まで新幹線網でつながることとなった。

空欄 a の新幹線が東京駅・新函館北斗駅間に要する時間について正しいものを選びなさい。

(2点)

- ① 2時間42分 ② 3時間32分 ③ 4時間2分 ④ 5時間52分

21

- (2) JAPAN RAIL PASS の利用に関する記述のうち正しいものはどれか。次の①～⑤から一つ選びなさい。(3点)

- ① 利用者は、外国から「短期滞在」の入国資格により観光目的で日本を訪れる外国人旅行者に限られる。
- ② JR グループ全線及び全列車(新幹線、特急列車、急行列車、快速列車、普通列車及びBRT)に乘車することが出来る。
- ③ JR と直通運転を行っている踊り子号、スーパーはくと号に乘車することができるが、JR 以外の区間は別途運賃・料金が必要である。
- ④ 特急列車に乘車する場合は、「みどりの窓口」等で指定席券、自由席券の交付を必ず受けなければならない。
- ⑤ JR バス各社のすべての高速バス路線区間に乘車することができる。

22

(3) 日本に乗り入れる LCC の増加に伴い、成田国際空港では 2015 年に LCC 専用の第 3 ターミナルを開設し、2016 年 4 月現在、ジェットスター航空、ジェットスター・ジャパン、バニラエア、春秋航空日本(Spring Japan)、(ア)の各航空会社が発着している。

空欄 (ア) に当てはまる適当な語句を次の①～⑤から一つ選びなさい。 (2 点)

- ① ピーチアビエーション ② スクート **③ チェジュ航空**
 ④ エアプサン ⑤ イースター航空

23

4 日本の自然や動植物に関する次の各問について、それぞれ答えなさい。

(1) 全国各地の桜に関する次の記述のうち誤っているものはどれか。次の①～④から一つ選びなさい。 (3 点)

- ① 河津桜とは、静岡県賀茂郡河津町で 2 月上旬～3 月上旬頃に咲く早咲きの桜で、花が大きく濃いピンク色であることが特徴である。
- ② 秋田県仙北市角館町は、桜の名所として知られているが、歴史ある武家屋敷と桜並木が美しく、全国京都会議加盟の小京都のひとつに数えられている。国の天然記念物に指定されている枝垂桜も多く、毎年桜の時期には多くの観光客でにぎわう。
- ③ 京都平安神宮の紅しだれ桜は、世界的文豪にも愛されており、谷崎潤一郎の「細雪」や森鷗外の「古都」にも描かれていることで知られている。**
- ④ 桜の開花宣言の判断の基準となるのは、全国の气象台や神社・公園などに植えられた標準木で 5～6 輪以上の花が咲いた状態になったときとされており、観測の対象となる標準木の種類はソメイヨシノである。

24

(2) 公益財団法人日本さくらの会が制定した「日本さくら名所 100 選」のうち東北地方に所在するものだけを組み合わせているものはどれか。次の①～④から一つ選びなさい。 (3 点)

- ① 千秋公園 鶴ヶ城公園 鶴岡公園**
 ② 高遠城址公園 千光寺公園 琴弾公園
 ③ 鶴ヶ城公園 吉野山 烏帽子山公園
 ④ 弘前公園 高遠城址公園 千光寺公園

25

(3) 野生動物の生息地とその地が属する国立公園の組み合わせで正しいものはどれか。次の①～④から一つ選びなさい。 (3 点)

- ① 北アルプス (ニホンライチョウ) — 尾瀬国立公園
② 地獄谷野猿公苑 (ニホンザル) — 上信越高原国立公園
 ③ 南アルプス (ニホンカモシカ) — 屋久島国立公園
 ④ 高崎山自然動物園 (ニホンザル) — 阿蘇くじゅう国立公園

26

(4) 世界的に又は国家的に価値が特に高いものとして文化財保護法により 75 件が国の特別天然記念物に指定されているが、次のうち特別天然記念物に指定されていないものはどれか。①～④から一つ選びなさい。(3点)

- ① 釧路湿原 (北海道) に生息するタンチョウ
- ② 瓢湖 (新潟県) に渡来するハクチョウ
- ③ 立山 (富山県) に生息するライチョウ
- ④ 出水平野 (鹿児島県) に渡来するツル

(5) 外国人観光客にも人気がある、夏から秋にかけて鵜を使って鮎漁をする鵜飼いについて、実施されていない場所はどれか。次の①～④から一つ選びなさい。(3点)

- ① 愛知県犬山市 木曾川
- ② 京都府宇治市 宇治川
- ③ 山形県米沢市 最上川
- ④ 岐阜県岐阜市 長良川

5 日本の食品、農業に関する次の各問について、それぞれ答えなさい。

(1) 日本食が世界各地で話題となっているが、これに伴い日本食材の海外輸出に関心が集まっている。2015 年の日本の農林水産物の輸出総額は、約 (ア) であり、国・地域別の輸出先では (イ) が一番多く、輸出金額で最大の品目は (ウ) である。

問 1 空欄 (ア) に当てはまる適当な語句を次の①～⑤から一つ選びなさい。(3点)

- ① 1,500 億円 ② 3,500 億円 ③ 7,500 億円 ④ 1 億円 ⑤ 3 億円

問 2 空欄 (イ) に当てはまる適当な語句を次の①～⑤から一つ選びなさい。(3点)

- ① 米国 ② フランス ③ 韓国 ④ 台湾 ⑤ 香港

問 3 空欄 (ウ) に当てはまる適当な語句を次の①～⑤から一つ選びなさい。(3点)

- ① りんご ② 日本酒 ③ ほたて貝 ④ 醤油 ⑤ しいたけ

(2) 日本穀物検定協会では食味試験により全国各地の産米を 5 段階にランキング付けしているが、平成 27 年度産米のうち最高ランクの特Aにランキング付けされた産米の品種と産地の都道府県の組み合わせのうち二つとも正しいものはどれか。次の①～④から一つ選びなさい。(3点)

- ① みずかがみ—茨城県 はえぬき—山形県
- ② あきさかり—福井県 青天の霹靂—鹿児島県
- ③ ふっくりんこ—青森県 青天の霹靂—鹿児島県
- ④ ななつぼし—北海道 はえぬき—山形県

