

通訳案内士試験＜日本地理＞解答例

問題番号	2014年	2013年	2012年	2011年
1	2	3	3	4
2	4	1	4	1
3	1	4	1	4
4	3	2	1	3
5	3	1	3	2
6	1	3	4	1
7	4	4	3	2
8	1	1	3	3
9	3	4	4	3
10	1	1	1	3
11	3	2	2	2
12	1	4	4	3
13	1	2	1	4
14	3	1	1	1
15	2	4	3	4
16	3	2	1	1
17	4	3	2	4
18	2	2	2	1
19	2	2	4	4
20	1	4	4	4
21	4	3	4	4
22	2	1	2	1
23	1	2	2	3
24	1	4	1	2
25	3	3	3	1
26	2	3	2	4
27	1	2	4	3
28	4	1	4	4
29	1	1	3	2
30	4	4	4	4
31	2	2	1	3
32	3	4	1	2
33	1	3	3	1
34	4	4	1	4
35	3	3	3	4
36	1	1	3	3
37	3	2	2	4
38	2	4	1	3
39	4	3	4	4
40	4	1	3	1
1が正解	13	10	11	10
2が正解	8	10	7	6
3が正解	10	9	11	10
4が正解	9	11	11	14

日本地理—1 (解答番号 ~) 平成 23 年度

各問題に対する解答は配布したマークシートの解答欄にマークすること。例えば と表示のある問題に対して⑤と解答する場合は、解答番号 の解答欄の⑤にマークすること。

1 日本の自然に関する次の文章を読んで、各問いに答えなさい。(各 2 点×10=20 点)

日本はユーラシア大陸の東岸と (1) を挟んで対峙し、ヨーロッパから見れば「極東」と呼ばれるように、大陸の端よりも東に位置している。また、日本は島国で、⁽²⁾その中央には 3,000 メートル級の脊梁山脈が走り、プレート境界に位置するため、地震や⁽³⁾火山活動が多い。島国としての大きな特徴は南北に長く、南は亜熱帯の北緯 20 度、北は亜寒帯の北緯 45 度まで広がっていることである。基本的には、日本は中緯度に位置しているために発生する (4) による大気の流れと、海に囲まれていることの影響を受けて、四季の変化が明瞭にみられ、海洋性気候の特徴を呈している。しかし、南北に長い国土と脊梁山脈の影響で、北日本と西南日本、および太平洋側と日本海側の気候の地域的差異が著しい。例えば、冬に (5) の影響を強く受ける北日本は、緯度の割には寒冷で、積雪も多く、そのことが温暖な西南日本との地域的差異になっている。

また、中緯度に位置していることで、1 年を通じて適度な降水量があり、四季が明瞭である。そのことが、季節ごとに美しい日本の景観をつくる基盤になるとともに、人々の伝統的な生活文化の基底にもなっている。例えば、日本の植生は気候条件を反映して、西日本の (6) と東日本の (7)、および北日本の (8) の 3 つに大きく区分することができる。そして、(7) では樹木が季節の移り変わりとともに、⁽⁹⁾新緑—深緑—紅葉と風景を変えていき、それらの風景が日本の美しさを支えてきた。また、それらの風景に基づいて、田植えや稲刈り、あるいは⁽¹⁰⁾夏祭りや秋祭りなどの年中行事が風物詩として行われ、日本の美しさを特徴づけている。

問 1 (1) に入る地名として、最も適当なものはどれか、次の①～④から選びなさい。

- ① 太平洋 ② 東シナ海 ③ オホーツク海 ④ 日本海

問 2 下線 (2) に関連した山脈として、最も適当なものはどれか、次の①～④から選びなさい。

- ① 飛騨山脈 ② 讃岐山脈 ③ 鈴鹿山脈 ④ 日高山脈

問 3 下線 (3) に関連して、活動している火山として、適当でないものはどれか、次の①～④から選びなさい。

- ① 有珠山 ② 桜島 ③ 三原山 ④ 石鎚山

問 4 (4) に入る語句として、最も適当なものはどれか、次の①～④から選びなさい。

- ① 貿易風 ② 偏東風 ③ 偏西風 ④ 局地風

問 5 (5) に入る語句として、最も適当なものはどれか、次の①～④から選びなさい。

- ① 移動性高気圧 ② シベリア高気圧 ③ 太平洋高気圧 ④ オホーツク海高気圧

問 6 (6)、(7)、(8) に入る植生帯として、最も適当なものはどれか、次の①～④からそれぞれ 1 つずつ選びなさい。

- ① 照葉樹林帯 ② 落葉広葉樹林帯 ③ 常緑針葉樹林帯 ④ 多雨林帯

問 7 下線 (9) に関連して、このような変化がみられる植生として、最も適当なものはどれか、次の①～④から選びなさい。

- ① カシ ② シイ ③ ブナ ④ スギ

問 8 下線 (10) に関連して、日本の夏祭りとして、最も適当なものはどれか、次の①～④から選びなさい。

- ① 京都葵祭 ② 秩父夜祭 ③ 秋田竿燈(灯)祭り ④ 長崎くんち

2 a) から c) は日本の主要な観光地の写真とそれに関するガイドの説明である。それらを参照しながら、各問いに答えなさい。(各 3 点×10=30 点)



a) ここは五箇山といわれる地域で、この地域には独特の家屋形態の民家が多くみられます。このような家屋形態は、①養蚕の作業や②塩硝生産などに、あるいは③積雪の対策や④核家族の暮らしに適応したものでした。この地域は、1995年に伝統的な建造物を中心に世界遺産に登録されました。

問 1 五箇山が位置する県名として、最も適当なものはどれか、次の①～④から選びなさい。

- ① 長野県 ② 富山県 ③ 岐阜県 ④ 石川県

11

問 2 写真に見られる家屋形態として、最も適当なものはどれか、次の①～④から選びなさい。

- ① 寄棟造り ② 入母屋造り ③ 合掌造り ④ 書院造り

12

問 3 五箇山の家屋形態に関するガイドの説明の中で、間違った説明が1つある。それはどれか、説明文の①～④から選びなさい。

13

問 4 五箇山と同様に、文化遺産として世界遺産登録された場所として、最も適当なものはどれか、次の①～④から選びなさい。

- ① 日光 ② 白神山地 ③ 知床半島 ④ 屋久島

14



b) ここはグラバー園です。グラバーは①フランスの貿易商であり、②江戸末期にここに屋敷を構え活躍し、周辺には多くの外国人が居住しました。そのため、外国人居住地に隣接して洋館や③教会が多く建てられています。また、この公園の近くには④中華街があり、異国情緒をたっぷり味わうことができます。

問 5 写真の公園から眺めることができる港として、最も適当なものはどれか、次の①～④から選びなさい。

- ① 函館港 ② 横浜港 ③ 神戸港 ④ 長崎港

15

問 6 グラバー園に関するガイドの説明の中で、間違った説明が1つある。それはどれか、説明文の①～④から選びなさい。

16

問 7 異国情緒の味わいと関連して、この地域が発祥とされる食として、最も適当なものはどれか、次の①～④から選びなさい。

- ① かるかん ② 餃子 ③ ラーメン ④ ちゃんぽん

17



c) この水族館では、世界最大級の大水槽を設置しており、サメや①マンタが悠々と泳ぐ姿は壮観で、水族館周辺の海の様子を観察することができます。周辺の海には、②黒潮が流れているため、多くの魚が回遊しています。また、③サンゴ礁も発達し、そこは多様な海洋生物の棲みかにもなっています。さらに、周辺の④マリアナ海溝の深海にも珍しい海洋生物が生息しています。

問 8 この水族館の名称として、最も適当なものはどれか、次の①～④から選びなさい。

- ① 沖縄美ら海水族館 ② 鳥羽水族館 ③ 下田海中水族館 ④ しながわ水族館

18

問 9 この水族館の目玉である写真のサメの種類として、最も適当なものはどれか、次の①～④から選びなさい。

- ① ホオジロザメ ② ヨシキリザメ ③ ウバザメ ④ ジンベエザメ

19

問 10 水族館に関するガイドの説明の中で、間違った説明が1つある。それはどれか、説明文の①～④から選びなさい。

20

3 日本の農業に関する次の文章を読んで、各問いに答えなさい。(各 2 点×10=20 点)

日本の農業は、それぞれの地域の土地や気候に応じて行われ、それぞれの地域では、地域の特徴を生かした特産物を生み出してきた。例えば、(1) 県のいちご品種の「あまおう」や、(2) 県のさくらんぼ品種の「佐藤錦」は全国的に知られた特産物である。日本の農村において、(3) 日本人の主食である米を生産する稲作は全国各地で行われているが、水の豊かな北陸地方の(4) や東北地方の庄内平野などで特に盛んに行われている。近年では、稲作も(5) それぞれの地域の土地や気候に合うような品種を栽培するようになり、それらの品種は地域の特産物となっている。

野菜栽培は都市近郊で盛んに行われたが、(6) 交通網の整備と輸送手段の向上によって、都市の遠隔地でも野菜が多く栽培されるようになり、野菜栽培の主産地化が全国各地で進んでいる。長野県や群馬県の高冷地では夏季の涼しい気候を利用した野菜生産が盛んになった。例えば、(8) の北麓に広がる群馬県嬭恋村は、「高原キャベツ」の主産地になっている。他方、西南日本の高知県や宮崎県では、冬でも暖かい気候とビニールハウスを利用した野菜の(9) 栽培を行い、高知県では(10)・キュウリ・ナスが、宮崎県でも(10)・キュウリ・トマトが特産物になっている。

問 1 (1) に入る地名として、最も適当なものはどれか、次の①～④から選びなさい。

- ① 栃木 ② 兵庫 ③ 岡山 ④ 福岡 21

問 2 (2) に入る地名として、最も適当なものはどれか、次の①～④から選びなさい。

- ① 山形 ② 山梨 ③ 広島 ④ 大分 22

問 3 下線(3)に関連し、亜熱帯が起源である稲作が日本の南から北まで全国各地に普及した要因として、最も適当なものはどれか、次の①～④から選びなさい。

- ① 道路網の整備 ② 地球温暖化 ③ 品種改良 ④ 他国からの技術導入 23

問 4 (4) に入る地名として、最も適当なものはどれか、次の①～④から選びなさい。

- ① 筑後平野 ② 富山平野 ③ 濃尾平野 ④ 讃岐平野 24

問 5 下線(5)に関連し、米の銘柄とその発祥の地との組み合わせで、最も適当なものはどれか、次の①～④から選びなさい。

- ① 宮城県の「ひとめぼれ」 ② 栃木県の「とちおとめ」 25
③ 新潟県の「ササニシキ」 ④ 北海道の「ハルユタカ」

問 6 下線(6)に関連し、渥美半島で生産されたキャベツを東京市場に輸送する道路網として、最も適当なものはどれか、次の①～④から選びなさい。

- ① 常磐自動車道 ② 東北自動車道 ③ 中央自動車道 ④ 東名高速道路 26

問 7 下線(7)に関連して、野菜とその生産量全国第 1 位(平成 21 年産)の組み合わせとして、最も適当なものはどれか、次の①～④から選びなさい。

- ① 夏秋レタス：群馬県 ② 夏秋キャベツ：愛知県 ③ 春白菜：茨城県 ④ 夏大根：神奈川県 27

問 8 (8) に入る地名として、最も適当なものはどれか、次の①～④から選びなさい。

- ① 富士山 ② 乗鞍岳 ③ 穂高岳 ④ 浅間山 28

問 9 (9) に入る語句として、最も適当なものはどれか、次の①～④から選びなさい。

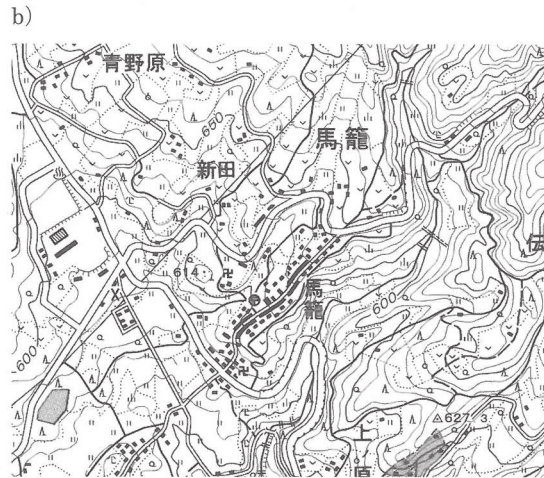
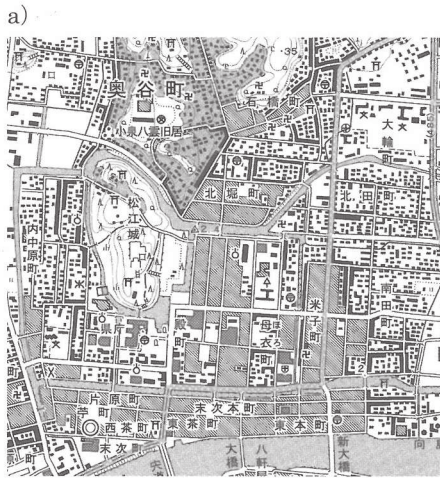
- ① 抑制 ② 促成 ③ 電照 ④ 有機 29

問 10 (10) に入る野菜として、最も適当なものはどれか、次の①～④から選びなさい。

- ① タマネギ ② レタス ③ セロリ ④ ピーマン 30

4 地図 a) と b) は、それぞれ日本の典型的な城下町と宿場町を示している。地図を見ながら各問いに答えなさい。

(各 3 点×10=30 点)



問 1 地図 a) の城下町が位置する都道府県として、最も適当なものはどれか、次の①～④から選びなさい。

- ① 秋田県 ② 石川県 ③ 島根県 ④ 山口県 31

問 2 地図 a) から読み取れる、この城下町の特徴として、適当でないものはどれか、次の①～④から選びなさい。

- ① 平山城 ② 放射状の道路 ③ 内堀と外堀 ④ 計画的な町割り 32

問 3 地図 a) のなかで示された地図記号◎の意味として、最も適当なものはどれか、次の①～④から選びなさい。

- ① 市役所 ② 警察署 ③ 裁判所 ④ 税務署 33

問 4 地図 a) のように、江戸時代の面影を残す城下町など、京都を思わせる古い町並や風情をもつ町は小京都とも呼ばれている。小京都と呼ばれている城下町とそれが位置する都道府県の組み合わせとして、最も適当なものはどれか、次の①～④から選びなさい。

- ① 弘前 (北海道) ② 大野 (富山県) ③ 津山 (鳥取県) ④ 飢肥 (宮崎県) 34

問 5 城そのものが世界遺産の文化遺産に登録されることもある。日本において世界遺産に登録されている城として、最も適当なものはどれか、次の①～④から選びなさい。

- ① 松本城 ② 犬山城 ③ 熊本城 ④ 姫路城 35

問 6 地図 b) の宿場町が位置する都道府県として、最も適当なものはどれか、次の①～④から選びなさい。

- ① 静岡県 ② 山梨県 ③ 岐阜県 ④ 愛知県 36

問 7 地図 b) から読み取れる、この宿場町の特徴として、適当でないものはどれか、次の①～④から選びなさい。

- ① 街村 ② 急傾斜地 ③ 谷筋 ④ 樹形 37

問 8 地図 b) のなかで示された地図記号Ⓜの意味として、最も適当なものはどれか、次の①～④から選びなさい。

- ① 博物館 ② 神社 ③ 寺 ④ 教会 38

問 9 地図 b) の宿場町について、この地を生地とし、ゆかりある文人として知られる人物は誰か、次の①～④から選びなさい。

- ① 志賀直哉 ② 正岡子規 ③ 石川啄木 ④ 島崎藤村 39

問 10 宿場町と旧街道の組み合わせとして、最も適当なものはどれか、次の①～④から選びなさい。

- ① 会津西街道の大内宿 ② 東海道の妻籠宿 ③ 中山道の海野宿 ④ 山陰道の神辺宿 40

日本地理—1 (解答番号 ~) 平成 24 年度

各問題に対する解答は配付したマークシートの解答欄にマークすること。例えば と表示のある問題に対して⑤と解答する場合は、解答番号 の解答欄の⑤にマークすること。

1 日本の気候に関する次の文章を読んで、各問いに答えなさい。(各 2 点×10=20 点)

日本の冬は(1)の気圧配置のもと、(2)太平洋側では乾燥・晴天、日本海側では多雪という対照的な天候があらわれる。シベリア寒気団からの季節風が日本海の暖流である(3)の上を吹くと、海面から大量の水蒸気が供給され、雪雲が発達して脊梁山脈の日本海側に大雪を降らせる。春と秋は(4)と低気圧が交互に通過し、天気は周期的に変化する。6月から7月には、(6)梅雨前線が日本付近に停滞し、曇りや雨の日が多い。梅雨前線が北太平洋高気圧の発達によって北上して消滅すると、(7)高温多湿の夏が到来する。北太平洋高気圧が日本付近に張り出しつづけると、長く暑い夏となる。他方、梅雨前線がとどまり、(5)が発達すると、北日本の太平洋側に北東から(8)と呼ばれる冷たい湿った気流が吹いて日照不足となり、稲などの冷害をまねく。初秋には(9)が停滞し、長雨になりやすい。台風が接近すると、(10)日本列島各地における山地・山脈の南東斜面で集中豪雨となることが多い。秋も後半になると、秋晴れの日が多くなり、過ごしやすい。

問1 (1)に入る気圧配置として、最も適当なものはどれか、次の①～④から選びなさい。

- ① 南高北低 ② 北高南低 ③ 西高東低 ④ 東高西低

問2 下線(2)に関連して、冬季において乾燥・晴天の場所として適当でないのはどこか、次の①～④から選びなさい。

- ① 水戸 ② 宇都宮 ③ 前橋 ④ 金沢

問3 (3)に入る海流として、最も適当なものはどれか、次の①～④から選びなさい。

- ① 対馬海流 ② 黒潮 ③ 親潮 ④ 北太平洋海流

問4 (4)と(5)に入る語句として、最も適当なものはどれか、次の①～④からそれぞれ選びなさい。

- ① 移動性高気圧 ② 北太平洋高気圧 ③ オホーツク海高気圧 ④ シベリア高気圧

問5 下線(6)に関連して、梅雨前線の影響を受けない地域として最も適当なものはどれか、次の①～④から選びなさい。

- ① 九州 ② 四国 ③ 東北 ④ 北海道

問6 下線(7)に関連して、夏季の高温多湿の気候として最も適当な場所はどこか、次の①～④から選びなさい。

- ① 軽井沢 ② 白馬 ③ 熊谷 ④ 蒜山

問7 (8)に入る語句として、最も適当なものはどれか、次の①～④から選びなさい。

- ① 六甲おろし ② 赤城おろし ③ やませ ④ フェーン


問8 (9)に入る語句として、最も適当なものはどれか、次の①～④から選びなさい。

- ① 梅雨前線 ② 温暖前線 ③ 寒冷前線 ④ 秋雨前線

問9 下線(10)に関連して、集中豪雨の被害が多い場所として適当でない場所はどこか、次の①～④から選びなさい。

- ① 出雲 ② 尾鷲 ③ 室戸 ④ 都城

2 a) から c) は日本の主要な観光地の写真とそれに関するガイドの説明である。それらを参照しながら、各問いに答えなさい。(各 3 点×10=30 点)



a) 奈良時代に造立された大仏は、銅製の阿弥陀像で、日本を代表する仏像彫刻として、^①国宝に指定されています。また、この地区は歴史的風土特別保存地区として、^②建長寺や円覚寺、および鶴岡八幡宮とともに地域の観光のシンボルになっています。^③
^④

問 1 この大仏が位置する都府県名として、最も適当なものはどれか、次の①～④から選びなさい。

- ① 東京都 ② 神奈川県 ③ 京都府 ④ 奈良県

11

問 2 この地区は世界文化遺産の登録を目指しているが、それに登録されていない寺院はどれか、次の①～④から選びなさい。

- ① 法隆寺 ② 中尊寺 ③ 輪王寺 ④ 浅草寺

12

問 3 大仏に関するガイドの説明の中で、間違った説明が 1 つある。それはどれか、説明文の①～④から選びなさい。

13

問 4 この大仏への交通アクセスとして、最も適当なものはどれか、次の①～④から選びなさい。

- ① 江ノ島電鉄 ② JR 横須賀線 ③ 近鉄奈良線 ④ 京阪電鉄宇治線

14



b) ここは安曇野市の穂高地区です。穂高地区では、南アルプスの雪解け水が、^①湧水となり、その清らかで豊かな水を利用してワサビが栽培されています。ワサビ田はアルプスの雄大な風景と山麓斜面の、^②扇状地に点在する、^③ソバの畑とともに地域の観光名所になっています。^④

問 5 写真のワサビ田が立地する県として、最も適当なものはどれか、次の①～④から選びなさい。

- ① 静岡県 ② 山梨県 ③ 長野県 ④ 岐阜県

15

問 6 穂高地区のワサビ田に関するガイドの説明の中で、間違った説明が 1 つある。それはどれか、説明文の①～④から選びなさい。

16

問 7 写真でみるように、この地区のワサビ栽培の特徴として、最も適当なものはどれか、次の①～④から選びなさい。

- ① 畑ワサビの栽培 ② 水ワサビの栽培 ③ 西洋ワサビの栽培 ④ 自生ワサビの栽培

17



c) 旧脇町(現在の徳島県美馬市脇町)は、江戸時代から明治時代にかけて、^①藍商の町として栄えました。その名残として商家の、^②1階屋根と 2 階の屋根の間の両端に、^③土壁の「うだつ」があります。「うだつが上がる」などの表現があるように、商家の、^④家格を反映しています。この歴史的な町並みは地域の魅力的な観光地になっています。

問 8 この「うだつ」の役割として、最も適当なものはどれか、次の①～④から選びなさい。

- ① 防音 ② 防火 ③ 防水 ④ 防寒

18

問 9 このような町並みを保存する仕組みとして、最も適当なものはどれか、次の①～④から選びなさい。

- ① 市街化調整区域の指定 ② 重要文化財の指定 ③ 経済改革特別区域の指定 ④ 重要伝統的建造物群保存地区の選定

19

問 10 旧脇町の歴史的な町並みに関するガイドの説明の中で、間違った説明が 1 つある。それはどれか、説明文の①～④から選びなさい。

20

3 日本の工業に関する次の文章を読んで、各問いに答えなさい。(各 2 点×10=20 点)

日本では、1901 年に、⁽¹⁾八幡製鉄所が操業を開始して以来、重工業化が進められ、1930 年代には重工業品の生産額が軽工業品の生産額を上回った。第 2 次世界大戦後は鉄鋼やアルミニウムなどのような基礎素材型工業に重点をおく経済復興が行われ、1960 年代末までには太平洋ベルトに、⁽²⁾銑鋼一貫製鉄所や⁽³⁾石油化学コンビナートが建ち並んだ。1970 年代以降は、⁽⁴⁾自動車、⁽⁵⁾電機・⁽⁶⁾電子などの加工組立型工業が台頭して、高度な技術力や開発力をもつ⁽⁷⁾大都市圏の工場と、豊富な労働力をもつ地方の工場とが補い合うかたちで工場立地が行われた。地方では、進出工場を拠点として、⁽⁸⁾が集まる生産構造がつけられた。一方、各地の⁽⁹⁾地場産業も、地域社会を基盤として発達してきた。日本の工業は、1991 年に出荷額や従業者数で頂点に達したが、その後は、繊維・衣服工業や電機・電子工業などで大幅に雇用が減るなど、⁽¹⁰⁾グローバル化の影響を受けるようになった。

問 1 下線 (1) に関連して、八幡製鉄所が立地する県として、最も適当なものはどれか、次の①～④から選びなさい。
 ① 千葉県 ② 愛知県 ③ 兵庫県 ④ 福岡県 21

問 2 下線 (2) に関連して、銑鋼一貫製鉄所が立地している太平洋ベルトの場所として、最も適当なものはどれか、次の①～④から 1 つ選びなさい。
 ① 苫小牧市 ② 君津市 ③ 沼津市 ④ 佐世保市 22

問 3 下線 (3) に関連して、石油化学コンビナートが立地している太平洋ベルトの場所として、最も適当なものはどれか、次の①～④から選びなさい。
 ① いわき市 ② 四日市市 ③ 和歌山市 ④ 今治市 23

問 4 下線 (4) に関連して、自動車の組立型工場が立地している場所として、適当でないものはどれか、次の①～④から選びなさい。
 ① 高崎市 ② 浜松市 ③ 豊田市 ④ 荻田町 24

問 5 下線 (5) に関連して、電機の組立型工場が立地している場所として、最も適当なものはどれか、次の①～④から選びなさい。
 ① 鶴岡市 ② 福井市 ③ 門真市 ④ 佐賀市 25

問 6 下線 (6) に関連して、電子の組立工場が立地している場所として、最も適当なものはどれか、次の①～④から選びなさい。
 ① 能代市 ② 諏訪市 ③ 宇和島市 ④ 八代市 26

問 7 下線 (7) に関連して、日本の三大都市圏として、適当でないものはどれか、次の①～④から選びなさい。
 ① 首都圏 ② 中京圏 ③ 近畿圏 ④ 北九州圏 27

問 8 (8) に入る語句として、最も適当なものはどれか、次の①～④から選びなさい。
 ① 原料供給地 ② 卸売団地 ③ 研究開発機関 ④ 下請工場 28

問 9 下線 (9) に関連して、地場産業の場所と生産品の組み合わせで、最も適当なものはどれか、次の①～④から選びなさい。
 ① 盛岡市の漆器 ② 輪島市の鉄器 ③ 丸亀市のうちわ ④ 日田市の餅 29

問 10 下線 (10) に関連して、グローバル化の現象として、適当でないものはどれか、次の①～④から選びなさい。
 ① 外国人労働者の増加 ② 産業空洞化の進展 ③ 多国籍企業の台頭 ④ ワークシェアリングの拡大 30

4 以下の国土地理院発行の5万分の1地形図(平成15年発行「沼田」を1.5倍に拡大)を見ながら、各問いに答えなさい。
(各3点×10=30点)



- 問1 沼田市の市街地が立地する地形として、最も適当なものはどれか、次の①～④から選びなさい。
① 台地 ② 低地 ③ 火山斜面 ④ 自然堤防 **31**
- 問2 JR沼田駅から市役所までの距離として、最も適当なものはどれか、次の①～④から選びなさい。
① 1km ② 2km ③ 4km ④ 10km **32**
- 問3 上沼須町の対岸に位置する糸井付近でみられる地形の特徴として、最も適当なものはどれか、次の①～④から選びなさい。
① 後背湿地 ② 氾濫原 ③ 河岸段丘 ④ 三角州 **33**
- 問4 沼須町付近の地図記号 √ で示された土地で栽培されている作物として、最も適当なものはどれか、次の①～④から選びなさい。
① コンニャク ② 茶 ③ 稲 ④ リンゴ **34**
- 問5 地図記号には、文と㊦がある。そのうち㊦が意味するものとして、最も適当なものはどれか、次の①～④から選びなさい。
① 小学校 ② 中学校 ③ 高等学校 ④ 大学 **35**
- 問6 地形図東側の火山斜面に敷設された自動車道路の名称として、最も適当なものはどれか、次の①～④から選びなさい。
① 常磐自動車道 ② 東北自動車道 ③ 関越自動車道 ④ 中央自動車道 **36**
- 問7 地形図東側の火山斜面を形成する火山の名称として、最も適当なものはどれか、次の①～④から選びなさい。
① 浅間山 ② 赤城山 ③ 富士山 ④ 白根山 **37**
- 問8 沼田市街地に位置する城跡の戦国時代の城主として、最も適当なものはどれか、次の①～④から選びなさい。
① 真田氏 ② 伊達氏 ③ 毛利氏 ④ 織田氏 **38**
- 問9 図中 JR の鉄道路線と並行して走る江戸時代の街道の名称として、最も適当なものはどれか、次の①～④から選びなさい。
① 北国街道 ② 中山道 ③ 日光街道 ④ 三国街道 **39**
- 問10 沼田市街地の西側を流れる河川の名称として、最も適当なものはどれか、次の①～④から選びなさい。
① 千曲川 ② 鬼怒川 ③ 利根川 ④ 渡良瀬川 **40**

日本地理—1 (解答番号 1 ~ 10) 平成 25 年度

各問題に対する解答は配付したマークシートの解答欄にマークすること。例えば 20 と表示のある問題に対して⑤と解答する場合は、解答番号 20 の解答欄の⑤にマークすること。

1 日本の地形に関する次の文章を読んで、各問いに答えなさい。 (各 2 点×10=20 点)

日本は、周囲を太平洋、東シナ海、(1)、オホーツク海に囲まれた弧状列島である。日本列島は太平洋プレート、(2)、北アメリカプレート、ユーラシアプレートという4つのプレートが集まる世界のなかで地殻が最も不安定な地域の一つである。そのため、(3)地震、火山の噴火、(4)などの自然災害を受けやすい。プレートとプレートの境界には(5)やトラフという深さ1,000mを超える細長い溝状の地形があり、その西側には火山が列状に連なっている。火山の中には(6)活火山も多い。

日本は山がちな国で、総面積の(7)を山地が占めている。日本列島は、新期造山帯の一つである(8)に位置しており、安定陸塊や古期造山帯と比べて山地の隆起する速度は大きい。また、年降水量が多く、短期間に集中する強い雨がみられるため、(9)河川によって運搬・排出される土砂の量は多くなり、山地は侵食される。しかも、日本の国土が狭く山がちなため、(10)河川の勾配は急である。

問1 (1)に入る海洋の名称として、最も適当なものはどれか、次の①～④から選びなさい。

- ① 黄海 ② インド洋 ③ 日本海 ④ 北海 1

問2 (2)に入るプレートの名称として、最も適当なものはどれか、次の①～④から選びなさい。

- ① フィリピン海プレート ② インド・オーストラリアプレート ③ 黄海プレート ④ オホーツク海プレート 2

問3 下線(3)に関連して、プレートの境界で起こった地震として、最も適当なものはどれか、次の①～④から選びなさい。

- ① 鳥取県西部地震(2000年) ② 能登半島地震(2007年) ③ 新潟県中越地震(2004年) ④ 東北地方太平洋沖地震(2011年) 3

問4 (4)に入る自然災害として、最も適当なものはどれか、次の①～④から選びなさい。

- ① 台風 ② 地すべり ③ 洪水 ④ 高潮 4

問5 (5)に入る語句として、最も適当なものはどれか、次の①～④から選びなさい。

- ① 海溝 ② 大陸棚 ③ V字谷 ④ U字谷 5

問6 下線(6)に関連して、活火山として最も適当なものはどれか、次の①～④から選びなさい。

- ① 高尾山(東京都) ② 伊吹山(滋賀県・岐阜県) ③ 三瓶山(島根県) ④ 石槌山(愛媛県) 6

問7 (7)に入る割合として、最も適当な数字はどれか、次の①～④から選びなさい。

- ① 約10% ② 約25% ③ 約50% ④ 約75% 7

問8 (8)に入る語句として、最も適当なものはどれか、次の①～④から選びなさい。

- ① 環太平洋造山帯 ② アルプス・ヒマラヤ造山帯 ③ シベリア楯状地 ④ フォッサマグナ 8

問9 下線(9)に関連して、河川がつくる地形として、最も適当でないものはどれか、次の①～④から選びなさい。

- ① 谷底平野 ② 河岸段丘 ③ 自然堤防 ④ 裾礫 9

問10 下線(10)に関連して、次の①～④のうち河川の勾配が最も急なものはどれか。

- ① 常願寺川 ② 淀川 ③ 北上川 ④ 石狩川 10

2 a) から c) の写真とそれぞれに対応するガイドの説明文を参照しながら、各問いに答えなさい。(各 3 点×10=30 点)



a) 第2次世界大戦末に投下された原子爆弾によって破壊されたこの建物は、^①太田川の右岸に位置し、原爆ドームとして世界的に知られ、^②世界遺産の一つとして、対岸の^③平和記念公園とともに戦争の悲惨さを今に伝えています。

問 1 原爆ドームが位置する県として、最も適当なものはどれか、次の①～④から選びなさい。

- ① 兵庫県 ② 広島県 ③ 福岡県 ④ 長崎県

11

問 2 原爆ドームとともにこの県で世界文化遺産の登録を受けている施設はどれか、次の①～④から選びなさい。

- ① 姫路城 ② 大宰府天満宮 ③ グラバー園 ④ 巖島神社

12

問 3 原爆ドームに関するガイドの説明の中で、間違った説明が一つある。それはどれか、説明文の①～④から選びなさい。

13

問 4 この写真の都市で味わう「ご当地グルメ」として、最も適当なものはどれか、次の①～④から選びなさい。

- ① お好み焼き ② たこ焼き ③ ちゃんぽん ④ 明太子

14



b) ここは大涌谷という場所で、^①火山の噴煙や硫黄を見ることができるようになっています。このように、火山活動が実際に見られることから^②エコパークにも指定されています。また、^③地熱と温泉を利用した「ゆで卵」は硫黄と鉄分が反応して卵の表面に黒くなって付着し、延命の^④黒たまごとして名物になっています。

問 5 大涌谷が位置する県として、最も適当なものはどれか、次の①～④から選びなさい。

- ① 静岡県 ② 山梨県 ③ 長野県 ④ 神奈川県

15


問 6 大涌谷に関するガイドの説明の中で、間違った説明が一つある。それはどれか、説明文の①～④から選びなさい。

16

問 7 大涌谷の近くに位置する火山性の湖として、最も適当なものはどれか、次の①～④から選びなさい。

- ① 中禅寺湖 ② 河口湖 ③ 芦ノ湖 ④ 白樺湖

17



c) 酒田市の山居倉庫は、河川の河口に立地して^①舟運の拠点となり、^②海産物の倉庫としての役割を果たしてきました。^③土蔵づくりや二重構造の屋根、あるいは建物の西側に植栽された^④日よけや風よけのケヤキの樹木など、倉庫を低温管理をするための工夫が随所に施されています。

問 8 山居倉庫が立地する県として、最も適当なものはどれか、次の①～④から選びなさい。

- ① 秋田県 ② 山形県 ③ 新潟県 ④ 富山県

18

問 9 山居倉庫に関するガイドの説明の中で、間違った説明が一つある。それはどれか、説明文の①～④から選びなさい。

19

問 10 山居倉庫が立地する河口の河川名として、最も適当なものはどれか、次の①～④から選びなさい。

- ① 雄物川 ② 信濃川 ③ 神通川 ④ 最上川

20

3 日本の都市と農村の諸問題に関する次の文章を読んで、各問いに答えなさい。 (各 2 点×10=20 点)

日本の⁽¹⁾都市と農村は、いつの時代にも変革にさらされてきた。とりわけ第2次世界大戦後の変化は激しいもので、(2)には農山村から大都市への人口移動が著しかった。この移動は、⁽⁴⁾都市部を中心とする経済復興と産業の高度化に伴って人手不足が顕著となり、⁽³⁾農村から都市への人口移動が急速に広まったためであった。1950年から1975年の間に東京大都市圏と大阪大都市圏、および(5)大都市圏の社会増加は、1,100万人にのぼった。そのため、⁽⁶⁾農山村からの労働力の流出などによって過疎地域が生じ、出稼ぎ問題や(7)といった過疎問題がおきた。これに対して、農山村では土地改良事業や農作業の機械化とともに、⁽⁸⁾工場の誘致や道路建設、⁽⁹⁾過疎地域の振興対策などが進められた。一方、大都市では人口増加に社会資本の投入が追いつかず、⁽¹⁰⁾環境汚染や公害、地価の高騰、住宅難、交通の混雑といったさまざまな過密問題がおこった。そのため都市では、地方への工場分散や都市計画の実施などによって、課題を克服する努力が続けられた。

問1 下線(1)に関連して、城下町から発展した都市として、最も適当なものはどれか、次の①～④から選びなさい。
① 札幌市 ② 新潟市 ③ 浜松市 ④ 神戸市 21

問2 (2)に入る語句として、最も適当なものはどれか、次の①～④から選びなさい。
① 高度経済成長期 ② 経済低成長期 ③ バブル経済期 ④ バブル経済崩壊期 22

問3 下線(3)の現象によってもたらされた大都市の性格として、最も適当なものはどれか、次の①～④から選びなさい。
① 少子化 ② 一極集中化 ③ 空洞化 ④ 多就業化 23

問4 下線(4)に関連して、都市とそれを代表する産業の組み合わせとして、適当でないものはどれか、次の①～④から選びなさい。
① 豊田市—自動車工業 ② 川口市—鑄物工業 ③ 堺市—製鉄業 ④ 北九州市—醸造業 24

問5 (5)に入る大都市圏として、適当なものはどれか、次の①～④から選びなさい。
① 札幌 ② 横浜 ③ 名古屋 ④ 広島 25

問6 下線(6)に関連して、関東地方の過疎市町村として、適当でないものはどれか、次の①～④から選びなさい。
① 群馬県嬭恋村 ② 茨城県大子町 ③ 栃木県那須町 ④ 東京都奥多摩町 26

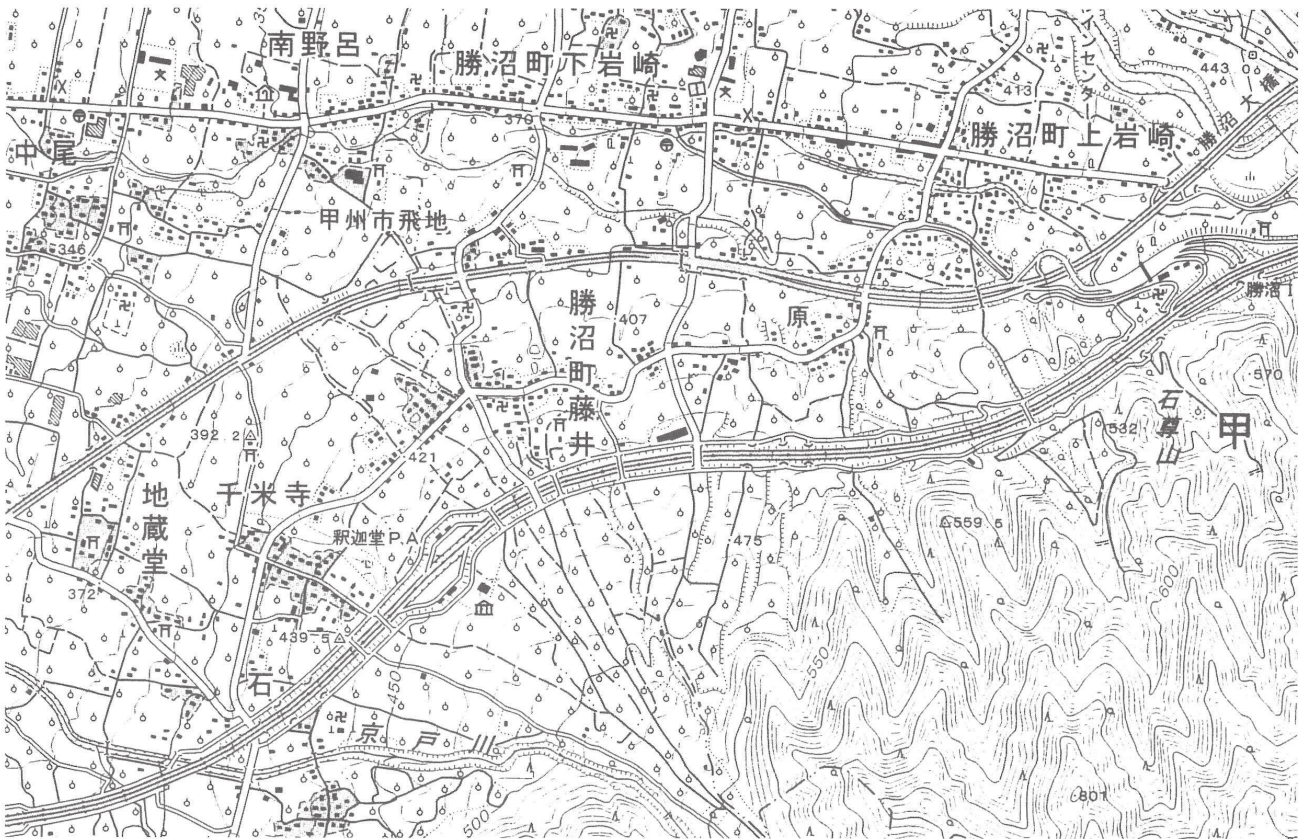
問7 (7)に入る過疎問題として、適当でないのはどれか、次の①～④から選びなさい。
① 離農離村 ② 治安の悪化 ③ 限界集落化 ④ 人口の高齢化 27

問8 下線(8)に関連して、農山村に立地した工業の組み合わせで、最も適当なものはどれか、次の①～④から選びなさい。
① 諏訪市—精密機械 ② 鯖江市—織物 ③ 大和郡山市—食品 ④ 米沢市—陶磁器 28

問9 下線(9)に関連して、過疎地域の地域振興策として、適当でないものはどれか、次の①～④から選びなさい。
① 生産調整政策 ② 地産地消運動 ③ 一村一品運動 ④ 観光拠点づくり 29

問10 下線(10)に関連して、過密問題を解消するために大都市の近郊にニュータウンが建設された。ニュータウンと場所の組み合わせとして、適当でないものはどれか、次の①～④から選びなさい。
① 多摩ニュータウン—東京大都市圏 ② 高蔵寺ニュータウン—名古屋大都市圏
③ 千里ニュータウン—大阪大都市圏 ④ 港北ニュータウン—北九州大都市圏 30

4 国土地理院発行 2 万 5,000 分の 1 地形図「石和」(平成 18 年発行 1.5 倍に拡大)を見ながら、各問いに答えなさい。
(各 3 点×10=30 点)



- 問 1 地図の中央に位置する勝沼町藤井の南に広がる地形として、最も適当なものはどれか、次の①～④から選びなさい。
① 河岸段丘 ② 扇状地 ③ 火山斜面 ④ 自然堤防 31
- 問 2 勝沼町藤井の地形上に広がる土地利用として、最も適当と考えられるものはどれか、次の①～④から選びなさい。
① リンゴ園 ② ミカン園 ③ 梨園 ④ ブドウ園 32
- 問 3 勝沼町藤井を通る自動車道路の名称として、最も適当なものはどれか、次の①～④から選びなさい。
① 常磐自動車道 ② 北関東自動車道 ③ 中央自動車道 ④ 関越自動車道 33
- 問 4 高速道路の釈迦堂 P A (パーキングエリア) の東に隣接した施設として、最も適当なものはどれか、次の①～④から選びなさい。
① 老人ホーム ② 図書館 ③ 病院 ④ 博物館 34
- 問 5 釈迦堂 P A の位置から富士山の方向として、最も適当なものはどれか、次の①～④から選びなさい。
① 東 ② 西 ③ 南 ④ 北 35
- 問 6 釈迦堂 P A から勝沼町下岩崎の小学校まで散策した。散策距離として、最も適当なものはどれか、次の①～④から選びなさい。なお、上の図は、2 万 5,000 分の 1 地形図を 1.5 倍に拡大しています。
① 約 2km ② 約 4km ③ 約 6km ④ 約 8km 36
- 問 7 釈迦堂 P A と勝沼町下岩崎との比高として、最も適当なものはどれか、次の①～④から選びなさい。
① 約 20m ② 約 80m ③ 約 140m ④ 約 200m 37
- 問 8 勝沼町下岩崎における地図記号卍が示すものとして、最も適当なものはどれか、次の①～④から選びなさい。
① 裁判所 ② 警察署 ③ 神社 ④ 寺院 38
- 問 9 勝沼町下岩崎を通る道路は江戸時代の旧街道である。その名称として、最も適当なものはどれか、次の①～④から選びなさい。
① 北国街道 ② 中山道 ③ 甲州街道 ④ 三国街道 39
- 問 10 勝沼町下岩崎の集落形態として、最も適当なものはどれか、次の①～④から選びなさい。
① 街村 ② 散村 ③ 塊村 ④ 円村 40

日本地理—1 (解答番号 ~) 平成 26 年度

各問題に対する解答は配付したマークシートの解答欄にマークすること。例えば と表示のある問題に対して⑤と解答する場合は、解答番号 の解答欄の⑤にマークすること。

1 日本の気候に関する次の文章を読んで、各問いに答えなさい。 (各 2 点×10=20 点)

日本の大部分は (1) 気候に属し、1 年間の気候変化がはっきりとしており、目立った乾季がない。また、日本列島は偏西風帯に位置するため、(2) 春や秋には低気圧や高気圧が (3) 周期的に日本周辺を通過する。それにもなって天気も変わるので、毎日の (4) 天気予報は欠かせない。日本は南北に細長いため、同じ時期であっても気候には地域差がある。たとえば、(5) 5 月の札幌では春が始まったころであるが、同じ時期に那覇の気温は 20℃ をこえ、海水浴ができるくらいである。また、日本の山がちな地形も気候に大きく影響を与えている。冬には (6) 側を中心に降雪がみられるが、このときの太平洋側では晴れているところが多いなど、同じ日本国内であっても気候の地域差は大きい。日本の年平均降水量は約 (7) mm であり、世界の平均値の 2 倍である。さらに、日本では短時間に降る雨の量が多く、これまでに 1 日に降った雨の気象庁観測地点別の最高記録は (8) で 2011 年 7 月に観測された 851.5mm で、世界でも有数である。これは時に日本に強い雨をもたらす (9) や台風などが、山がちな地形などの影響を受けて、激しい雨を持続させるためである。そして、(10) このような豪雨は狭い場所に集中して降る場合が多い。

問 1 (1) に入る気候の名称として、最も適当なものはどれか、次の①～④から選びなさい。

- ① 熱帯雨林 ② 温暖湿潤 ③ 西岸海洋性 ④ 冷帯湿潤

問 2 下線 (2) に関連して、春や秋にみられる高気圧として、最も適当なものはどれか、次の①～④から選びなさい。

- ① 北太平洋高気圧 ② シベリア高気圧 ③ オホーツク海高気圧 ④ 移動性高気圧

問 3 (3) に入る語句として、最も適当なものはどれか、次の①～④から選びなさい。

- ① 西から東に ② 東から西に ③ 南から北に ④ 北から南に

問 4 下線 (4) に関連して、天気予報の情報源としてアメダスの観測データは重要である。アメダスの観測によって得られないデータとして、最も適当なものはどれか、次の①～④から選びなさい。

- ① 気温 ② 降水量 ③ 湿度 ④ 日照時間

問 5 下線 (5) に関連して、5 月の札幌の月平均気温として、最も適当なものはどれか、次の①～④から選びなさい。

- ① 0.6℃ ② 7.1℃ ③ 12.4℃ ④ 16.7℃

問 6 (6) に入る語句として、最も適当なものはどれか、次の①～④から選びなさい。

- ① 日本海 ② 瀬戸内海 ③ 東シナ海 ④ 黄海

問 7 (7) に入る数値として、最も適当な数字はどれか、次の①～④から選びなさい。

- ① 500 ② 900 ③ 1300 ④ 1700

問 8 (8) に入る地名として、最も適当なものはどれか、次の①～④から選びなさい。

- ① 高知県魚築瀬 ② 山口県柳井 ③ 新潟県糸魚川 ④ 福島県桧枝岐

問 9 (9) に入る語句として、最も適当なものはどれか、次の①～④から選びなさい。

- ① フェーン ② やませ ③ 梅雨前線 ④ 竜巻

問 10 下線 (10) に関連して、集中豪雨によっておこる災害として適当でないものはどれか、次の①～④から選びなさい。

- ① 火砕流 ② 土石流 ③ 地すべり ④ 鉄砲水

2 a) から c) は日本の主要な観光地の写真とそれに関するガイドの説明である。それらを参照しながら、各問いに答えなさい。(各 3 点×10=30 点)



a) この大仏殿は、① 興福寺の伽藍の中央に位置し、② 江戸時代の宝永年間に再建されたもので、③ 日本の国宝に指定されている。大仏殿の内部には、この寺の本尊である ④ 盧舎那仏坐像が安置されている。

問 1 この大仏殿が位置する府県として、最も適当なものはどれか、次の①～④から選びなさい。

- ① 兵庫県 ② 京都府 ③ 奈良県 ④ 滋賀県

11

問 2 この大仏殿とともに世界文化遺産の登録を受けている施設はどれか、次の①～④から選びなさい。

- ① 春日大社 ② 伊勢神宮 ③ 熱田神宮 ④ 三嶋大社

12

問 3 大仏殿に関するガイドの説明の中で、間違った説明が 1 つある。それはどれか、説明文の①～④から選びなさい。

13

問 4 大仏殿の見学後、この観光地で味わう郷土食として、最も適当なものはどれか、次の①～④から選びなさい。

- ① 鮎ずし ② せんべい汁 ③ 茶がゆ ④ 五平餅

14



b) ここは柴又の ① 帝釈天で、山田洋次監督の映画 ② 「男はつらいよ」の主人公の故郷としても知られている。③ 城下町の参道には、名物の ④ 草だんごや塩せんべいを売る店や、川魚の料亭などが軒を連ねている。参道の突き当りに二天門が建つ風景は、いつの時代においても心に残る風景になっている。

問 5 この観光地が位置する東京都の区として、最も適当なものはどれか、次の①～④から選びなさい。

- ① 新宿区 ② 葛飾区 ③ 大田区 ④ 墨田区

15

問 6 この観光地に関するガイドの説明の中で、間違った説明が 1 つある。それはどれか、説明文の①～④から選びなさい。

16

問 7 この観光地の近くにあり、演歌のタイトルにもなった渡し場として、最も適当なものはどれか、次の①～④から選びなさい。

- ① 六郷の渡し ② 佃の渡し ③ 矢口の渡し ④ 矢切の渡し

17



c) 中津城は、① 周防灘を臨む中津川の河口に位置し、豊臣秀吉の軍師であった ② 竹中半兵衛によって築かれた。堀には海水が引き込まれ、今治城や高松城と並ぶ三大 ③ 水城の一つに数えられている。中津城の石垣は、自然石の特徴を生かす方法で積まれており、それは ④ 安土桃山時代の最も高度な技術でもあった。

問 8 中津城が位置する県として、最も適当なものはどれか、次の①～④から選びなさい。

- ① 福岡県 ② 大分県 ③ 熊本県 ④ 宮崎県

18

問 9 中津城に関するガイドの説明の中で、間違った説明が 1 つある。それはどれか、説明文の①～④から選びなさい。

19

問 10 中津城の歴代の城主として、最も適当なものはどれか、次の①～④から選びなさい。

- ① 細川忠興 ② 加藤清正 ③ 福島正則 ④ 浅野長政

20

3 日本の食料の課題に関する次の文章を読んで、各問いに答えなさい。 (各 2 点×10=20 点)

日本は、⁽¹⁾先進国の中で食料自給率が最も低い国の一つである。主食である(2)の自給率はほぼ 100%であるが、パンや麺類の原料となる(3)や、納豆・醤油・味噌・豆腐の原料となる大豆の自給率は(4)%程度である。肉類の自給率は 50%ほどであるが、牛や豚の飼料となる(5)などは、その多くを輸入に頼っている。

日本では、⁽⁶⁾農家一戸あたりの経営耕地面積が狭く、農産物の生産費が高いため、外国産農産物との価格面での競争は難しい。また、農業による収入は他産業による収入に比べて低く、農業就業人口は減少している。都市近郊では都市化の圧力により、農地が住宅や工業用地などに変わっている場所が多く、都市から離れた農山村では過疎化により⁽⁷⁾耕作放棄地も多い。

日本が食料を輸入する際には、船や飛行機などを必要とし、輸送距離も長い。そのため、⁽⁸⁾フードマイレージが大きく、環境への負担も大きい。また、農産物の栽培に必要な水の使用量の⁽⁹⁾バーチャルウォーターからみても世界的な不均衡が生じる。生産地と消費地が近い(10)などの国産の食料の確保に対する期待は大きく、国内での農業生産性を向上させ、食料自給率を高めることが求められている。

問 1 下線(1)に関連して、日本と同様に、食料自給率の低い国として、最も適当なものはどれか、次の①～④から選びなさい。

- ① カナダ ② フランス ③ オーストラリア ④ 韓国 21

問 2 (2)に入る食料として、最も適当なものはどれか、次の①～④から 1 つ選びなさい。

- ① 小麦 ② 米 ③ トウモロコシ ④ ジャガイモ 22

問 3 (3)に入る食料として、最も適当なものはどれか、次の①～④から 1 つ選びなさい。

- ① 小麦 ② 米 ③ トウモロコシ ④ ジャガイモ 23

問 4 (4)に入る数値として、最も適当なものはどれか、次の①～④から選びなさい。

- ① 10 ② 20 ③ 30 ④ 40 24

問 5 (5)に入る農産物として、最も適当なものはどれか、次の①～④から選びなさい。

- ① ジャガイモ ② サツマイモ ③ トウモロコシ ④ 米 25

問 6 下線(6)に関連して、近年の日本における農家一戸あたりの経営耕地面積の平均として、最も適当なものはどれか、次の①～④から選びなさい。

- ① 1.1ha ② 2.3ha ③ 7.2ha ④ 14.1ha 26

問 7 下線(7)に関連して、農地に占める耕作放棄地の割合が最も小さい道県はどれか、次の①～④から選びなさい。

- ① 北海道 ② 長野県 ③ 群馬県 ④ 広島県 27

問 8 下線(8)に関連して、輸入食品に係る人口一人あたりのフードマイレージの数値が低い国として、最も適当なものはどれか、次の①～④から選びなさい。

- ① 日本 ② イギリス ③ ドイツ ④ アメリカ合衆国 28

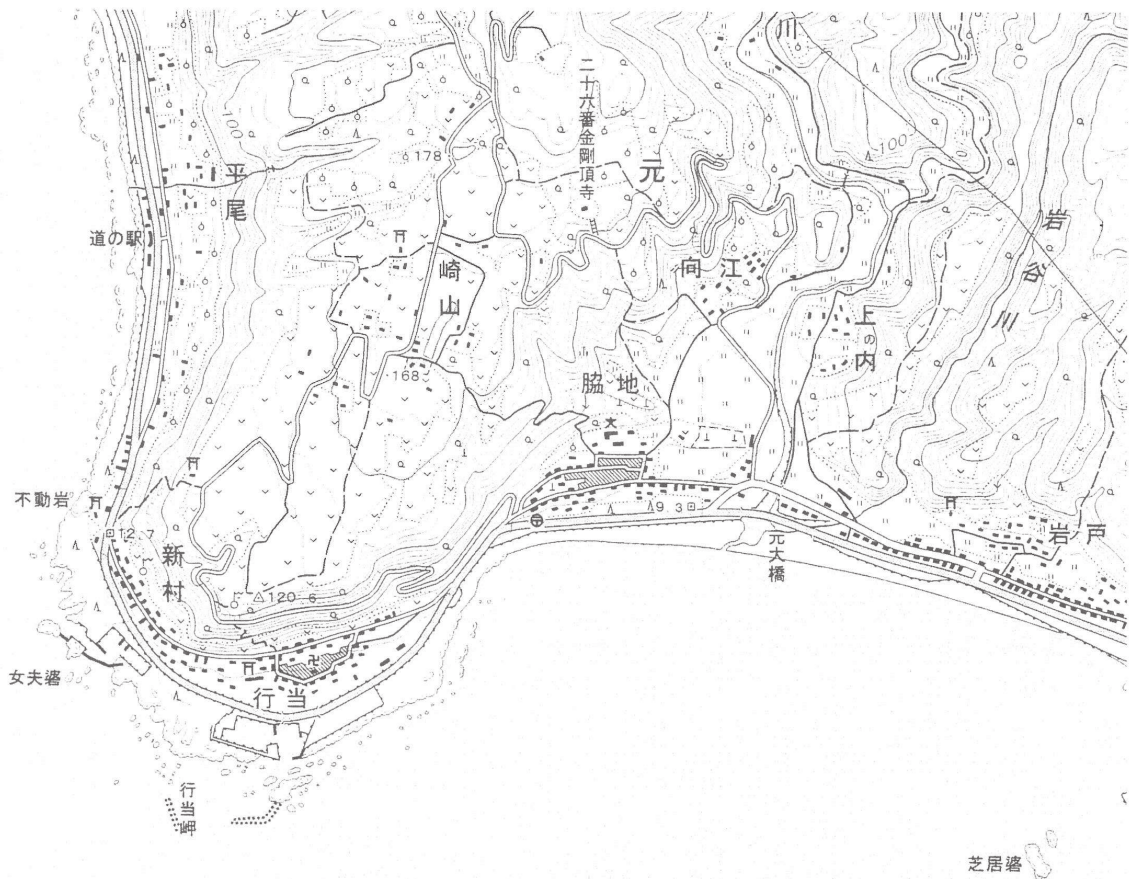
問 9 下線(9)に関連して、日本のバーチャルウォーターの輸入国として、輸入量が最も多い国はどれか、次の①～④から選びなさい。

- ① アメリカ合衆国 ② オーストラリア ③ 中国 ④ カナダ 29

問 10 (10) 入る語句として、最も適当なものはどれか、次の①～④から選びなさい。

- ① 原産地呼称制度 ② エコファーマー ③ 有機認証制度 ④ 地産地消 30

4 国土地理院発行の2万5千分の1地形図(平成18年発行「室戸岬」1.5倍に拡大)をみながら、各問いに答えなさい。
(各3点×10=30点)



- 問1 平尾集落の西に位置する「道の駅」に立って東を見ると、急斜面の崖がある。このような崖の地形として、最も適当なものはどれか、次の①～④から選びなさい。
① 崖錐 ② 海食崖 ③ 自然堤防 ④ 断層崖 31
- 問2 「道の駅」から崖の上の平坦な場所までの比高として、最も近いものはどれか、次の①～④から選びなさい。
① 50m ② 100m ③ 150m ④ 200m 32
- 問3 「道の駅」から見える崖の上に広がる平坦な地形として、最も適当なものはどれか、次の①～④から選びなさい。
① 海成段丘 ② 河岸段丘 ③ 扇状地 ④ カルデラ 33
- 問4 地形図を読み取り、「道の駅」周辺の土地利用として、適当でないものはどれか、次の①～④から選びなさい。
① 水田 ② 畑地 ③ 果樹園 ④ 桑畑 34
- 問5 「道の駅」の南に「新村」集落がある。新村集落の形態として、最も適当なものはどれか、次の①～④から選びなさい。
① 散村 ② 円村 ③ 路村 ④ 塊村 35
- 問6 「道の駅」から「行当」集落の神社まで散策した。散策距離として、最も適当なものはどれか、次の①～④から選びなさい。
① 約1.5km ② 約3km ③ 約4.5km ④ 約6km 36
- 問7 この地域の崖における林産資源の活用方法として、最も適当なものはどれか、次の①～④から選びなさい。
① なめこ生産 ② こけし生産 ③ 備長炭生産 ④ 木皿生産 37
- 問8 「脇地」集落にある地図記号⊥が示すものとして、最も適当なものはどれか、次の①～④から選びなさい。
① 公園 ② 墓地 ③ 記念碑 ④ 観光案内所 38
- 問9 室戸岬周辺は世界ジオパークに認定されている。日本国内で他に世界ジオパークに認定されているものとして、最も適当なものはどれか、次の①～④から選びなさい。
① 阿蘇ジオパーク ② 箱根ジオパーク ③ 三陸ジオパーク ④ 洞爺湖有珠山ジオパーク 39
- 問10 室戸岬への最寄りの空港として、最も適当なものはどれか、次の①～④から選びなさい。
① 徳島阿波おどり空港 ② 高松空港 ③ 松山空港 ④ 高知龍馬空港 40